

수학
중 2-2

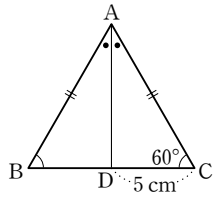
수준별 자료집 (중)

기본편 | 중간 난이도로 학교 시험 형태의 문제가 더 필요한 학생들!
중하위반 학생들의 숙제 또는 테스트용으로!

소단원별 기출 문제

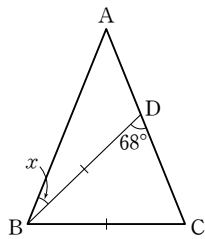
1. 삼각형의 성질	01 이등변삼각형의 성질	2	02 직각삼각형의 합동 조건	3
	03 삼각형의 외심	4	04 삼각형의 내심	5
2. 사각형의 성질	01 평행사변형	6	02 여러 가지 사각형	7
	03 여러 가지 사각형 사이의 관계	8	04 평행선과 넓이	9
3. 도형의 닮음	01 닮음의 뜻과 성질	10	02 삼각형의 닮음 조건	11
4. 닮음의 응용	01 삼각형과 평행선	12	02 평행선과 선분의 길이의 비	13
	03 삼각형의 중선과 무게중심	14	04 닮은 도형의 넓이의 비와 부피의 비	15
5. 피타고라스 정리	01 피타고라스 정리	16	02 피타고라스 정리의 성질	17
	03 피타고라스 정리의 활용	18		
6. 경우의 수	01 사건과 경우의 수	19	02 여러 가지 경우의 수	20
7. 확률	01 확률의 뜻과 성질	21	02 확률의 계산	22

01 오른쪽 그림에서 $\triangle ABC$ 는 $\overline{AB} = \overline{AC}$ 이고, \overline{AD} 는 $\angle A$ 의 이등분선이다. $\overline{CD} = 5\text{ cm}$, $\angle C = 60^\circ$ 일 때, 다음 중 옳지 않은 것은?



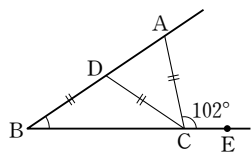
- ① $\angle B = 60^\circ$
- ② $\angle ADC = 90^\circ$
- ③ $\overline{BD} = 5\text{ cm}$
- ④ $\overline{AC} = 10\text{ cm}$
- ⑤ $\angle BAD = 20^\circ$

02 오른쪽 그림과 같이 $\overline{AB} = \overline{AC}$ 인 이등변삼각형 ABC 에서 $\overline{BC} = \overline{BD}$ 이고 $\angle CDB = 68^\circ$ 일 때, $\angle x$ 의 크기는?

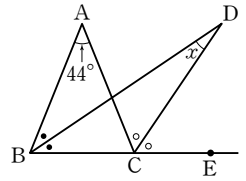


- ① 22°
- ② 24°
- ③ 26°
- ④ 28°
- ⑤ 30°

03 오른쪽 그림에서 $\overline{DB} = \overline{CD} = \overline{CA}$ 이고 $\angle ACE = 102^\circ$ 일 때, $\angle B$ 의 크기를 구하시오.

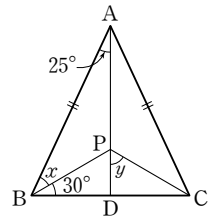


04 오른쪽 그림과 같이 $\overline{AB} = \overline{AC}$ 인 이등변삼각형 ABC 에서 $\angle B$ 의 이등분선과 $\angle C$ 의 외각의 이등분선의 교점을 D 라 하자. $\angle A = 44^\circ$ 일 때, $\angle x$ 의 크기는?

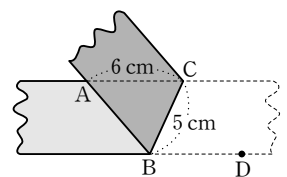


- ① 22°
- ② 25°
- ③ 28°
- ④ 30°
- ⑤ 32°

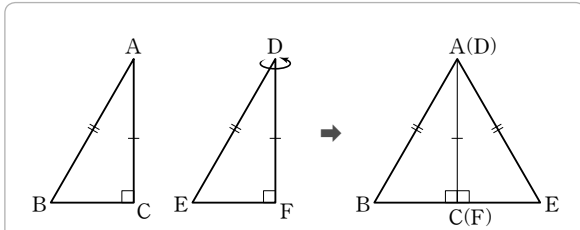
05 오른쪽 그림에서 $\triangle ABC$ 는 $\overline{AB} = \overline{AC}$ 인 이등변삼각형이다. \overline{AD} 는 $\angle A$ 의 이등분선이고 \overline{AD} 위의 한 점 P 에 대하여 $\angle BAP = 25^\circ$, $\angle PBD = 30^\circ$ 일 때, $\angle x + \angle y$ 의 값을 구하시오.



06 오른쪽 그림과 같이 폭이 일정한 종이 띠를 접었다. $\overline{AC} = 6\text{ cm}$, $\overline{BC} = 5\text{ cm}$ 일 때, \overline{AB} 의 길이를 구하시오.



01 다음은 「 $\angle C = \angle F = 90^\circ$ 인 두 직각삼각형 ABC와 DEF에서 $\overline{AB} = \overline{DE}$, $\overline{AC} = \overline{DF}$ 이면 $\triangle ABC \cong \triangle DEF$ 이다.」를 설명한 것이다. □ 안에 들어갈 내용으로 옳지 않은 것은?



위 그림과 같이 $\triangle DEF$ 를 뒤집어 길이가 같은 두 변 AC와 DF가 서로 겹치도록 놓으면

$\angle ACB + \angle ACE = \square$ ①

즉 세 점 B, C(F), E는 한 직선 위에 있다.

이때 $\overline{AB} = \square$ ② 이므로 $\triangle ABE$ 는 \square ③ 이다.

$\therefore \angle B = \square$ ④

$\triangle ABC$ 와 $\triangle DEF$ 에서

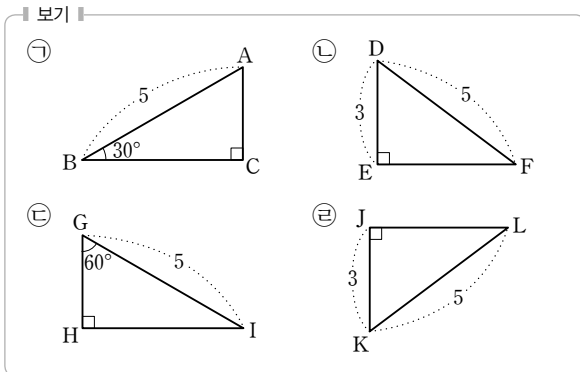
$\overline{AB} = \overline{DE}$, $\overline{AC} = \overline{DF}$

$\angle BAC = 90^\circ - \angle B = 90^\circ - \square$ ④ $= \angle EDF$

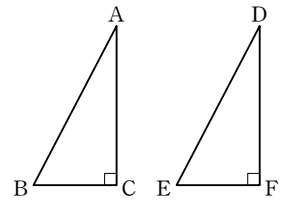
$\therefore \triangle ABC \cong \triangle DEF$ (\square ⑤ 합동)

- ① 90° ② \overline{AE} ③ 이등변삼각형
- ④ $\angle E$ ⑤ SAS

02 다음 <보기> 중 서로 합동인 직각삼각형끼리 짝 지으시오.

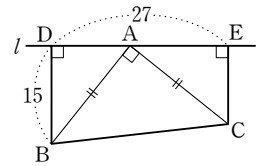


03 오른쪽 그림과 같이 $\angle C = \angle F = 90^\circ$ 인 두 직각삼각형이 합동이 되는 조건이 아닌 것은?

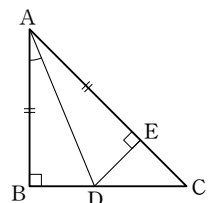


- ① $\overline{AB} = \overline{DE}$, $\overline{AC} = \overline{DF}$
- ② $\overline{AB} = \overline{DE}$, $\overline{BC} = \overline{EF}$
- ③ $\overline{BC} = \overline{EF}$, $\angle A = \angle D$
- ④ $\angle B = \angle E$, $\overline{AB} = \overline{DE}$
- ⑤ $\angle A = \angle D$, $\angle B = \angle E$

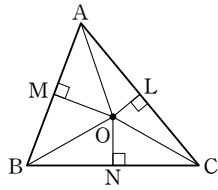
04 오른쪽 그림과 같이 $\overline{AB} = \overline{AC}$ 인 직각이등변삼각형 ABC의 두 꼭짓점 B, C에서 점 A를 지나는 직선 l에 내린 수선의 발을 각각 D, E라 하자. $\overline{BD} = 15$, $\overline{DE} = 27$ 일 때, \overline{CE} 의 길이를 구하시오.



05 오른쪽 그림과 같이 $\angle B = 90^\circ$ 인 직각이등변삼각형 ABC에서 \overline{BC} 위의 한 점 D에서 \overline{AC} 에 내린 수선의 발을 E라 하자. $\overline{AB} = \overline{AE}$ 일 때, $\angle BAD$ 의 크기를 구하시오.

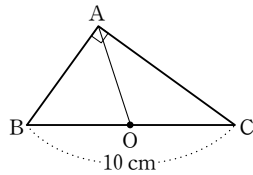


01 오른쪽 그림에서 점 O가 $\triangle ABC$ 의 외심일 때, 다음 중 옳은 것을 모두 고르면?
(정답 2개)

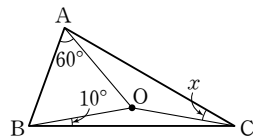


- ① $\overline{OA} = \overline{OC}$
- ② $\overline{OL} = \overline{ON}$
- ③ $\overline{CL} = \overline{CN}$
- ④ $\angle OAM = \angle OAL$
- ⑤ $\triangle OAM \cong \triangle OBM$

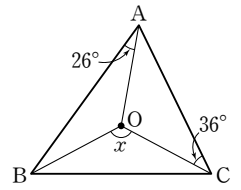
02 오른쪽 그림에서 점 O가 직각삼각형 ABC의 외심일 때, \overline{OA} 의 길이를 구하십시오.



03 오른쪽 그림에서 점 O는 $\triangle ABC$ 의 외심이다. $\angle OAB = 60^\circ$, $\angle OBC = 10^\circ$ 일 때, $\angle x$ 의 크기를 구하십시오.

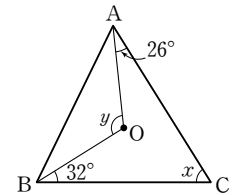


04 오른쪽 그림에서 점 O가 $\triangle ABC$ 의 외심일 때, $\angle x$ 의 크기는?

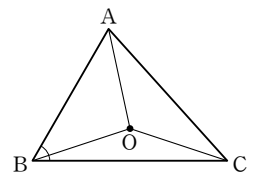


- ① 124°
- ② 122°
- ③ 120°
- ④ 118°
- ⑤ 115°

05 오른쪽 그림에서 점 O가 $\triangle ABC$ 의 외심일 때, $\angle x + \angle y$ 의 값을 구하십시오.

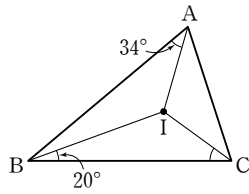


06 오른쪽 그림에서 점 O가 $\triangle ABC$ 의 외심이고 $\angle AOB : \angle BOC : \angle COA = 4 : 6 : 5$ 일 때, $\angle ABC$ 의 크기를 구하십시오.



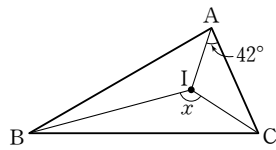
01 오른쪽 그림에서 점 I가 $\triangle ABC$ 의 내심일 때, $\angle ICB$ 의 크기는?

- ① 28° ② 30°
- ③ 32° ④ 34°
- ⑤ 36°

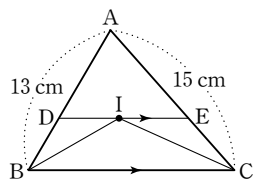


02 오른쪽 그림에서 점 I가 $\triangle ABC$ 의 내심일 때, $\angle x$ 의 크기는?

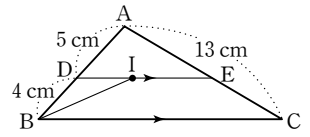
- ① 128° ② 130°
- ③ 132° ④ 134°
- ⑤ 136°



03 오른쪽 그림에서 점 I는 $\triangle ABC$ 의 내심이고 $\overline{DE} \parallel \overline{BC}$ 이다. $\overline{AB} = 13 \text{ cm}$, $\overline{AC} = 15 \text{ cm}$ 일 때, $\triangle ADE$ 의 둘레의 길이를 구하시오.

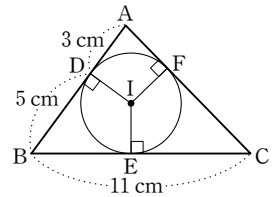


04 오른쪽 그림에서 점 I는 $\triangle ABC$ 의 내심이고 $\overline{DE} \parallel \overline{BC}$ 이다. $\overline{AD} = 5 \text{ cm}$, $\overline{DB} = 4 \text{ cm}$, $\overline{AC} = 13 \text{ cm}$ 일 때, $\triangle ADE$ 의 둘레의 길이를 구하시오.



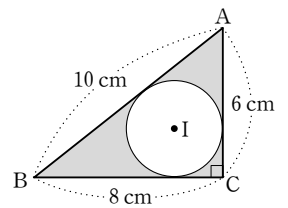
05 오른쪽 그림에서 점 I는 $\triangle ABC$ 의 내심이다. $\overline{AD} = 3 \text{ cm}$, $\overline{BD} = 5 \text{ cm}$, $\overline{BC} = 11 \text{ cm}$ 일 때, \overline{AC} 의 길이는?

- ① 8 cm ② 9 cm
- ④ 11 cm ⑤ 12 cm

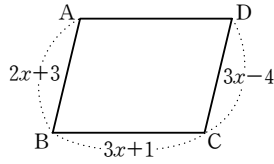


06 오른쪽 그림에서 점 I는 직각삼각형 ABC의 내심일 때, 다음을 구하시오.

- (1) 내접원의 반지름의 길이
- (2) 어두운 부분의 넓이



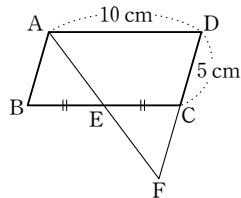
01 오른쪽 그림과 같은 평행사변형 ABCD에서 \overline{AD} 의 길이를 구하시오.



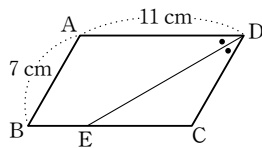
02 평행사변형 ABCD에서 $\angle B : \angle C = 2 : 3$ 일 때, $\angle A$ 의 크기는?

- ① 102° ② 104° ③ 106°
- ④ 108° ⑤ 110°

03 오른쪽 그림과 같은 평행사변형 ABCD에서 \overline{BC} 의 중점을 E라 하고, \overline{AE} 의 연장선이 \overline{DC} 의 연장선과 만나는 점을 F라 하자. $\overline{AD} = 10\text{ cm}$, $\overline{CD} = 5\text{ cm}$ 일 때, \overline{CF} 의 길이를 구하시오.

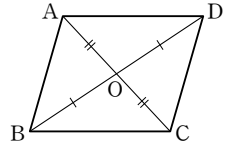


04 오른쪽 그림과 같은 평행사변형 ABCD에서 \overline{DE} 는 $\angle D$ 의 이등분선이다. $\overline{AB} = 7\text{ cm}$, $\overline{AD} = 11\text{ cm}$ 일 때, \overline{BE} 의 길이를 구하시오.



05 다음은 「 $\overline{OA} = \overline{OC}$, $\overline{OB} = \overline{OD}$ 이면 $\square ABCD$ 는 평행사변형이다.」를 설명한 것이다. □ 안에 들어갈 내용으로 옳지 않은 것은? (단, 점 O는 두 대각선의 교점)

$\triangle ODA$ 와 $\triangle OBC$ 에서
 $\overline{OA} = \overline{OC}$
 ① $\overline{OD} = \overline{OB}$
 $\angle AOD =$ ② $\angle COB$
 (맞꼭지각)



이므로 $\triangle ODA \cong \triangle OBC$ (SAS 합동)
 따라서 $\angle OAD = \angle OCB$ (③ 엇각)이므로

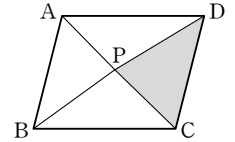
④ $\overline{AB} \parallel \overline{DC}$ ㉠

같은 방법으로 $\triangle OAB$ 와 $\triangle OCD$ 에서
 $\angle OAB =$ ⑤ $\angle OCD$ (엇각)이므로

$\overline{AB} \parallel \overline{DC}$ ㉡

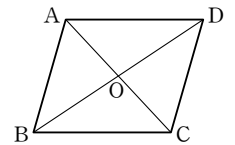
따라서 ㉠, ㉡에 의해 $\square ABCD$ 는 평행사변형이다.

06 오른쪽 그림의 평행사변형 ABCD의 넓이는 60 cm^2 이다. $\square ABCD$ 의 내부의 한 점 P에 대하여 $\triangle PAB = 14\text{ cm}^2$ 일 때, $\triangle PCD$ 의 넓이는?



- ① 10 cm^2 ② 12 cm^2 ③ 14 cm^2
- ④ 16 cm^2 ⑤ 30 cm^2

07 다음 조건 중 오른쪽 그림의 $\square ABCD$ 가 평행사변형이 될 수 없는 것은? (단, 점 O는 두 대각선의 교점)

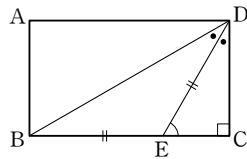


- ① $\angle A = \angle C$, $\angle B = \angle D$
- ② $\overline{OA} = \overline{OC}$, $\overline{OB} = \overline{OD}$
- ③ $\overline{AB} \parallel \overline{DC}$, $\overline{AD} = \overline{BC}$
- ④ $\overline{AD} = \overline{BC}$, $\overline{AB} = \overline{DC}$
- ⑤ $\overline{AD} \parallel \overline{BC}$, $\overline{AB} \parallel \overline{DC}$

01 다음 중 옳지 않은 것은?

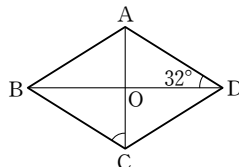
- ① 평행사변형의 두 쌍의 대변의 길이는 각각 같다.
- ② 직사각형의 네 내각의 크기는 같다.
- ③ 마름모의 두 대각선은 서로 다른 것을 수직이등분한다.
- ④ 평행사변형의 두 대각선의 길이는 같다.
- ⑤ 정사각형은 네 변의 길이와 네 내각의 크기가 각각 같다.

02 오른쪽 그림과 같은 직사각형 ABCD에서 $\overline{BE} = \overline{DE}$, $\angle BDE = \angle CDE$ 일 때, $\angle DEC$ 의 크기는?



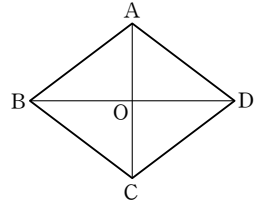
- ① 50° ② 55°
- ③ 60°
- ④ 65° ⑤ 70°

03 오른쪽 그림의 □ABCD는 마름모이다. $\angle ADB = 32^\circ$ 일 때, $\angle BCA$ 의 크기는? (단, 점 O는 두 대각선의 교점)



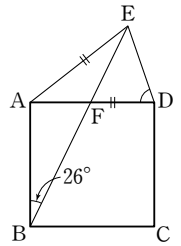
- ① 60° ② 58° ③ 56°
- ④ 54° ⑤ 52°

04 다음 중 오른쪽 그림의 마름모 ABCD가 정사각형이 되기 위해 추가되어야 할 조건은? (단, 점 O는 두 대각선의 교점)

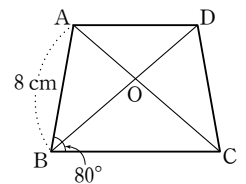


- ① $\overline{AC} = \overline{BD}$ ② $\overline{AB} = \overline{CD}$
- ③ $\overline{AO} = \overline{CO}$ ④ $\angle AOB = 90^\circ$
- ⑤ $\triangle AOB \cong \triangle AOD \cong \triangle COB \cong \triangle COD$

05 오른쪽 그림과 같은 정사각형 ABCD에서 $\overline{AD} = \overline{AE}$ 이고 $\angle ABE = 26^\circ$ 일 때, $\angle FDE$ 의 크기를 구하시오.

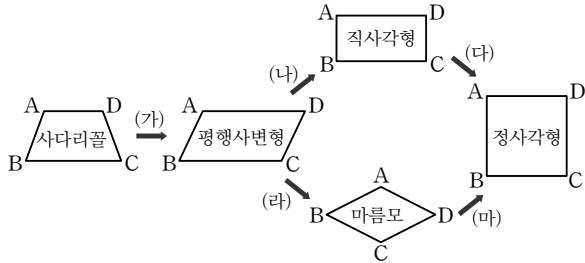


06 오른쪽 그림의 □ABCD는 $\overline{AD} \parallel \overline{BC}$ 인 등변사다리꼴이다. $\angle ABC = 80^\circ$ 이고 $\overline{AB} = 8 \text{ cm}$ 일 때, 다음 중 옳은 것은? (단, 점 O는 두 대각선의 교점)



- ① $\overline{AO} = \overline{DO}$ ② $\overline{AC} = 8 \text{ cm}$
- ③ $\angle BAD = 80^\circ$ ④ $\overline{AC} \perp \overline{BD}$
- ⑤ $\triangle ABO \cong \triangle AOD$

01 다음은 여러 가지 사각형 사이의 관계를 그림으로 나타낸 것이다. 조건 (가)~(마)에 들어갈 내용으로 옳지 않은 것은?



- ① (가) $\overline{AB} \parallel \overline{CD}$
- ② (나) $\angle A = 90^\circ$
- ③ (다) $\overline{AC} = \overline{BD}$
- ④ (라) $\overline{AB} = \overline{BC}$
- ⑤ (마) $\angle B = 90^\circ$

02 다음 중 평행사변형이 직사각형이 되는 조건은?

- ① 두 대각선이 수직으로 만난다.
- ② 이웃하는 두 변의 길이가 같다.
- ③ 두 대각선이 서로 다른 것을 이등분한다.
- ④ 두 쌍의 대변의 길이가 각각 같다.
- ⑤ 한 내각이 직각이다.

03 다음 <보기>에 주어진 사각형에 대하여 물음에 답하십시오.

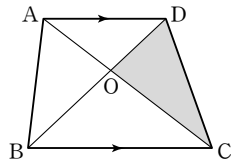
- 보기
- ㉠ 등변사다리꼴 ㉡ 평행사변형 ㉢ 직사각형
 - ㉣ 마름모 ㉤ 정사각형

- (1) 두 대각선이 서로 다른 것을 이등분하는 사각형을 모두 고르시오.
- (2) 두 대각선의 길이가 서로 같은 사각형을 모두 고르시오.
- (3) 두 대각선이 서로 수직으로 만나는 사각형을 모두 고르시오.
- (4) (1)~(3)의 조건을 모두 만족하는 사각형을 고르시오.

04 다음 중 사각형과 그 사각형의 각 변의 중점을 연결하여 만든 사각형을 짝 지은 것으로 옳지 않은 것은?

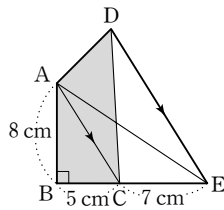
- ① 직사각형 → 마름모
- ② 사각형 → 평행사변형
- ③ 등변사다리꼴 → 마름모
- ④ 평행사변형 → 직사각형
- ⑤ 마름모 → 직사각형

01 오른쪽 그림과 같이 $\overline{AD} \parallel \overline{BC}$ 인 사다리꼴 ABCD에서 $\triangle AOD = 30 \text{ cm}^2$ 이고 $\overline{BO} : \overline{OD} = 3 : 2$ 일 때, $\triangle DOC$ 의 넓이를 구하시오.



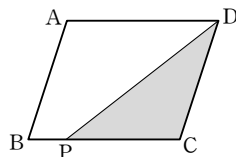
(단, 점 O는 두 대각선의 교점)

02 오른쪽 그림에서 $\overline{AC} \parallel \overline{DE}$, $\angle B = 90^\circ$ 이고 $\overline{AB} = 8 \text{ cm}$, $\overline{BC} = 5 \text{ cm}$, $\overline{CE} = 7 \text{ cm}$ 일 때, $\square ABCD$ 의 넓이는?



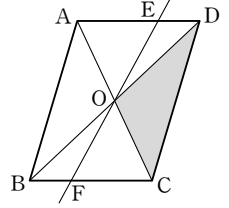
- ① 32 cm^2
- ② 40 cm^2
- ③ 48 cm^2
- ④ 56 cm^2
- ⑤ 64 cm^2

03 오른쪽 그림과 같이 넓이가 40 cm^2 인 평행사변형 ABCD에서 $\overline{BP} : \overline{PC} = 1 : 3$ 일 때, $\triangle DPC$ 의 넓이는?



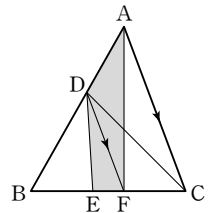
- ① 12 cm^2
- ② 15 cm^2
- ③ 18 cm^2
- ④ 21 cm^2
- ⑤ 24 cm^2

04 오른쪽 그림에서 평행사변형 ABCD의 두 대각선의 교점 O를 지나는 직선과 \overline{AD} , \overline{BC} 의 교점을 각각 E, F라 하자. $\square ABFE$ 의 넓이가 24 cm^2 일 때, $\triangle DOC$ 의 넓이는?



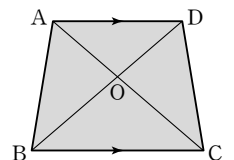
- ① 6 cm^2
- ② 8 cm^2
- ③ 10 cm^2
- ④ 12 cm^2
- ⑤ 14 cm^2

05 오른쪽 그림에서 $\overline{AC} \parallel \overline{DF}$ 이고 $\overline{BE} : \overline{EC} = 2 : 3$ 이다. $\triangle DBE$ 의 넓이가 16 cm^2 일 때, $\square ADEF$ 의 넓이는?



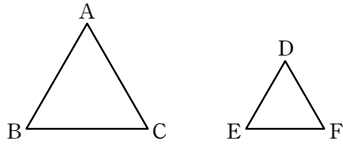
- ① 16 cm^2
- ② 18 cm^2
- ③ 20 cm^2
- ④ 22 cm^2
- ⑤ 24 cm^2

06 오른쪽 그림과 같이 $\overline{AD} \parallel \overline{BC}$ 인 등변사다리꼴 ABCD에서 $\overline{OA} : \overline{OC} = 3 : 4$ 이고 $\triangle AOD = 12 \text{ cm}^2$ 일 때, $\square ABCD$ 의 넓이를 구하시오.



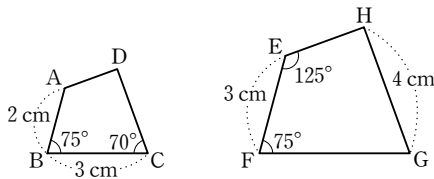
(단, 점 O는 두 대각선의 교점)

01 다음 그림에서 $\triangle ABC \sim \triangle DEF$ 일 때, \overline{BC} 의 대응변과 $\angle D$ 의 대응각을 순서대로 나열한 것은?



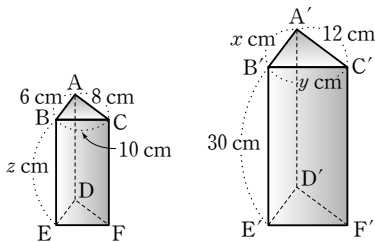
- ① \overline{DE} , $\angle A$
- ② \overline{DE} , $\angle B$
- ③ \overline{EF} , $\angle A$
- ④ \overline{EF} , $\angle C$
- ⑤ \overline{DF} , $\angle C$

02 아래 그림에서 $\square ABCD \sim \square EFGH$ 일 때, 다음 중 옳은 것은?

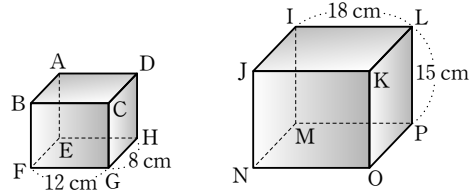


- ① $\overline{DC} : \overline{HG} = 3 : 4$
- ② $\angle H = 75^\circ$
- ③ $\overline{FG} = 6 \text{ cm}$
- ④ $\overline{DC} = \frac{8}{3} \text{ cm}$
- ⑤ $\square ABCD$ 와 $\square EFGH$ 의 답음비는 1 : 3이다.

03 다음 그림에서 두 삼각기둥은 서로 닮은 도형이다. \overline{AC} 에 대응하는 모서리가 $\overline{A'C'}$ 일 때, $x + y + z$ 의 값을 구하시오.



04 아래 그림에서 두 직육면체는 서로 닮은 도형이다. $\square ABCD \sim \square IJKL$ 일 때, 다음을 구하시오.

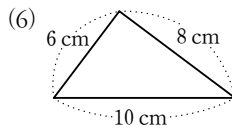
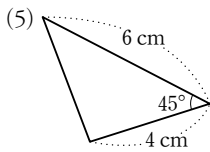
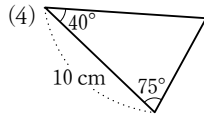
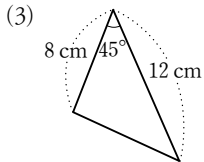
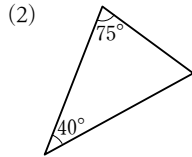
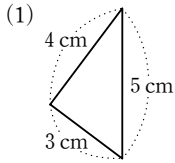


- (1) 면 EFGH에 대응하는 면
- (2) 두 직육면체의 답음비
- (3) \overline{OP} 의 길이

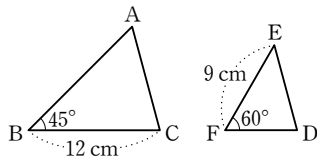
05 다음 중 닮은 도형에 대한 설명으로 옳지 않은 것은?

- ① 모든 원은 서로 닮은 도형이다.
- ② 모든 정육면체는 서로 닮은 도형이다.
- ③ 중심각의 크기가 같은 두 부채꼴은 서로 닮은 도형이다.
- ④ 한 예각의 크기가 같은 두 직각삼각형은 서로 닮은 도형이다.
- ⑤ 한 내각의 크기가 같은 두 이등변삼각형은 서로 닮은 도형이다.

01 다음에서 서로 닮음인 삼각형을 찾고, 각각의 닮음 조건을 말하시오.

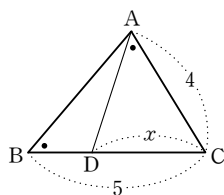


02 다음 그림의 $\triangle ABC$ 와 $\triangle DEF$ 가 서로 닮은 도형이 되기 위해 필요한 조건은?

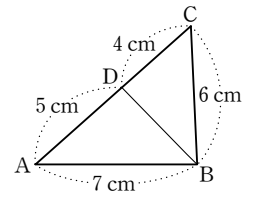


- ① $\angle A = 75^\circ, \angle E = 45^\circ$
- ② $\angle C = 80^\circ, \angle E = 45^\circ$
- ③ $\overline{AB} = 8 \text{ cm}, \overline{DE} = 6 \text{ cm}$
- ④ $\overline{AC} = 16 \text{ cm}, \overline{DF} = 12 \text{ cm}$
- ⑤ $\overline{AB} = 15 \text{ cm}, \overline{DE} = 12 \text{ cm}$

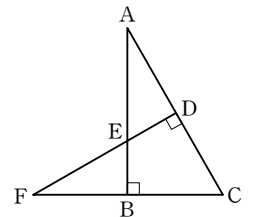
03 오른쪽 그림에서 $\angle B = \angle CAD$ 일 때, x 의 값을 구하시오.



04 오른쪽 그림에서 \overline{BD} 의 길이를 구하시오.

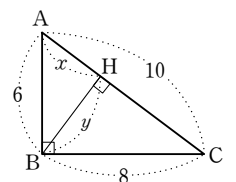


05 오른쪽 그림에서 $\angle ABC = \angle FDC = 90^\circ$ 일 때, 다음 중 옳지 않은 것은?

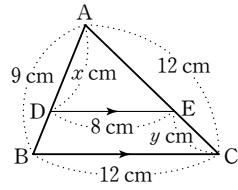


- ① $\angle AED = \angle ACB$
- ② $\angle DFC = \angle BAC$
- ③ $\triangle AED \sim \triangle FEB$
- ④ $\triangle ABC \sim \triangle FDC$
- ⑤ 서로 닮음인 직각삼각형은 모두 2개이다.

06 오른쪽 그림과 같이 $\angle B = 90^\circ$ 인 직각삼각형 ABC에서 $\overline{BH} \perp \overline{AC}$ 일 때, $x+y$ 의 값을 구하시오.



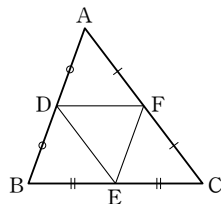
01 오른쪽 그림에서 $\overline{DE} \parallel \overline{BC}$ 일 때, $x+y$ 의 값을 구하시오.



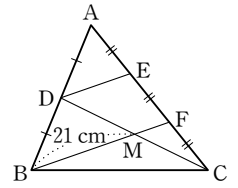
02 다음 중 $\overline{BC} \parallel \overline{DE}$ 인 것은?

- ①
- ②
- ③
- ④
- ⑤

03 오른쪽 그림과 같은 $\triangle ABC$ 에서 세 점 D, E, F는 각각 \overline{AB} , \overline{BC} , \overline{CA} 의 중점이다. $\triangle DEF$ 의 둘레의 길이가 14 cm일 때, $\triangle ABC$ 의 둘레의 길이를 구하시오.

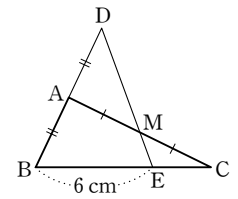


04 오른쪽 그림과 같은 $\triangle ABC$ 에서 \overline{AB} 의 중점을 D, \overline{AC} 의 삼등분점을 각각 E, F라 하고, \overline{CD} 와 \overline{BF} 의 교점을 M이라 하자. $\overline{BM} = 21$ cm일 때, \overline{MF} 의 길이는?

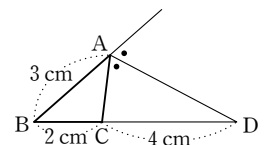


- ① 7 cm ② 8 cm ③ 9 cm
- ④ 10 cm ⑤ 11 cm

05 오른쪽 그림과 같이 $\triangle ABC$ 에서 \overline{AB} 의 연장선 위에 $\overline{AB} = \overline{AD}$ 가 되도록 점 D를 잡고, \overline{AC} 의 중점 M에 대하여 \overline{DM} 의 연장선과 \overline{BC} 의 교점을 E라 하자. $\overline{BE} = 6$ cm일 때, \overline{EC} 의 길이를 구하시오.

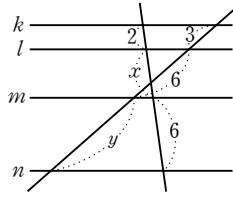


06 오른쪽 그림과 같은 $\triangle ABC$ 에서 $\angle A$ 의 외각의 이등분선과 \overline{BC} 의 연장선의 교점을 D라 하자. $\overline{AB} = 3$ cm, $\overline{BC} = 2$ cm, $\overline{CD} = 4$ cm일 때, \overline{AC} 의 길이를 구하시오.



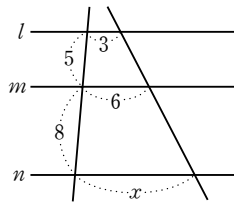
01 오른쪽 그림에서 $k \parallel l \parallel m \parallel n$ 일 때, $x+y$ 의 값은?

- ① 10 ② 11
- ③ 12 ④ 13
- ⑤ 14

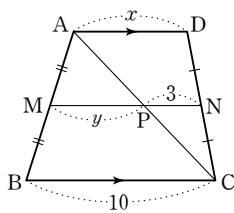


02 오른쪽 그림에서 $l \parallel m \parallel n$ 일 때, x 의 값은?

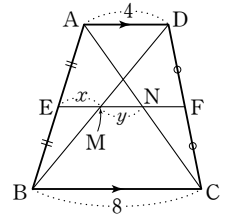
- ① $\frac{34}{5}$ ② $\frac{39}{5}$
- ③ $\frac{48}{5}$ ④ $\frac{54}{5}$
- ⑤ $\frac{72}{5}$



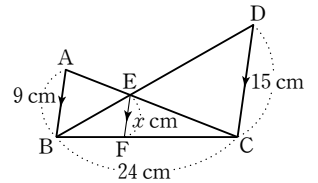
03 오른쪽 그림과 같이 $\overline{AD} \parallel \overline{BC}$ 인 사다리꼴 ABCD에서 두 점 M, N은 각각 \overline{AB} , \overline{DC} 의 중점일 때, $x+y$ 의 값을 구하시오.



04 오른쪽 그림과 같이 $\overline{AD} \parallel \overline{BC}$ 인 사다리꼴 ABCD에서 $\overline{AE} = \overline{EB}$, $\overline{DF} = \overline{FC}$ 일 때, xy 의 값을 구하시오.

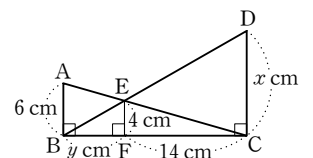


05 오른쪽 그림에서 $\overline{AB} \parallel \overline{EF} \parallel \overline{DC}$ 일 때, x 의 값을 구하시오.



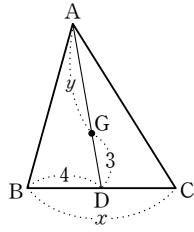
06 오른쪽 그림에서 \overline{AB} , \overline{EF} , \overline{DC} 는 모두 \overline{BC} 에 수직일 때, $x-y$ 의 값은?

- ① 5 ② 7
- ④ 12 ⑤ 14

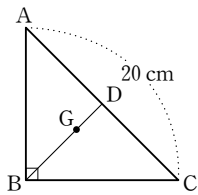


- ③ 10

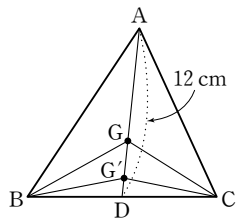
01 오른쪽 그림에서 점 G가 $\triangle ABC$ 의 무게중심일 때, $x+y$ 의 값을 구하시오.



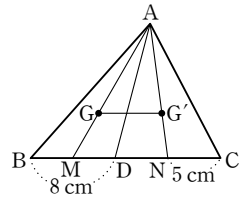
02 오른쪽 그림에서 점 G가 직각삼각형 ABC의 무게중심일 때, \overline{BG} 의 길이를 구하시오.



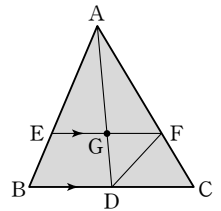
03 오른쪽 그림에서 두 점 G, G'은 각각 $\triangle ABC$, $\triangle GBC$ 의 무게중심이다. $\overline{AD}=12$ cm일 때, $\overline{GG'}$ 의 길이를 구하시오.



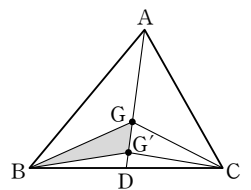
04 오른쪽 그림에서 두 점 G, G'은 각각 $\triangle ABD$, $\triangle ADC$ 의 무게중심이다. $\overline{BD}=8$ cm, $\overline{NC}=5$ cm일 때, $\overline{GG'}$ 의 길이를 구하시오.



05 오른쪽 그림에서 점 G는 $\triangle ABC$ 의 무게중심이다. $\overline{EF} \parallel \overline{BC}$ 이고 $\triangle GDF=2$ cm²일 때, $\triangle ABC$ 의 넓이를 구하시오.

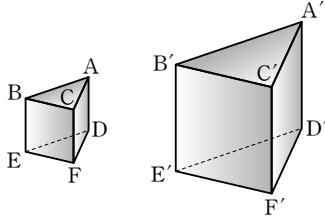


06 오른쪽 그림에서 두 점 G, G'은 각각 $\triangle ABC$, $\triangle GBC$ 의 무게중심이다. $\triangle ABC$ 의 넓이가 90 cm²일 때, $\triangle GBG'$ 의 넓이는?



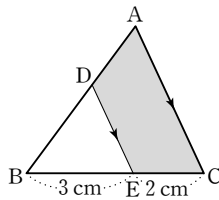
- ① 10 cm² ② 15 cm² ③ 20 cm²
- ④ 25 cm² ⑤ 30 cm²

01 아래 그림과 같이 서로 닮음인 두 삼각기둥의 닮음비가 1 : 2일 때, 다음을 구하시오.



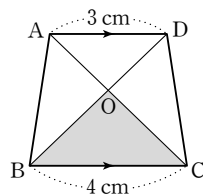
- (1) $\triangle ABC$ 의 넓이가 6 cm^2 일 때, $\triangle A'B'C'$ 의 넓이
- (2) 작은 삼각기둥의 부피가 24 cm^3 일 때, 큰 삼각기둥의 부피

02 오른쪽 그림과 같은 $\triangle ABC$ 에서 $\overline{AC} \parallel \overline{DE}$ 이고 $\overline{BE} = 3 \text{ cm}$, $\overline{EC} = 2 \text{ cm}$ 이다. $\triangle DBE$ 의 넓이가 18 cm^2 일 때, $\square ADEC$ 의 넓이는?



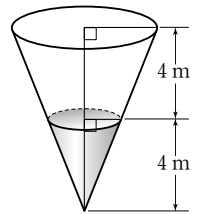
- ① 18 cm^2
- ② 24 cm^2
- ③ 27 cm^2
- ④ 32 cm^2
- ⑤ 36 cm^2

03 오른쪽 그림과 같이 $\overline{AD} \parallel \overline{BC}$ 인 사다리꼴 ABCD에서 $\triangle ODA$ 의 넓이가 27 cm^2 일 때, $\triangle OBC$ 의 넓이를 구하시오.



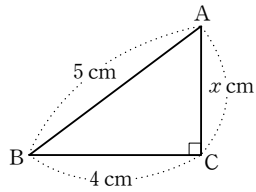
04 두 직육면체 P, Q는 서로 닮은 도형이다. P의 부피는 250 cm^3 , Q의 부피는 128 cm^3 일 때, 두 직육면체 P, Q의 겹넓이의 비를 구하시오.

05 오른쪽 그림과 같이 높이가 8 m인 원뿔 모양의 통에 일정한 속도로 물을 채우고 있다. 물을 채우기 시작한 지 10분 후의 물의 깊이가 4 m일 때, 물을 가득 채우는데 몇 분이 더 걸리는지 구하시오.

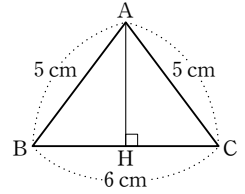


06 축척이 1 : 5000인 지도에서 가로, 세로의 길이가 각각 3 cm, 6 cm인 직사각형 모양의 땅의 실제 넓이는 몇 m^2 인지 구하시오.

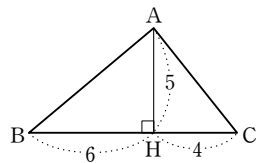
01 오른쪽 그림과 같은 직각삼각형 ABC에서 x 의 값을 구하시오.



04 오른쪽 그림과 같이 $\overline{AB} = \overline{AC} = 5$ cm, $\overline{BC} = 6$ cm인 $\triangle ABC$ 가 있다. 꼭짓점 A에서 \overline{BC} 에 내린 수선의 발을 H라 할 때, \overline{AH} 의 길이를 구하시오.



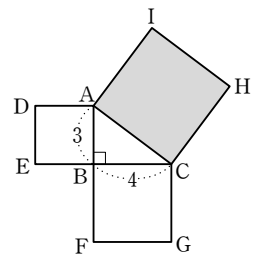
02 오른쪽 그림과 같은 $\triangle ABC$ 에서 $\overline{AH} \perp \overline{BC}$ 이고 $\overline{AH} = 5$, $\overline{BH} = 6$, $\overline{CH} = 4$ 일 때, $\overline{AB}^2 - \overline{AC}^2$ 의 값은?



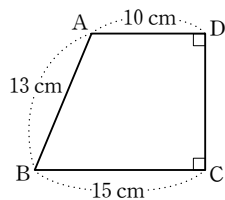
- ① 16 ② 20
- ④ 28 ⑤ 32

③ 24

05 오른쪽 그림과 같이 $\overline{AB} = 3$, $\overline{BC} = 4$ 인 직각삼각형 ABC의 각 변을 한 변으로 하는 세 정사각형을 그렸을 때, $\square ACHI$ 의 넓이를 구하시오.

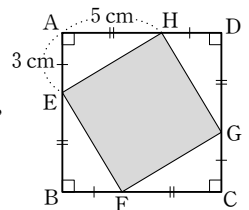


03 오른쪽 그림과 같이 $\overline{AB} = 13$ cm, $\overline{AD} = 10$ cm, $\overline{BC} = 15$ cm인 사다리꼴 ABCD의 둘레의 길이는?



- ① 50 cm ② 52 cm
- ③ 54 cm ④ 56 cm
- ⑤ 58 cm

06 오른쪽 그림과 같은 정사각형 ABCD에서 $\overline{AE} = \overline{BF} = \overline{CG} = \overline{DH} = 3$ cm, $\overline{AH} = \overline{BE} = \overline{CF} = \overline{DG} = 5$ cm 일 때, $\square EFGH$ 의 넓이를 구하시오.

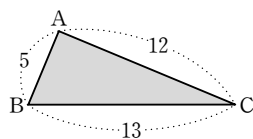


01 세 변의 길이가 각각 다음과 같이 주어진 삼각형 중에서 직각삼각형인 것은?

- ① 3, 4, 6 ② 4, 12, 13 ③ 6, 7, 9
- ④ 7, 8, 14 ⑤ 8, 15, 17

02 세 변의 길이가 각각 7, 24, a 인 삼각형이 직각삼각형일 때, a 의 값을 구하시오. (단, $a > 24$)

03 오른쪽 그림과 같이 $\overline{AB}=5, \overline{BC}=13, \overline{CA}=12$ 인 $\triangle ABC$ 의 넓이를 구하시오.



04 세 변의 길이가 각각 다음과 같이 주어졌을 때, 예각삼각형인 것을 모두 고르면? (정답 2개)

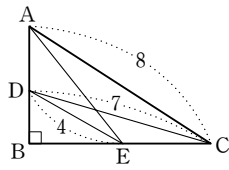
- ① 1 cm, 3 cm, 3 cm
- ② 2 cm, 2 cm, 3 cm
- ③ 2 cm, 4 cm, 5 cm
- ④ 5 cm, 6 cm, 7 cm
- ⑤ 12 cm, 16 cm, 20 cm

05 6 cm, 8 cm, x cm가 둔각삼각형의 세 변의 길이라 할 때, 다음 중 x 의 값이 될 수 없는 것은?

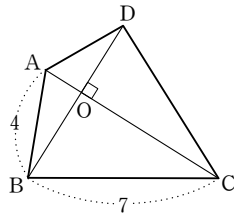
- ① 3 ② 5 ③ 6
- ④ 12 ⑤ 13

06 세 변의 길이가 각각 15, 8, a 인 삼각형이 예각삼각형이 되도록 하는 자연수 a 의 값을 구하시오. (단, $a > 15$)

01 오른쪽 그림과 같이 $\angle B = 90^\circ$ 인 직각삼각형 ABC에서 \overline{AE}^2 의 값을 구하시오.

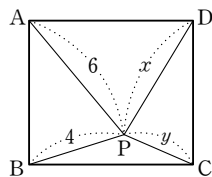


02 오른쪽 그림과 같이 $\overline{AC} \perp \overline{BD}$ 인 $\square ABCD$ 에서 두 대각선의 교점을 O라 하자. $\overline{AB} = 4$, $\overline{BC} = 7$ 일 때, $\overline{CD}^2 - \overline{AD}^2$ 의 값을 구하시오.



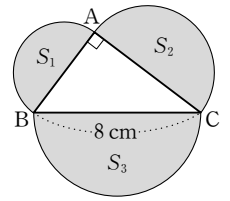
03 오른쪽 그림과 같이 사각형 ABCD의 내부에 한 점 P가 있을 때, $x^2 - y^2$ 의 값은?

- ① 10 ② 15
- ③ 20 ④ 25
- ⑤ 30



04 오른쪽 그림과 같이 $\angle A = 90^\circ$ 인 직각삼각형 ABC의 세 변을 각각 지름으로 하는 세 반원을 그렸다. $\overline{BC} = 8 \text{ cm}$ 일 때, $S_1 + S_2 + S_3$ 의 값은?

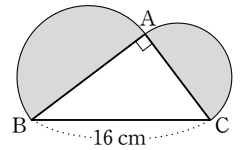
- ① $16\pi \text{ cm}^2$ ② $24\pi \text{ cm}^2$
- ④ $40\pi \text{ cm}^2$ ⑤ $48\pi \text{ cm}^2$



- ③ $32\pi \text{ cm}^2$

05 오른쪽 그림은 $\angle A = 90^\circ$ 인 직각삼각형 ABC에서 \overline{AB} , \overline{AC} 를 각각 지름으로 하는 두 반원을 그린 것이다.

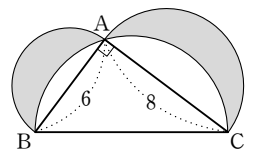
$\overline{BC} = 16 \text{ cm}$ 일 때, 어두운 부분의 넓이를 구하시오.



06 오른쪽 그림은 $\angle A = 90^\circ$ 인 직각삼각형 ABC의 세 변을 각각 지름으로 하는 세 반원을 그린 것이다.

$\overline{AB} = 6$, $\overline{AC} = 8$ 일 때, 어두운 부분의 넓이는?

- ① 48 ② 42 ③ 36
- ④ 30 ⑤ 24



01 100원짜리 동전 5개, 500원짜리 동전 2개를 가지고 있다. 1000원짜리 과자를 한 봉지 사려고 할 때, 지불하는 경우의 수를 구하시오.

02 1에서 20까지의 자연수가 각각 적힌 카드 20장이 있다. 이 중에서 한 장을 뽑을 때, 4의 배수 또는 10의 배수가 적힌 카드가 나오는 경우의 수는?

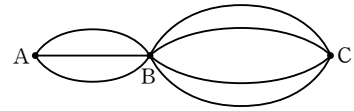
- ① 2 ② 5 ③ 6
- ④ 7 ⑤ 8

03 서로 다른 두 개의 주사위를 동시에 던질 때, 두 눈의 수의 차가 2 또는 3이 되는 경우의 수는?

- ① 6 ② 8 ③ 10
- ④ 12 ⑤ 14

04 송편을 만들기 위해 3종류의 반죽과 5종류의 소를 준비하였다. 이때 반죽과 소를 각각 한 개씩 골라 송편을 만드는 경우의 수를 구하시오.

05 다음 그림과 같이 세 지점 A, B, C가 연결되어 있을 때, A 지점에서 B 지점을 거쳐 C 지점으로 가는 방법의 수를 구하시오. (단, 한 번 지나간 지점은 다시 지나가지 않는다.)



06 동전 1개와 서로 다른 주사위 2개를 동시에 던질 때, 일어나는 모든 경우의 수는?

- ① 24 ② 36 ③ 52
- ④ 64 ⑤ 72

07 로아, 준효, 서현 세 사람이 가위바위보를 할 때, 일어나는 모든 경우의 수를 구하시오.

01 A, B, C, D, E 5명을 한 줄로 세울 때, A와 D가 양 끝에 서는 경우의 수는?

- ① 6 ② 12 ③ 24
- ④ 36 ⑤ 48

02 0, 1, 2, 3, 4, 5의 숫자가 각각 적힌 6장의 카드 중에서 2장을 뽑아 만들 수 있는 두 자리의 자연수의 개수는?

- ① 10 ② 15 ③ 20
- ④ 25 ⑤ 30

03 1, 2, 3, 4, 5의 숫자가 각각 적힌 5장의 카드 중에서 2장을 뽑아 두 자리의 자연수를 만들 때, 25보다 큰 자연수의 개수를 구하시오.

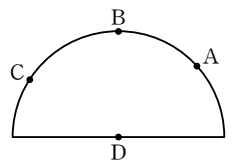
04 A, B, C, D, E 5명의 후보 중에서 학급 임원을 뽑으려고 한다. 다음을 구하시오.

- (1) 회장 1명, 부회장 1명을 뽑는 경우의 수
- (2) 회장 1명, 부회장 2명을 뽑는 경우의 수
- (3) 임원 3명을 뽑는 경우의 수

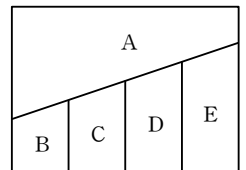
05 수연, 태우, 현아, 보라 4명의 친구들이 한 사람도 빠짐 없이 서로 한 번씩 팔씨름을 하려고 할 때, 치러야 할 경기의 수는?

- ① 4 ② 6 ③ 8
- ④ 10 ⑤ 12

06 오른쪽 그림과 같이 반원 위에 4개의 점이 있다. 이 중에서 서로 다른 세 점을 이어 만들 수 있는 삼각형의 개수를 구하시오.



07 오른쪽 그림의 A, B, C, D, E 다섯 부분에 빨강, 주황, 노랑, 초록, 파랑의 5가지 색을 이용하여 칠하려고 한다. 서로 다른 색을 칠하려고 할 때, 칠할 수 있는 모든 경우의 수를 구하시오.



01 하진이네 학교에서는 신입생 300명을 대상으로 선호하는 아이스크림 종류를 조사하여 다음 표와 같은 결과를 얻었다. 이 학교 신입생 중 임의로 한 명을 선택할 때, 초콜릿 맛 아이스크림을 선호하는 학생일 확률을 구하시오.

종류	딸기 맛	바닐라 맛	초콜릿 맛	녹차 맛
학생 수 (명)	135	50	72	43

02 오른쪽은 어느 반 학생 20명의 음악 실기 점수를 조사하여 나타낸 도수분포표이다. 이 학생들 중에서 임의로 한 명을 선택할 때, 그 학생의 음악 실기 점수가 80점 미만일 확률을 구하시오.

음악 실기 점수 (점)	학생 수 (명)
60 ^{이상} ~ 70 ^{미만}	2
70 ~ 80	6
80 ~ 90	8
90 ~ 100	4
합계	20

03 0, 1, 2, 3, 4, 5의 숫자가 각각 적힌 6장의 카드에서 임의로 2장을 뽑아 두 자리의 자연수를 만들 때, 그 수가 30 이하일 확률은?

- ① $\frac{2}{5}$ ② $\frac{11}{25}$ ③ $\frac{12}{25}$
 ④ $\frac{13}{25}$ ⑤ $\frac{14}{25}$

04 졸업생 5명과 재학생 6명으로 구성된 농촌봉사대를 만들었다. 조장과 부조장을 모두 재학생으로 뽑을 확률을 구하시오.

05 사건 A가 일어날 확률을 p 라 할 때, 다음 중 옳지 않은 것은?

- ① $p = \frac{\text{(사건 A가 일어나는 경우의 수)}}{\text{(모든 경우의 수)}}$
 ② $0 < p < 1$
 ③ (사건 A가 일어나지 않을 확률) = $1 - p$
 ④ (반드시 일어나는 사건의 확률) = 1
 ⑤ (절대로 일어나지 않는 사건의 확률) = 0

06 서로 다른 두 개의 주사위를 동시에 던질 때, 두 눈의 수의 합이 3이 아닐 확률을 구하시오.

07 서로 다른 두 개의 주사위를 동시에 던질 때, 적어도 하나는 2의 배수의 눈이 나올 확률은?

- ① $\frac{5}{18}$ ② $\frac{1}{3}$ ③ $\frac{13}{36}$
 ④ $\frac{5}{9}$ ⑤ $\frac{3}{4}$

01 각 면에 1에서 20까지의 숫자가 적힌 정이십면체 모양의 주사위를 던질 때, 윗면에 나오는 눈의 수가 4의 배수 또는 9의 배수일 확률은?

- ① $\frac{3}{10}$ ② $\frac{7}{20}$ ③ $\frac{2}{5}$
- ④ $\frac{9}{20}$ ⑤ $\frac{1}{2}$

02 서로 다른 두 개의 주사위를 동시에 던질 때, 두 눈의 수의 곱이 짝수가 될 확률을 구하시오.

03 명중률이 90%인 사격 선수가 두 번 사격을 할 때, 두 번 모두 명중시킬 확률은?

- ① $\frac{9}{50}$ ② $\frac{17}{25}$ ③ $\frac{73}{100}$
- ④ $\frac{39}{50}$ ⑤ $\frac{81}{100}$

04 제현, 규현, 민호 세 사람이 풍선 터트리기 게임을 하는데 명중률이 각각 $\frac{1}{2}$, $\frac{1}{3}$, $\frac{2}{3}$ 이다. 이 세 사람이 동시에 한 풍선을 향하여 활을 쏘았을 때, 풍선이 터질 확률을 구하시오.

05 지유와 민수가 야구 게임에서 공을 맞출 확률이 각각 $\frac{1}{3}$, $\frac{3}{4}$ 일 때, 두 사람 중 한 사람만 공을 맞출 확률은?

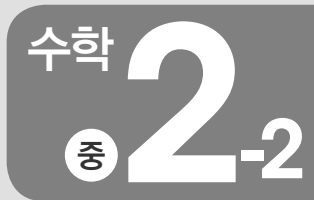
- ① $\frac{5}{12}$ ② $\frac{1}{2}$ ③ $\frac{7}{12}$
- ④ $\frac{2}{3}$ ⑤ $\frac{3}{4}$

06 주머니 속에 흰 공 3개와 노란 공 5개가 들어 있다. 이 주머니에서 공 1개를 임의로 꺼내 확인하고 다시 넣은 후 1개를 임의로 꺼낼 때, 2개 모두 노란 공일 확률을 구하시오.

07 주머니 속에 파란 공 5개, 초록 공 4개, 노란 공 6개가 들어 있다. 이 주머니에서 연속하여 3개의 공을 임의로 꺼낼 때, 첫 번째와 두 번째는 노란 공이 나오고, 세 번째는 초록 공이 나올 확률은?

(단, 꺼낸 공은 다시 넣지 않는다.)

- ① $\frac{8}{225}$ ② $\frac{4}{105}$ ③ $\frac{4}{91}$
- ④ $\frac{4}{15}$ ⑤ $\frac{8}{15}$



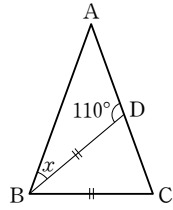
수준별 자료집 (중)

기본편 | 중간 난이도로 학교 시험 형태의 문제가 더 필요한 학생들!
중하위반 학생들의 숙제 또는 테스트용으로!

중단원 테스트

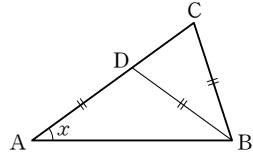
1. 삼각형의 성질	24
2. 사각형의 성질	28
3. 도형의 닮음	32
4. 닮음의 응용	34
5. 피타고라스 정리	38
6. 경우의 수	42
7. 확률	46

01 오른쪽 그림과 같이 $\overline{AB} = \overline{AC}$ 인 이등변삼각형 ABC 에서 $\overline{BC} = \overline{BD}$ 이고 $\angle BDA = 110^\circ$ 일 때, $\angle x$ 의 크기는?



- ① 20°
- ② 25°
- ③ 30°
- ④ 35°
- ⑤ 40°

02 오른쪽 그림과 같이 $\overline{AB} = \overline{AC}$ 인 이등변삼각형 ABC 에서 $\overline{DA} = \overline{DB} = \overline{BC}$ 일 때, $\angle x$ 의 크기를 구하시오.



03 다음은 「 $\triangle ABC$ 에서 $\angle B = \angle C$ 이면 $\overline{AB} = \overline{AC}$ 이다.」를 설명한 것이다. □ 안에 알맞은 것을 써넣으시오.

$\angle A$ 의 이등분선과 \overline{BC} 의 교점을 D 라 하면

$\triangle ABD$ 와 $\triangle ACD$ 에서

$\angle B = \angle C$ ㉠

$\angle BAD = \square$ ㉡

삼각형의 세 내각의 크기의 합은 180° 이므로

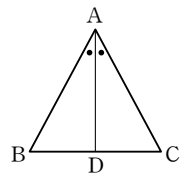
㉠, ㉡으로부터

$\square = \angle ADC$ ㉢

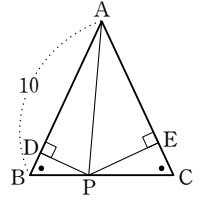
\overline{AD} 는 공통 ㉣

㉡, ㉢, ㉣에서 $\triangle ABD \cong \square$ (ASA 합동)이므로

$\overline{AB} = \overline{AC}$



04 오른쪽 그림과 같이 $\angle B = \angle C$ 이고 $\overline{AB} = 10$ 인 $\triangle ABC$ 의 \overline{BC} 위의 점 P 에서 \overline{AB} , \overline{AC} 에 내린 수선의 발을 각각 D , E 라 하자. $\triangle ABC$ 의 넓이가 40일 때, $\overline{PD} + \overline{PE}$ 의 값은?

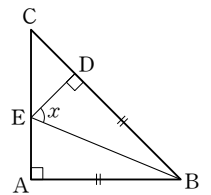


- ① 8
- ② 9
- ③ 10
- ④ 11
- ⑤ 12

05 다음 <보기> 중 서로 합동인 직각삼각형끼리 기호를 사용하여 나타내시오.

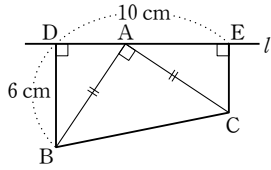
보기

06 오른쪽 그림에서 $\triangle ABC$ 는 $\angle A = 90^\circ$ 이고 $\overline{AB} = \overline{AC}$ 인 직각이등변삼각형이다. $\overline{AB} = \overline{BD}$ 이고 $\overline{ED} \perp \overline{BC}$ 일 때, $\angle x$ 의 크기를 구하시오.



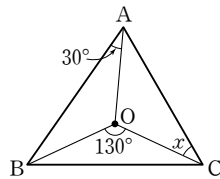
07 오른쪽 그림과 같이

$\overline{AB} = \overline{AC}$ 인 직각이등변 삼각형 ABC 의 꼭짓점 B, C 에서 꼭짓점 A 를 지나는 직선 l 에 내린 수선의 발을 각각 D, E 라 하자. $\overline{BD} = 6\text{ cm}$, $\overline{DE} = 10\text{ cm}$ 일 때, \overline{CE} 의 길이를 구하시오.



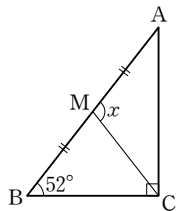
08 오른쪽 그림에서 점 O 가 $\triangle ABC$ 의 외심일 때, $\angle x$ 의 크기는?

- ① 30° ② 35°
- ③ 40° ④ 45°
- ⑤ 50°

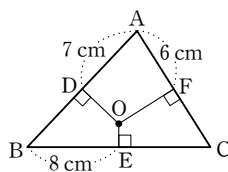


09 오른쪽 그림과 같이 $\angle C = 90^\circ$ 인 직각삼각형 ABC 에서 \overline{AB} 의 중점을 M 이라 하자. $\angle B = 52^\circ$ 일 때, $\angle x$ 의 크기는?

- ① 100° ② 102°
- ③ 104° ④ 106°
- ⑤ 110°

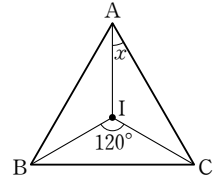


10 오른쪽 그림에서 점 O 는 $\triangle ABC$ 의 외심일 때, $\triangle ABC$ 의 둘레의 길이를 구하시오.



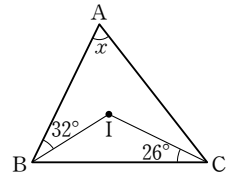
11 오른쪽 그림에서 점 I 는 $\triangle ABC$ 의 내심일 때, $\angle x$ 의 크기는?

- ① 20° ② 25°
- ③ 30° ④ 35°
- ⑤ 40°



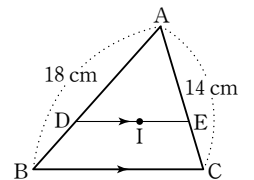
12 오른쪽 그림에서 점 I 는 $\triangle ABC$ 의 내심일 때, $\angle x$ 의 크기는?

- ① 48° ② 52°
- ③ 56° ④ 60°
- ⑤ 64°

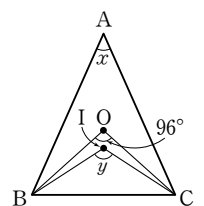


13 오른쪽 그림에서 점 I 는 $\triangle ABC$ 의 내심이다. $\overline{DE} \parallel \overline{BC}$ 이고 $\overline{AB} = 18\text{ cm}$, $\overline{AC} = 14\text{ cm}$ 일 때, $\triangle ADE$ 의 둘레의 길이는?

- ① 26 cm ② 28 cm ③ 30 cm
- ④ 32 cm ⑤ 34 cm



14 오른쪽 그림에서 점 O 와 점 I 는 각각 $\triangle ABC$ 의 외심, 내심이다. $\angle BOC = 96^\circ$ 일 때, $\angle y - \angle x$ 의 값을 구하시오.



01 다음은 「이등변삼각형의 꼭지각의 이등분선은 밑변을 수직이등분한다.」를 설명한 것이다. □ 안에 들어갈 내용으로 옳지 않은 것은?

△ABD와 △ACD에서

$\overline{AB} = \overline{AC}$ ㉠

□①는 공통 ㉡

$\angle BAD = \square$ ② ㉢

㉠, ㉡, ㉢에서

△ABD ≅ △ACD (□③ 합동)이므로

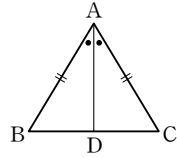
$\overline{BD} = \square$ ④

또 $\angle ADB = \angle ADC$ 이고

$\angle ADB + \angle ADC = 180^\circ$ 이므로

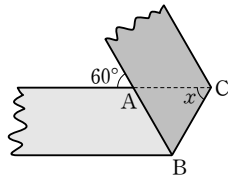
$\angle ADB = \angle ADC = \square$ ⑤

∴ $\overline{AD} \perp \overline{BC}$

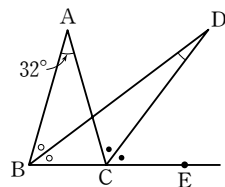


- ① \overline{AD} ② $\angle CAD$ ③ ASA
- ④ \overline{CD} ⑤ 90°

02 오른쪽 그림과 같이 폭이 일정한 종이테이프를 접었을 때, $\angle x$ 의 크기를 구하시오.

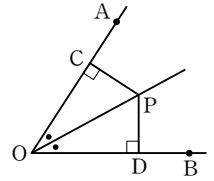


03 오른쪽 그림과 같이 $\overline{AB} = \overline{AC}$ 인 이등변삼각형 ABC에서 $\angle B$ 의 이등분선과 $\angle C$ 의 외각의 이등분선의 교점을 D라 하자. $\angle A = 32^\circ$ 일 때, $\angle BDC$ 의 크기는?



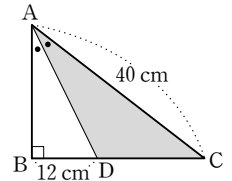
- ① 12° ② 14° ③ 16°
- ④ 18° ⑤ 20°

04 오른쪽 그림과 같이 $\angle AOB$ 의 이등분선 위의 한 점 P에서 \overline{OA} , \overline{OB} 에 내린 수선의 발을 각각 C, D라 할 때, 다음 중 옳지 않은 것은?



- ① $\angle OPC = \angle OPD$ ② $\triangle COP = \triangle DOP$
- ③ $\overline{PC} = \overline{PD}$ ④ $\triangle COP \equiv \triangle DOP$
- ⑤ $\overline{OC} = \overline{OP} = \overline{OD}$

05 오른쪽 그림과 같이 $\angle B = 90^\circ$ 인 직각삼각형 ABC에서 \overline{AD} 는 $\angle A$ 의 이등분선이다. $\overline{AC} = 40$ cm, $\overline{BD} = 12$ cm일 때, △ADC의 넓이는?



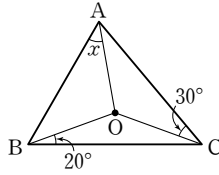
- ① 220 cm² ② 240 cm² ③ 260 cm²
- ④ 280 cm² ⑤ 300 cm²

06 다음 중 삼각형의 내심과 외심에 대한 설명으로 옳지 않은 것은?

- ① 외심으로부터 세 꼭짓점에 이르는 거리는 같다.
- ② 외심은 항상 삼각형의 외부에 있다.
- ③ 내심과 외심이 항상 일치하는 삼각형은 정삼각형이다.
- ④ 내심은 세 내각의 이등분선의 교점이다.
- ⑤ 내심으로부터 세 변에 이르는 거리는 같다.

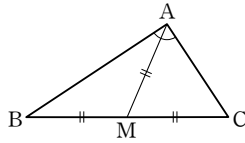
07 오른쪽 그림에서 점 O는 $\triangle ABC$ 의 외심일 때, $\angle x$ 의 크기는?

- ① 20° ② 30°
- ③ 40° ④ 50°
- ⑤ 60°



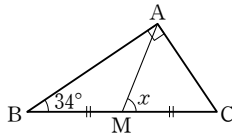
08 오른쪽 그림과 같은 $\triangle ABC$ 에서 \overline{BC} 위의 한 점 M에 대하여 $\overline{AM} = \overline{BM} = \overline{CM}$ 일 때, $\angle BAC$ 의 크기는?

- ① 70° ② 75° ③ 80°
- ④ 85° ⑤ 90°

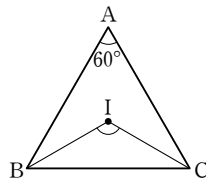


09 오른쪽 그림과 같이 $\angle A = 90^\circ$ 인 직각삼각형 ABC에서 \overline{BC} 의 중점을 M이라 하자. $\angle ABC = 34^\circ$ 일 때, $\angle x$ 의 크기는?

- ① 68° ② 70° ③ 72°
- ④ 74° ⑤ 76°

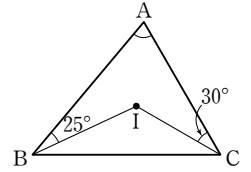


10 오른쪽 그림에서 점 I는 $\triangle ABC$ 의 내심이다. $\angle A = 60^\circ$ 일 때, $\angle BIC$ 의 크기를 구하시오.

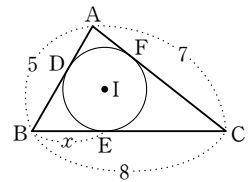


11 오른쪽 그림에서 점 I는 $\triangle ABC$ 의 내심일 때, $\angle A$ 의 크기는?

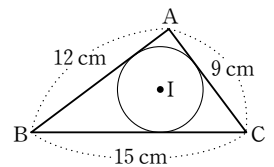
- ① 55° ② 60°
- ③ 65° ④ 70°
- ⑤ 75°



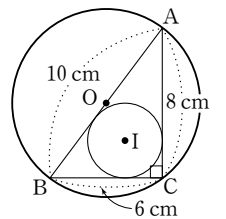
12 오른쪽 그림에서 점 I는 $\triangle ABC$ 의 내심이고 세 점 D, E, F는 각각 접점이다. $\overline{AB} = 5$, $\overline{BC} = 8$, $\overline{AC} = 7$ 일 때, x 의 값을 구하시오.



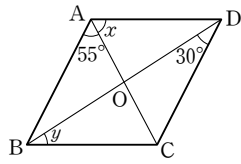
13 오른쪽 그림에서 점 I는 $\triangle ABC$ 의 내심이다. $\overline{AB} = 12$ cm, $\overline{BC} = 15$ cm, $\overline{AC} = 9$ cm 이고 $\triangle ABC$ 의 넓이가 54 cm^2 일 때, 내접원의 반지름의 길이를 구하시오.



14 오른쪽 그림에서 $\triangle ABC$ 는 $\angle C = 90^\circ$ 인 직각삼각형이고, 두 점 O, I는 각각 직각삼각형 ABC의 외심, 내심이다. $\overline{AB} = 10$ cm, $\overline{BC} = 6$ cm, $\overline{AC} = 8$ cm일 때, $\triangle ABC$ 의 외접원과 내접원의 반지름의 길이의 합을 구하시오.

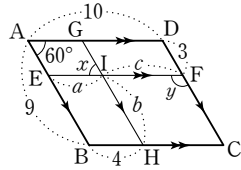


01 오른쪽 그림과 같은 평행사변형 ABCD에서 $\angle x + \angle y$ 의 값은? (단, 점 O는 두 대각선의 교점)



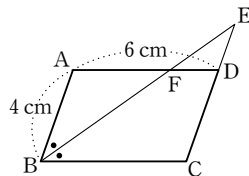
- ① 80°
- ② 85°
- ③ 90°
- ④ 95°
- ⑤ 100°

02 오른쪽 그림과 같은 평행사변형 ABCD에서 $\overline{AB} \parallel \overline{GH} \parallel \overline{DC}$, $\overline{AD} \parallel \overline{EF} \parallel \overline{BC}$ 일 때, 다음 중 옳은 것은?

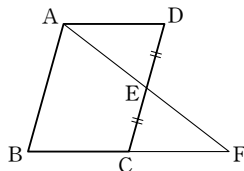


- ① $\angle x = 120^\circ$
- ② $\angle y = 60^\circ$
- ③ $a = 3$
- ④ $b = 6$
- ⑤ $c = 4$

03 오른쪽 그림과 같은 평행사변형 ABCD에서 $\angle B$ 의 이등분선이 \overline{CD} 의 연장선과 만나는 점을 E라 할 때, \overline{DE} 의 길이를 구하시오.

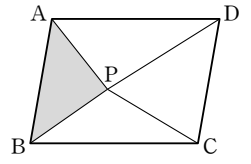


04 오른쪽 그림과 같은 평행사변형 ABCD에서 \overline{DC} 의 중점을 E, \overline{AE} 의 연장선이 \overline{BC} 의 연장선과 만나는 점을 F라 할 때, 다음 중 옳지 않은 것은?



- ① $\overline{AD} = \overline{CF}$
- ② $\overline{BC} = \overline{CF}$
- ③ $\overline{AB} = \overline{BF}$
- ④ $\overline{AE} = \overline{EF}$
- ⑤ $\triangle AED \cong \triangle FEC$

05 오른쪽 그림과 같은 평행사변형 ABCD의 내부에 한 점 P를 잡았다.



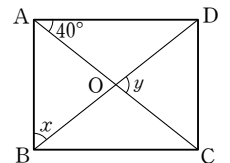
$\triangle PAD = 17 \text{ cm}^2$,
 $\triangle PBC = 13 \text{ cm}^2$, $\triangle PCD = 18 \text{ cm}^2$ 일 때, $\triangle PAB$ 의 넓이를 구하시오.

06 다음 사각형 중 평행사변형이 아닌 것은?

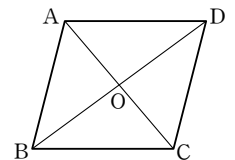
(단, 점 O는 두 대각선의 교점)

- ①
- ②
- ③
- ④
- ⑤

07 오른쪽 그림과 같은 직사각형 ABCD에서 $\angle x$, $\angle y$ 의 크기를 각각 구하시오.

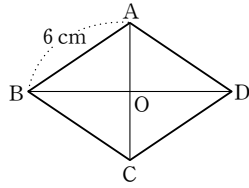


08 다음 중 오른쪽 그림의 평행사변형 ABCD가 직사각형이 되기 위한 조건이 아닌 것은?



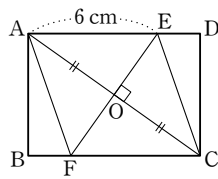
- ① $\overline{AC} = \overline{BD}$
- ② $\angle A = 90^\circ$
- ③ $\angle A = \angle B$
- ④ $\angle AOD = 90^\circ$
- ⑤ $\overline{OA} = \overline{OB}$

09 다음 중 오른쪽 그림의 평행 사변형 ABCD가 마름모가 되기 위한 조건을 모두 고르면? (단, 점 O는 두 대각선의 교점) (정답 2개)



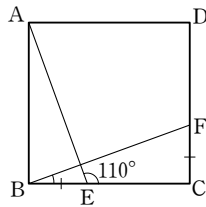
- ① $\overline{AD} = 6 \text{ cm}$
- ② $\angle A = 90^\circ$
- ③ $\angle AOB = 90^\circ$
- ④ $\overline{AC} = 6 \text{ cm}$
- ⑤ $\overline{AD} = 8 \text{ cm}$

10 오른쪽 그림과 같은 직사각형 ABCD에서 대각선 AC의 수직이등분선이 \overline{AD} , \overline{BC} 와 만나는 점을 각각 E, F라 하자. $\overline{AE} = 6 \text{ cm}$ 일 때, \overline{AF} 의 길이를 구하시오.

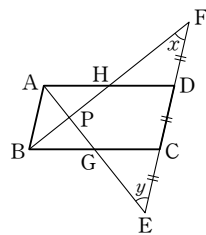


11 오른쪽 그림과 같은 정사각형 ABCD에서 $\overline{BE} = \overline{CF}$ 이고 $\angle AEC = 110^\circ$ 일 때, $\angle FBC$ 의 크기는?

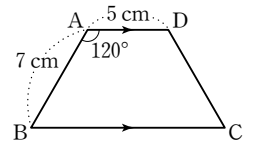
- ① 15°
- ② 20°
- ③ 25°
- ④ 30°
- ⑤ 35°



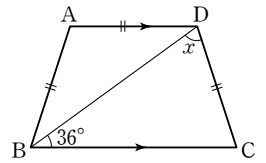
12 오른쪽 그림과 같은 평행사변형 ABCD에서 $\overline{AD} = 2\overline{AB}$ 이다. \overline{CD} 의 연장선 위에 $\overline{EC} = \overline{CD} = \overline{DF}$ 가 되도록 두 점 E, F를 잡고 \overline{AE} 와 \overline{BF} 의 교점을 P라 할 때, $\angle x + \angle y$ 의 값을 구하시오.



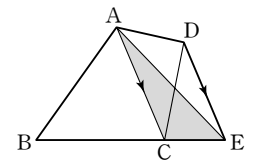
13 오른쪽 그림과 같이 $\overline{AD} \parallel \overline{BC}$ 인 등변사다리꼴 ABCD에서 $\overline{AB} = 7 \text{ cm}$, $\overline{AD} = 5 \text{ cm}$ 이고 $\angle A = 120^\circ$ 일 때, \overline{BC} 의 길이를 구하시오.



14 오른쪽 그림과 같이 $\overline{AD} \parallel \overline{BC}$ 인 등변사다리꼴 ABCD에서 $\overline{AB} = \overline{AD} = \overline{DC}$ 이고 $\angle DBC = 36^\circ$ 일 때, $\angle x$ 의 크기를 구하시오.

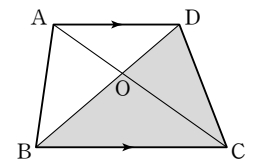


15 오른쪽 그림에서 $\overline{AC} \parallel \overline{DE}$ 이고 $\triangle ABC$ 의 넓이가 23 cm^2 , $\square ABCD$ 의 넓이가 32 cm^2 일 때, $\triangle ACE$ 의 넓이를 구하시오.

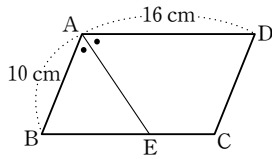


16 오른쪽 그림과 같이 $\overline{AD} \parallel \overline{BC}$ 인 사다리꼴 ABCD에서 $\overline{AO} : \overline{OC} = 2 : 3$ 이고 $\triangle OBC = 24 \text{ cm}^2$ 일 때, $\triangle DBC$ 의 넓이는?

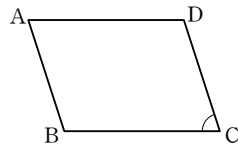
- ① 36 cm^2
- ② 38 cm^2
- ③ 40 cm^2
- ④ 42 cm^2
- ⑤ 44 cm^2



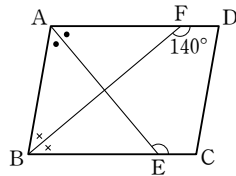
01 오른쪽 그림과 같은 평행사변형 ABCD에서 $\angle A$ 의 이등분선이 \overline{BC} 와 만나는 점을 E라 하자. $\overline{AB}=10\text{ cm}$, $\overline{AD}=16\text{ cm}$ 일 때, \overline{CE} 의 길이를 구하시오.



02 오른쪽 그림과 같은 평행사변형 ABCD에서 $\angle A : \angle B = 2 : 3$ 일 때, $\angle C$ 의 크기는?
 ① 66° ② 68° ③ 70°
 ④ 72° ⑤ 74°

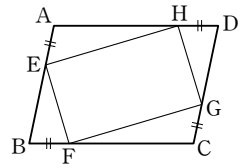


03 오른쪽 그림과 같은 평행사변형 ABCD에서 $\angle A$ 의 이등분선이 \overline{BC} 와 만나는 점을 E, $\angle B$ 의 이등분선이 \overline{AD} 와 만나는 점을 F라 하자. $\angle BFD=140^\circ$ 일 때, $\angle AEC$ 의 크기를 구하시오.

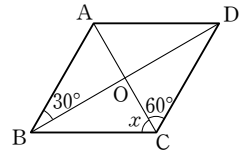


04 다음 중 $\square ABCD$ 가 평행사변형이 아닌 것은?
 ① $\overline{AB} \parallel \overline{DC}$, $\overline{AD} \parallel \overline{BC}$
 ② $\angle A = 100^\circ$, $\angle B = 80^\circ$, $\angle C = 100^\circ$
 ③ $\overline{AB} \parallel \overline{DC}$, $\overline{AB} = 5\text{ cm}$, $\overline{DC} = 5\text{ cm}$
 ④ $\angle A = 70^\circ$, $\angle B = 110^\circ$, $\overline{AD} = 3\text{ cm}$, $\overline{BC} = 3\text{ cm}$
 ⑤ $\overline{AB} = 3\text{ cm}$, $\overline{BC} = 3\text{ cm}$, $\overline{CD} = 5\text{ cm}$, $\overline{DA} = 5\text{ cm}$

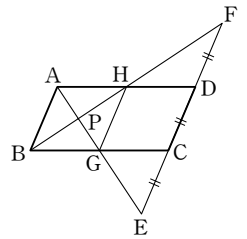
05 오른쪽 그림에서 $\square ABCD$ 는 평행사변형이고 $\overline{AE} = \overline{BF} = \overline{CG} = \overline{DH}$ 일 때, $\square EFGH$ 는 어떤 사각형인지 말하시오.



06 오른쪽 그림과 같은 평행사변형 ABCD에서 $\angle x$ 의 크기를 구하시오. (단, 점 O는 두 대각선의 교점)



07 오른쪽 그림과 같은 평행사변형 ABCD에서 $\overline{AD} = 2\overline{AB}$ 이고, \overline{CD} 의 연장선 위에 $\overline{EC} = \overline{CD} = \overline{DF}$ 가 되도록 두 점 E, F를 잡았다. 다음 중 옳지 않은 것은?
 ① $\angle BPG = 90^\circ$
 ② $\overline{AH} = \frac{1}{2}\overline{AD}$
 ③ $\triangle ABH \cong \triangle DFH$
 ④ $\overline{AP} = \overline{PG}$, $\overline{BP} = \overline{PH}$
 ⑤ $\square ABGH$ 는 정사각형이다.

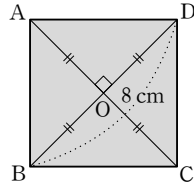


08 다음 조건을 모두 만족하는 $\square ABCD$ 는 어떤 사각형인가?

- | | |
|---|---|
| (가) $\overline{AB} \parallel \overline{CD}$ | (나) $\overline{AD} \parallel \overline{BC}$ |
| (다) $\overline{AB} = \overline{AD}$ | (라) $\angle A = 90^\circ$ |

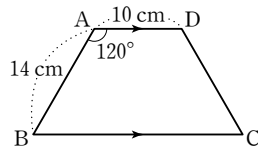
- ① 평행사변형 ② 마름모 ③ 직사각형
 ④ 정사각형 ⑤ 등변사다리꼴

09 오른쪽 그림과 같이 $\overline{AC} \perp \overline{BD}$ 이고, 한 대각선의 길이가 8 cm 인 $\square ABCD$ 의 넓이는?
(단, 점 O는 두 대각선의 교점)

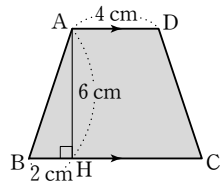


- ① 12 cm^2 ② 16 cm^2
- ③ 32 cm^2 ④ 48 cm^2
- ⑤ 64 cm^2

10 오른쪽 그림과 같이 $\overline{AD} \parallel \overline{BC}$ 인 등변사다리꼴 ABCD에서 $\overline{AB} = 14 \text{ cm}$, $\overline{AD} = 10 \text{ cm}$, $\angle A = 120^\circ$ 일 때, \overline{BC} 의 길이를 구하시오.



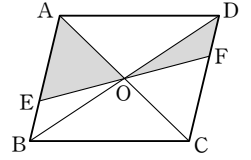
11 오른쪽 그림과 같이 $\overline{AD} \parallel \overline{BC}$ 인 등변사다리꼴 ABCD의 한 점 A에서 \overline{BC} 에 내린 수선의 발을 H라 하자. $\overline{AD} = 4 \text{ cm}$, $\overline{AH} = 6 \text{ cm}$, $\overline{BH} = 2 \text{ cm}$ 일 때, $\square ABCD$ 의 넓이를 구하시오.



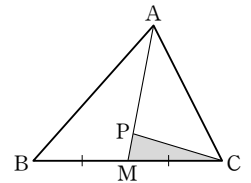
12 다음 중 옳지 않은 것은?

- ① 등변사다리꼴의 두 대각선의 길이는 서로 같다.
- ② 마름모는 평행사변형이다.
- ③ 한 내각의 크기가 90° 인 평행사변형은 직사각형이다.
- ④ 직사각형의 두 대각선의 길이는 같다.
- ⑤ 직사각형의 각 변의 중점을 연결하여 만든 사각형은 마름모이다.

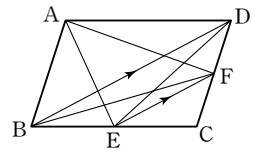
13 오른쪽 그림과 같은 평행사변형 ABCD의 넓이가 80 cm^2 일 때, 어두운 부분의 넓이를 구하시오. (단, 점 O는 두 대각선의 교점)



14 오른쪽 그림과 같은 $\triangle ABC$ 에서 점 M은 \overline{BC} 의 중점이다. $\overline{AP} : \overline{PM} = 4 : 1$ 이고 $\triangle ABC$ 의 넓이가 20일 때, $\triangle PMC$ 의 넓이를 구하시오.

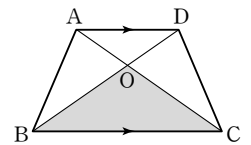


15 오른쪽 그림과 같은 평행사변형 ABCD에서 $\overline{BD} \parallel \overline{EF}$ 일 때, 다음 중 넓이가 나머지 넷과 다른 하나는?



- ① $\triangle ABE$ ② $\triangle BFD$ ③ $\triangle AFD$
- ④ $\triangle DBE$ ⑤ $\triangle ECD$

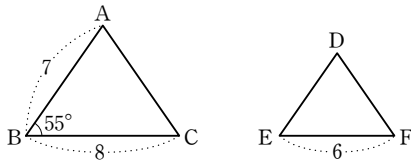
16 오른쪽 그림과 같이 $\overline{AD} \parallel \overline{BC}$ 인 사다리꼴 ABCD에서 $\triangle ABC = 40 \text{ cm}^2$, $\triangle DOC = 15 \text{ cm}^2$ 일 때, $\triangle OBC$ 의 넓이는? (단, 점 O는 두 대각선의 교점)



- ① 15 cm^2 ② 20 cm^2 ③ 25 cm^2
- ④ 30 cm^2 ⑤ 35 cm^2

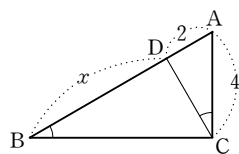
- 01 다음 중 답은 도형에 대한 설명으로 옳지 않은 것은?
- ① 답은인 두 도형의 대응각의 크기는 서로 같다.
 - ② 답은 도형에서 답은비란 대응변의 길이의 비이다.
 - ③ 서로 합동인 두 도형은 답은 도형이며 답은비는 1 : 1이다.
 - ④ 항상 답은인 두 평면도형은 원, 이등변삼각형, 정사각형 등이 있다.
 - ⑤ 한 도형을 일정한 비율로 확대 또는 축소하면 이 두 도형은 서로 답은인 관계에 있다고 한다.

- 02 아래 그림에서 $\triangle ABC \sim \triangle DEF$ 일 때, 다음을 구하십시오.

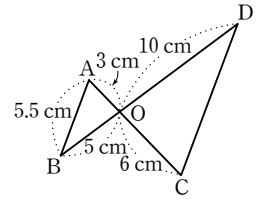


- (1) \overline{DE} 의 길이
- (2) $\angle E$ 의 크기

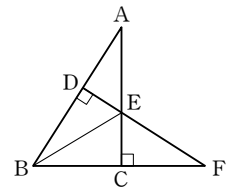
- 03 오른쪽 그림과 같은 $\triangle ABC$ 에서 $\angle ACD = \angle ABC$ 이고 $\overline{AC} = 4$, $\overline{AD} = 2$ 일 때, x 의 값을 구하십시오.



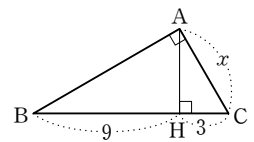
- 04 오른쪽 그림에서 \overline{CD} 의 길이는?
- ① 9 cm ② 10 cm
 - ③ 11 cm ④ 12 cm
 - ⑤ 13 cm



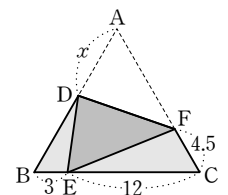
- 05 오른쪽 그림에서 다음 중 나머지 네 삼각형과 답은 삼각형이 아닌 것은?
- ① $\triangle ADE$ ② $\triangle FCE$
 - ③ $\triangle ACB$ ④ $\triangle FDB$
 - ⑤ $\triangle BEC$



- 06 오른쪽 그림과 같이 $\angle A = 90^\circ$ 인 직각삼각형 ABC에서 $\overline{AH} \perp \overline{BC}$ 이고 $\overline{BH} = 9$, $\overline{CH} = 3$ 일 때, x 의 값을 구하십시오.



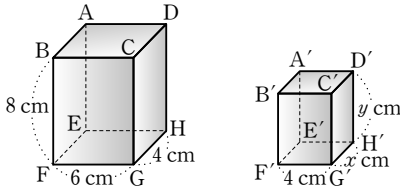
- 07 오른쪽 그림과 같이 정삼각형 ABC의 꼭짓점 A가 \overline{BC} 위의 점 E에 오도록 접었을 때, x 의 값을 구하십시오.



01 다음 중 항상 닮은 도형이 아닌 것은?

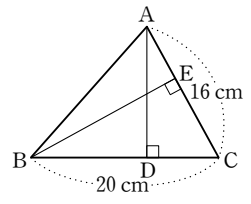
- ① 두 정삼각형 ② 두 원
- ③ 두 원기둥 ④ 두 정사면체
- ⑤ 중심각의 크기가 같은 두 부채꼴

02 다음 그림의 두 직육면체는 서로 닮은 도형이다. $\square ABCD \sim \square A'B'C'D'$ 일 때, $x+y$ 의 값은?



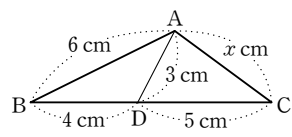
- ① 6 ② $\frac{20}{3}$ ③ 7
- ④ $\frac{22}{3}$ ⑤ 8

03 오른쪽 그림과 같은 $\triangle ABC$ 에서 $\angle ADC = \angle BEC = 90^\circ$ 이다. $\overline{AC} = 16 \text{ cm}$, $\overline{BC} = 20 \text{ cm}$ 일 때, $\overline{AD} : \overline{BE}$ 는?

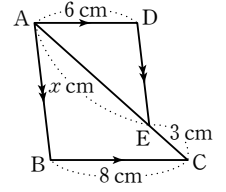


- ① 2 : 3 ② 3 : 4 ③ 4 : 3
- ④ 4 : 5 ⑤ 5 : 4

04 오른쪽 그림과 같은 $\triangle ABC$ 에서 x 의 값을 구하시오.

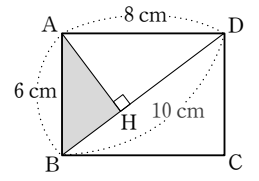


05 오른쪽 그림에서 $\overline{AD} \parallel \overline{BC}$, $\overline{AB} \parallel \overline{DE}$ 일 때, x 의 값은?

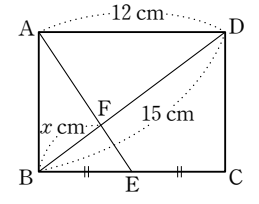


- ① 6 ② 7
- ③ 8 ④ 9
- ⑤ 10

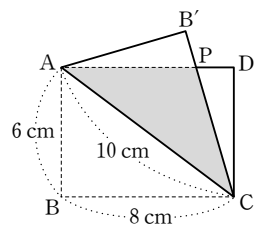
06 오른쪽 그림과 같은 직사각형 ABCD에서 $\overline{AB} = 6 \text{ cm}$, $\overline{AD} = 8 \text{ cm}$, $\overline{BD} = 10 \text{ cm}$ 이고 $\overline{AH} \perp \overline{BD}$ 일 때, $\triangle ABH$ 의 넓이를 구하시오.



07 오른쪽 그림과 같은 직사각형 ABCD에서 점 E는 \overline{BC} 의 중점이고 점 F는 \overline{AE} 와 \overline{BD} 의 교점이다. $\overline{AD} = 12 \text{ cm}$, $\overline{BD} = 15 \text{ cm}$ 일 때, x 의 값을 구하시오.



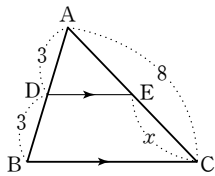
08 오른쪽 그림은 직사각형 ABCD를 점 B가 점 B'에 오도록 대각선 AC를 접은 것이다. $\overline{CB'}$ 과 \overline{AD} 의 교점을 P라 할 때, $\triangle ACP$ 의 넓이는?



- ① $\frac{65}{4} \text{ cm}^2$ ② $\frac{75}{4} \text{ cm}^2$ ③ 20 cm^2
- ④ $\frac{102}{5} \text{ cm}^2$ ⑤ 25 cm^2

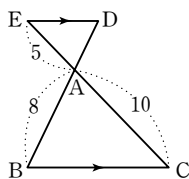
중단원 테스트

01 오른쪽 그림에서 $\overline{BC} \parallel \overline{DE}$ 일 때, x 의 값을 구하시오.

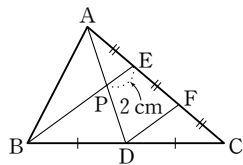


02 오른쪽 그림에서 $\overline{BC} \parallel \overline{DE}$ 일 때, \overline{BD} 의 길이는?

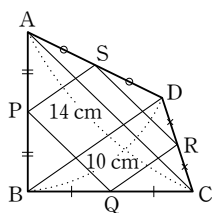
- ① 10 ② 11
- ③ 12 ④ 13
- ⑤ 14



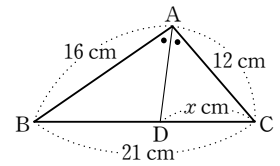
03 오른쪽 그림의 $\triangle ABC$ 에서 $\overline{AE} = \overline{EF} = \overline{FC}$, $\overline{BD} = \overline{DC}$ 이다. \overline{AD} 와 \overline{BE} 의 교점을 P라 하면 $\overline{PE} = 2$ cm일 때, \overline{BP} 의 길이를 구하시오.



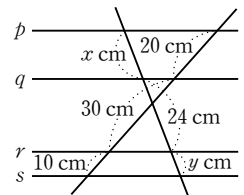
04 오른쪽 그림의 $\square ABCD$ 에서 \overline{AB} , \overline{BC} , \overline{CD} , \overline{DA} 의 중점을 각각 P, Q, R, S라 할 때, $\square PQRS$ 의 둘레의 길이를 구하시오.



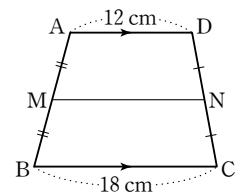
05 오른쪽 그림의 $\triangle ABC$ 에서 \overline{AD} 가 $\angle A$ 의 이등분선일 때, x 의 값을 구하시오.



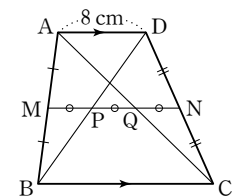
06 오른쪽 그림에서 $p \parallel q \parallel r \parallel s$ 일 때, x, y 의 값을 각각 구하시오.



07 오른쪽 그림과 같이 $\overline{AD} \parallel \overline{BC}$ 인 사다리꼴 ABCD에서 \overline{AB} , \overline{DC} 의 중점을 각각 M, N이라 할 때, \overline{MN} 의 길이를 구하시오.



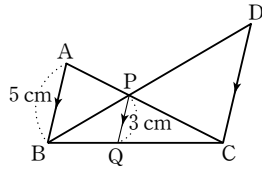
08 오른쪽 그림과 같이 $\overline{AD} \parallel \overline{BC}$ 인 사다리꼴 ABCD에서 두 점 M, N은 각각 \overline{AB} , \overline{DC} 의 중점이다. $\overline{AD} = 8$ cm이고 $\overline{MP} = \overline{PQ} = \overline{QN}$ 일 때, \overline{BC} 의 길이는?



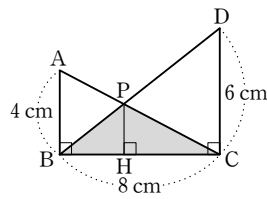
- ① 8 cm ② 10 cm ③ 12 cm
- ④ 14 cm ⑤ 16 cm

09 오른쪽 그림에서 $\overline{AB} \parallel \overline{PQ} \parallel \overline{DC}$ 일 때, \overline{DC} 의 길이는?

- ① 3.5 cm ② 4.5 cm
- ③ 5.5 cm ④ 6.5 cm
- ⑤ 7.5 cm

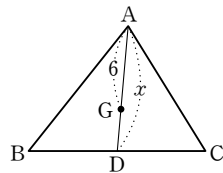


10 오른쪽 그림에서 $\overline{AB}, \overline{PH}, \overline{DC}$ 는 모두 \overline{BC} 에 수직이다. $\overline{AB}=4$ cm, $\overline{DC}=6$ cm, $\overline{BC}=8$ cm일 때, $\triangle PBC$ 의 넓이를 구하시오.

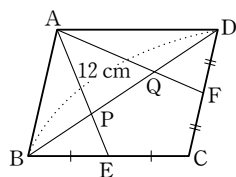


11 오른쪽 그림에서 점 G가 $\triangle ABC$ 의 무게중심일 때, x 의 값은?

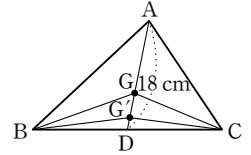
- ① 8 ② 8.5
- ③ 9 ④ 9.5
- ⑤ 10



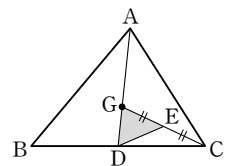
12 오른쪽 그림과 같은 평행사변형 ABCD에서 $\overline{BC}, \overline{CD}$ 의 중점을 각각 E, F라 하자. $\overline{BD}=12$ cm일 때, \overline{PQ} 의 길이를 구하시오.



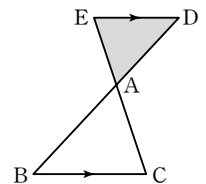
13 오른쪽 그림에서 두 점 G, G'은 각각 $\triangle ABC, \triangle GBC$ 의 무게중심이다. $\overline{AD}=18$ cm일 때, $\overline{GG'}$ 의 길이를 구하시오.



14 오른쪽 그림에서 점 G는 $\triangle ABC$ 의 무게중심이다. $\overline{GE}=\overline{EC}$ 이고 $\triangle ABC$ 의 넓이가 48 cm²일 때, $\triangle GDE$ 의 넓이를 구하시오.



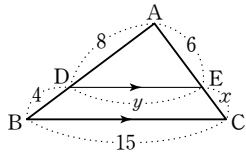
15 오른쪽 그림에서 $\overline{BC} \parallel \overline{ED}$ 이고, $\overline{AD} : \overline{AB}=3 : 4$ 이다. $\triangle ABC$ 의 넓이가 32 cm²일 때, $\triangle ADE$ 의 넓이를 구하시오.



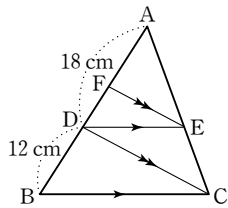
16 두 입체도형 P, Q는 서로 닮은 도형이고 닮음비는 1 : 2이다. 입체도형 Q의 부피가 32 cm³일 때, 입체도형 P의 부피는?

- ① 4 cm³ ② 6 cm³ ③ 8 cm³
- ④ 16 cm³ ⑤ 20 cm³

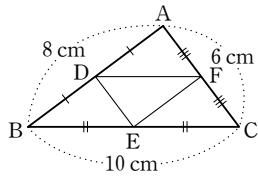
- 01 오른쪽 그림에서 $\overline{DE} \parallel \overline{BC}$ 일 때, $x+y$ 의 값을 구하시오.



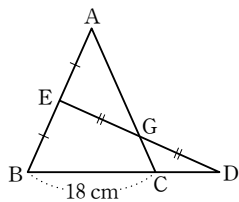
- 02 오른쪽 그림과 같은 $\triangle ABC$ 에서 $\overline{DE} \parallel \overline{BC}$, $\overline{FE} \parallel \overline{DC}$ 이고 $\overline{AD}=18\text{ cm}$, $\overline{DB}=12\text{ cm}$ 일 때, \overline{AF} 의 길이를 구하시오.



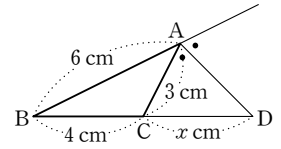
- 03 오른쪽 그림과 같은 $\triangle ABC$ 에서 세 점 D, E, F는 각각 \overline{AB} , \overline{BC} , \overline{CA} 의 중점일 때, $\triangle DEF$ 의 둘레의 길이를 구하시오.



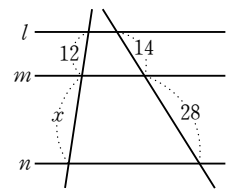
- 04 오른쪽 그림에서 $\overline{AE} = \overline{EB}$, $\overline{EG} = \overline{DG}$ 이고 $\overline{BC} = 18\text{ cm}$ 일 때, \overline{CD} 의 길이를 구하시오.



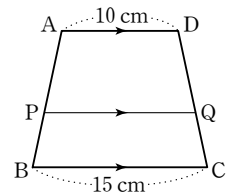
- 05 오른쪽 그림과 같은 $\triangle ABC$ 에서 \overline{AD} 가 $\angle A$ 의 외각의 이등분선일 때, x 의 값을 구하시오.



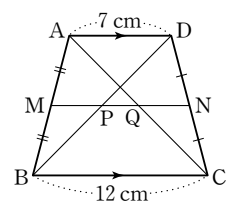
- 06 오른쪽 그림에서 $l \parallel m \parallel n$ 일 때, x 의 값을 구하시오.



- 07 오른쪽 그림과 같이 $\overline{AD} \parallel \overline{BC}$ 인 사다리꼴 ABCD에서 $\overline{AP} : \overline{PB} = 3 : 2$ 이고 $\overline{AD} \parallel \overline{PQ}$ 일 때, \overline{PQ} 의 길이를 구하시오.



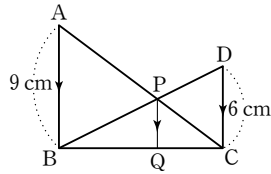
- 08 오른쪽 그림과 같이 $\overline{AD} \parallel \overline{BC}$ 인 사다리꼴 ABCD에서 \overline{AB} , \overline{DC} 의 중점을 각각 M, N이라 할 때, \overline{PQ} 의 길이는?



- ① 2.5 cm ② 3 cm
③ 3.5 cm ④ 4 cm
⑤ 4.5 cm

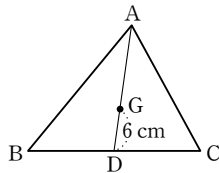
09 오른쪽 그림에서 $\overline{AB} \parallel \overline{PQ} \parallel \overline{DC}$ 일 때, \overline{PQ} 의 길이는?

- ① 3.8 cm ② 3.6 cm
- ③ 3.4 cm ④ 3.2 cm
- ⑤ 3 cm

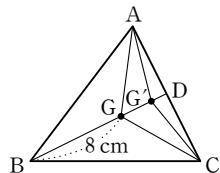


10 오른쪽 그림에서 점 G가 $\triangle ABC$ 의 무게중심일 때, \overline{AD} 의 길이는?

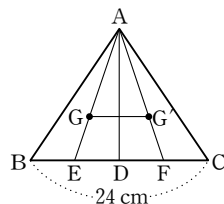
- ① 16 cm ② 18 cm
- ③ 20 cm ④ 22 cm
- ⑤ 24 cm



11 오른쪽 그림에서 두 점 G, G'은 각각 $\triangle ABC$, $\triangle AGC$ 의 무게중심이다. $\overline{BG} = 8$ cm일 때, $\overline{GG'}$ 의 길이를 구하시오.

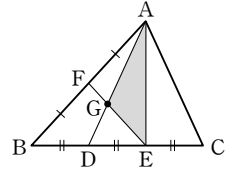


12 오른쪽 그림에서 두 점 G, G'은 각각 $\triangle ABD$, $\triangle ADC$ 의 무게중심이다. $\overline{BC} = 24$ cm일 때, $\overline{GG'}$ 의 길이를 구하시오.

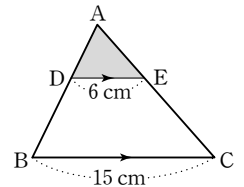


13 오른쪽 그림에서 두 점 D, E는 \overline{BC} 의 3등분점이고, 점 F는 \overline{AB} 의 중점이다. $\triangle ABC$ 의 넓이가 72 cm^2 일 때, $\triangle AGE$ 의 넓이는?

- ① 12 cm^2 ② 14 cm^2 ③ 16 cm^2
- ④ 18 cm^2 ⑤ 20 cm^2

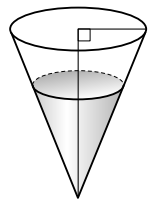


14 오른쪽 그림과 같은 $\triangle ABC$ 에서 $\overline{DE} \parallel \overline{BC}$ 이고, $\square DBCE = 63 \text{ cm}^2$ 일 때, $\triangle ADE$ 의 넓이를 구하시오.



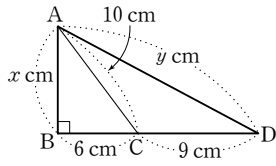
15 오른쪽 그림과 같은 원뿔 모양의 그릇에 일정한 속도로 물을 채우고 있다. 그릇의 높이의 $\frac{2}{3}$ 까지 물을 채우는 데 8분이 걸린다고 할 때, 물을 가득 채우는 데 몇 분이 더 걸리겠는가?

- ① 8분 ② 16분 ③ 18분
- ④ 19분 ⑤ 27분

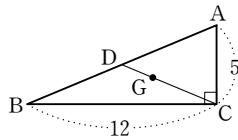


16 축척이 $\frac{1}{30000}$ 인 지도에서 가로의 길이가 8 cm, 세로의 길이가 5 cm인 직사각형 모양의 공원이 있다. 이 공원의 실제 넓이는 몇 km^2 인지 구하시오.

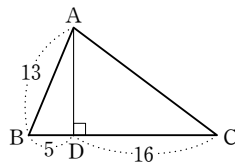
01 오른쪽 그림과 같이 $\angle B=90^\circ$ 인 직각삼각형 ABC에서 x, y 의 값을 각각 구하시오.



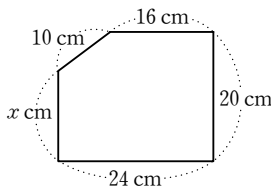
02 오른쪽 그림에서 점 G가 직각삼각형 ABC의 무게중심일 때, \overline{DG} 의 길이를 구하시오.



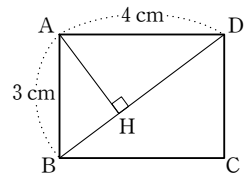
03 오른쪽 그림과 같은 $\triangle ABC$ 에서 $\overline{AD} \perp \overline{BC}$ 이고 $\overline{AB}=13, \overline{BD}=5, \overline{CD}=16$ 일 때, \overline{AC} 의 길이를 구하시오.



04 가로 길이가 24 cm, 세로 길이가 20 cm인 직사각형 모양의 종이를 한 귀퉁이를 잘라 오른쪽 그림과 같이 만들었을 때, x 의 값을 구하시오.

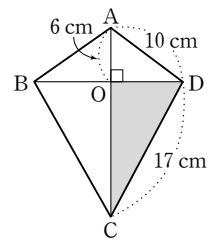


05 오른쪽 그림과 같이 $\overline{AB}=3$ cm, $\overline{AD}=4$ cm인 직사각형 ABCD의 꼭짓점 A에서 대각선 BD에 내린 수선의 발을 H라 할 때, \overline{AH} 의 길이는?

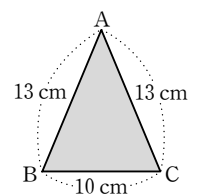


- ① $\frac{9}{5}$ cm ② $\frac{12}{5}$ cm ③ $\frac{13}{5}$ cm
- ④ $\frac{16}{5}$ cm ⑤ $\frac{24}{5}$ cm

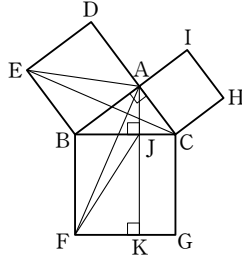
06 오른쪽 그림과 같은 $\square ABCD$ 에서 $\overline{AC} \perp \overline{BD}$ 이고 두 대각선의 교점을 O라 하자. $\overline{AO}=6$ cm, $\overline{AD}=10$ cm, $\overline{CD}=17$ cm일 때, $\triangle OCD$ 의 넓이를 구하시오.



07 오른쪽 그림과 같이 $\overline{AB}=\overline{AC}=13$ cm, $\overline{BC}=10$ cm인 이등변삼각형 ABC의 넓이를 구하시오.

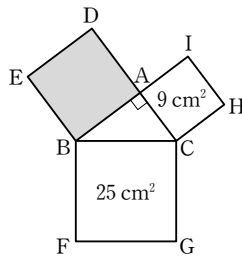


08 오른쪽 그림은 $\angle A=90^\circ$ 인 직각삼각형 ABC에서 세 변을 각각 한 변으로 하는 세 정사각형 ADEB, BFGC, ACHI를 그린 것이다. 다음 중 옳지 않은 것은?



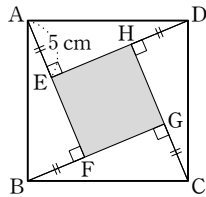
- ① $\triangle EBC \equiv \triangle ABF$
- ② $\triangle AEB = \triangle JBF$
- ③ $\triangle ABF = \triangle JBF$
- ④ $\square JKGC = \square ACHI$
- ⑤ $\triangle BFJ = \square ADEB$

09 오른쪽 그림은 $\angle A=90^\circ$ 인 직각삼각형 ABC의 세 변을 각각 한 변으로 하는 세 정사각형을 그린 것이다. $\square BFGC$ 의 넓이가 25 cm^2 , $\square ACHI$ 의 넓이가 9 cm^2 일 때, $\square ADEB$ 의 넓이는?



- ① 24 cm^2 ② 22 cm^2 ③ 20 cm^2
- ④ 18 cm^2 ⑤ 16 cm^2

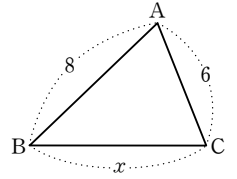
10 오른쪽 그림과 같은 정사각형 ABCD의 넓이가 169 cm^2 이고 $\overline{AE} = \overline{BF} = \overline{CG} = \overline{DH} = 5\text{ cm}$ 일 때, $\square EFGH$ 의 넓이를 구하시오.



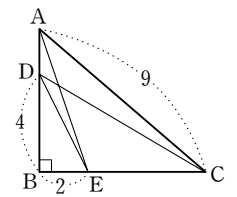
11 다음 중 직각삼각형의 세 변의 길이가 될 수 있는 것을 모두 고르면? (정답 2개)

- ① 5 cm, 6 cm, 8 cm
- ② 8 cm, 10 cm, 13 cm
- ③ 9 cm, 12 cm, 15 cm
- ④ 9 cm, 15 cm, 18 cm
- ⑤ 15 cm, 20 cm, 25 cm

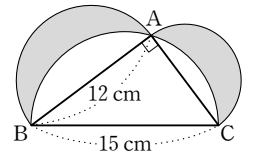
12 오른쪽 그림과 같은 $\triangle ABC$ 에서 $\overline{AB}=8$, $\overline{AC}=6$ 일 때, $\angle C < 90^\circ$ 가 되도록 하는 자연수 x 의 개수를 구하시오. (단, $x > 8$)



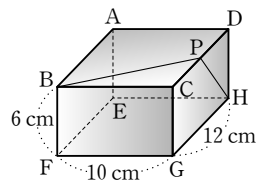
13 오른쪽 그림과 같이 $\angle B=90^\circ$ 인 직각삼각형 ABC에서 $\overline{AE}^2 + \overline{CD}^2$ 의 값을 구하시오.



14 오른쪽 그림은 $\angle A=90^\circ$ 인 직각삼각형 ABC의 세 변을 각각 지름으로 하는 세 반원을 그린 것이다. $\overline{AB}=12\text{ cm}$, $\overline{BC}=15\text{ cm}$ 일 때, 어두운 부분의 넓이를 구하시오.

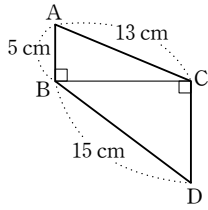


15 오른쪽 그림과 같은 직육면체의 꼭짓점 B에서 출발하여 \overline{CD} 를 지나 점 H에 이르는 최단 거리를 구하시오.



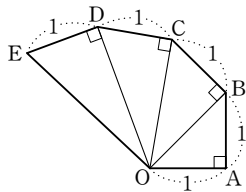
01 오른쪽 그림에서 \overline{CD} 의 길이는?

- ① 8 cm ② 9 cm
- ③ 10 cm ④ 11 cm
- ⑤ 12 cm



02 오른쪽 그림과 같이

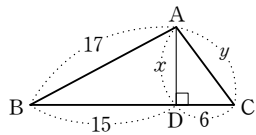
$\overline{OA} = \overline{AB} = \overline{BC}$
 $= \overline{CD} = \overline{DE} = 1$
 일 때, \overline{OE}^2 의 값을 구하시오.



03 오른쪽 그림과 같은

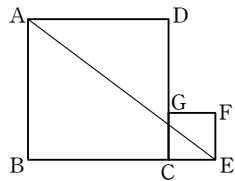
$\triangle ABC$ 에서 $\overline{AD} \perp \overline{BC}$ 이고
 $\overline{AB} = 17$, $\overline{BD} = 15$,
 $\overline{CD} = 6$ 일 때, $x + y$ 의 값은?

- ① 10 ② 14 ③ 18
- ④ 22 ⑤ 26



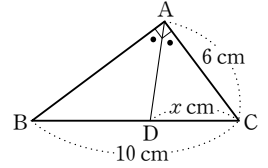
04 오른쪽 그림과 같이 넓이가

36 cm^2 인 정사각형 ABCD와
 넓이가 4 cm^2 인 정사각형
 GCEF를 세 점 B, C, E가
 한 직선 위에 있도록 이어 붙
 였을 때, \overline{AE} 의 길이를 구하시오.



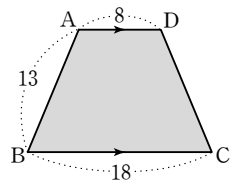
05 오른쪽 그림과 같은

$\triangle ABC$ 에서 $\overline{AC} = 6 \text{ cm}$,
 $\overline{BC} = 10 \text{ cm}$ 이고 $\angle A = 90^\circ$,
 $\angle BAD = \angle CAD$ 일 때,
 x 의 값을 구하시오.



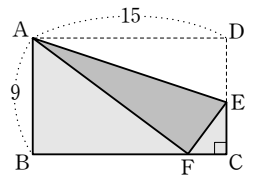
06 오른쪽 그림과 같이

$\overline{AD} \parallel \overline{BC}$ 이고 $\overline{AD} = 8$,
 $\overline{AB} = 13$, $\overline{BC} = 18$ 인 등변
 사다리꼴 ABCD의 넓이를
 구하시오.



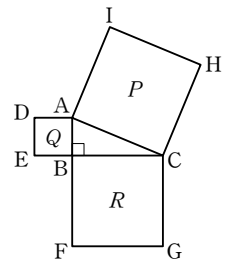
07 오른쪽 그림과 같은 직사각
 형 모양의 종이 ABCD에서

\overline{AE} 를 접는 선으로 하여 꼭
 짓점 D가 \overline{BC} 위의 점 F에
 오게 접었다. $\overline{AB} = 9$,
 $\overline{AD} = 15$ 일 때, \overline{EF} 의 길이를 구하시오.

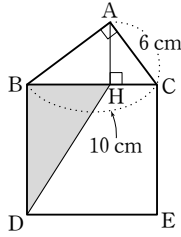


08 오른쪽 그림은 직각삼각형

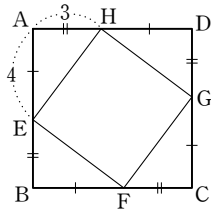
ABC의 세 변을 각각 한 변으
 로 하는 세 정사각형 P, Q, R를
 그린 것이다. P의 넓이가
 169 cm^2 , Q의 넓이가 25 cm^2 일
 때, \overline{BC} 의 길이를 구하시오.



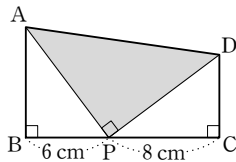
09 오른쪽 그림과 같이 $\angle A = 90^\circ$ 인 직각삼각형 ABC에서 \overline{BC} 를 한 변으로 하는 정사각형 BDEC를 그렸다. $\overline{AC} = 6\text{ cm}$, $\overline{BC} = 10\text{ cm}$ 이고 점 A에서 \overline{BC} 에 그은 수선의 발을 H라 할 때, $\triangle BDH$ 의 넓이를 구하시오.



10 오른쪽 그림과 같은 정사각형 ABCD에서 $\overline{AE} = \overline{BF} = \overline{CG} = \overline{DH} = 4$, $\overline{AH} = \overline{BE} = \overline{CF} = \overline{DG} = 3$ 일 때, 사각형 EFGH의 둘레의 길이를 구하시오.



11 오른쪽 그림과 같은 사다리꼴 ABCD에서 $\angle APD = 90^\circ$ 이고 $\triangle ABP \cong \triangle PCD$ 이다. 이때 $\triangle APD$ 의 넓이를 구하시오.

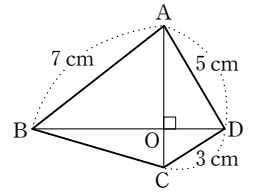


12 세 변의 길이가 각각 다음과 같은 삼각형 중에서 직각삼각형인 것을 모두 고르면? (정답 2개)

- ① 2, 3, 4 ② 6, 9, 12
- ③ 8, 15, 17 ④ 9, 40, 41
- ⑤ 10, 13, 15

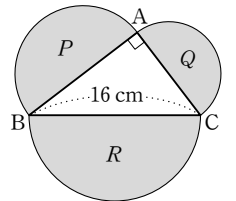
13 세 변의 길이가 각각 3, 5, a 인 삼각형이 둔각삼각형이 되도록 하는 자연수 a 의 값의 합을 구하시오. (단, $a > 5$)

14 오른쪽 그림과 같이 $\overline{AC} \perp \overline{BD}$ 인 $\square ABCD$ 에서 $\overline{AB} = 7\text{ cm}$, $\overline{AD} = 5\text{ cm}$, $\overline{CD} = 3\text{ cm}$ 일 때, \overline{BC}^2 의 값을 구하시오.

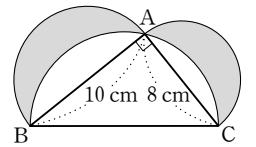


(단, 점 O는 두 대각선의 교점)

15 오른쪽 그림과 같이 $\angle A = 90^\circ$ 이고 $\overline{BC} = 16\text{ cm}$ 인 직각삼각형 ABC의 각 변을 지름으로 하는 세 반원을 그렸다. 이때 $P + Q + R$ 의 값을 구하시오.



16 오른쪽 그림과 같이 $\angle A = 90^\circ$ 인 직각삼각형 ABC의 세 변을 각각 지름으로 하는 세 반원을 그렸다. $\overline{AB} = 10\text{ cm}$, $\overline{AC} = 8\text{ cm}$ 일 때, 어두운 부분의 넓이를 구하시오.



01 5000원짜리 지폐 4장, 10000원짜리 지폐 4장으로 20000원을 지불하는 방법의 수를 구하시오.

02 1에서 20까지의 숫자가 각각 적힌 20장의 카드 중에서 한 장을 뽑을 때, 3의 배수가 적힌 카드가 나오는 경우의 수는?

- ① 4 ② 5 ③ 6
- ④ 7 ⑤ 8

03 한 개의 주사위를 두 번 던질 때, 두 눈의 수의 합이 4 또는 5가 되는 경우의 수는?

- ① 5 ② 6 ③ 7
- ④ 8 ⑤ 9

04 서로 다른 두 개의 주사위를 동시에 던질 때, 서로 다른 두 눈이 나오는 경우의 수를 구하시오.

05 서로 다른 종류의 수학 문제집 5권, 영어 문제집 4권이 있다. 이 중에서 수학 문제집과 영어 문제집을 각각 한 권씩 총 2권을 고르는 경우의 수는?

- ① 9 ② 10 ③ 12
- ④ 20 ⑤ 24

06 명훈이네 가족은 광주를 출발하여 대전을 거쳐서 서울까지 가기로 하였다. 다음 그림에서 광주에서 서울까지 가는 방법의 수를 구하시오.

(단, 한 번 지나간 지점은 다시 지나지 않는다.)



07 P, Q, R, S 4개의 알파벳을 일렬로 나열할 때, P가 맨 앞에 오는 경우의 수는?

- ① 3 ② 4 ③ 6
- ④ 8 ⑤ 12

08 여학생 2명, 남학생 3명을 한 줄로 세울 때, 여학생끼리 이웃하여 서는 경우의 수는?

- ① 6 ② 12 ③ 24
- ④ 36 ⑤ 48

09 1, 2, 3, 4, 5의 숫자가 각각 적힌 5장의 카드 중에서 3장을 뽑아 만들 수 있는 세 자리의 자연수의 개수는?

- ① 60 ② 54 ③ 50
- ④ 30 ⑤ 20

10 1, 2, 3, 4의 숫자가 각각 적힌 4장의 카드가 있다. 이 중에서 2장을 뽑아 만들 수 있는 두 자리의 자연수 중 짝수의 개수는?

- ① 2 ② 4 ③ 6
- ④ 8 ⑤ 10

11 0, 1, 2, 3, 4의 숫자가 각각 적힌 5장의 카드 중에서 3장을 뽑아 만들 수 있는 세 자리의 자연수의 개수는?

- ① 12 ② 24 ③ 30
- ④ 48 ⑤ 60

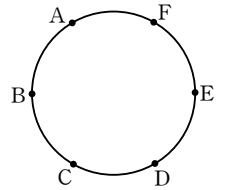
12 남학생 3명과 여학생 4명이 있다. 이 중에서 남녀 대표를 각각 1명씩 뽑는 경우의 수는?

- ① 3 ② 4 ③ 7
- ④ 12 ⑤ 16

13 6명의 대의원 가운데 회장 1명, 부회장 2명을 뽑는 경우의 수를 구하시오.

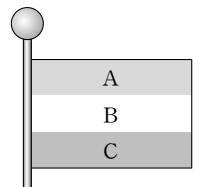
14 각 나라 10명의 정상들이 한 사람도 빠짐없이 서로 한 번씩 악수를 했다면 모두 몇 번의 악수를 했는지 구하시오.

15 오른쪽 그림과 같이 원 위에 A, B, C, D, E, F 6개의 점이 있다. 이 중에서 서로 다른 세 점을 이어 만들 수 있는 삼각형의 개수는?



- ① 10 ② 20 ③ 30
- ④ 40 ⑤ 60

16 오른쪽 그림과 같이 A, B, C 세 부분에 빨강, 노랑, 초록의 3가지 색을 칠하여 깃발을 만들려고 한다. 같은 색을 여러 번 칠할 수는 있으나 이웃한 부분은 서로 다른 색을 칠하려고 할 때, 깃발을 만들 수 있는 경우의 수를 구하시오.



01 한 개의 주사위를 던질 때, 6의 약수의 눈이 나오는 경우의 수는?

- ① 1 ② 2 ③ 3
④ 4 ⑤ 5

02 50원, 100원, 500원짜리 동전이 각각 5개씩 있다. 이 동전을 사용하여 1750원을 지불하는 방법의 수는?

- ① 2 ② 3 ③ 4
④ 5 ⑤ 6

03 연우는 방과 후 수업 중 하나를 신청하려고 한다. 음악과 관련된 수업이 4가지, 체육과 관련된 수업이 5가지라 할 때, 연우가 신청할 수 있는 모든 경우의 수를 구하시오.

04 1에서 15까지의 숫자가 각각 적힌 15개의 공이 들어 있는 상자에서 한 개의 공을 꺼낼 때, 3의 배수 또는 4의 배수가 적힌 공이 나오는 경우의 수는?

- ① 7 ② 8 ③ 9
④ 10 ⑤ 11

05 서로 다른 두 개의 주사위를 동시에 던질 때, 두 눈의 수의 차가 1 또는 2가 되는 경우의 수는?

- ① 14 ② 15 ③ 16
④ 17 ⑤ 18

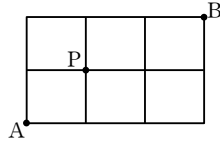
06 A 지점에서 B 지점까지 가는 방법이 4가지, B 지점에서 C 지점까지 가는 방법이 3가지가 있다. 이때 A 지점에서 B 지점을 거쳐 C 지점까지 가는 방법의 수는?
(단, 한 번 지나간 지점은 다시 지나지 않는다.)

- ① 3 ② 4 ③ 7
④ 12 ⑤ 20

07 서로 다른 동전 2개와 주사위 1개를 동시에 던질 때, 동전은 서로 같은 면이 나오고 주사위는 소수의 눈이 나오는 경우의 수를 구하시오.

08 A, B 두 사람이 가위바위보를 할 때, 한 번에 승부가 나는 경우의 수를 구하시오.

09 오른쪽 그림과 같은 모양의 도로가 있다. A 지점에서 P 지점을 거쳐 B 지점까지 최단 거리로 가는 방법의 수를 구하시오.



10 엄마, 아빠와 자녀 2명이 한 줄로 서서 가족 사진을 찍을 때, 엄마와 아빠가 서로 이웃하여 서는 경우의 수는?
 ① 12 ② 18 ③ 24
 ④ 36 ⑤ 48

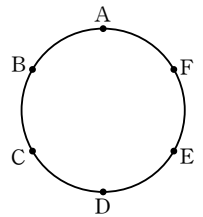
11 0, 1, 2, 3의 숫자가 각각 적힌 4장의 카드 중에서 2장을 뽑아 만들 수 있는 두 자리의 자연수의 개수는?
 ① 4 ② 7 ③ 9
 ④ 12 ⑤ 16

12 0에서 5까지의 숫자가 각각 적힌 6장의 카드 중에서 2장을 뽑아 만들 수 있는 20 이상의 자연수의 개수는?
 ① 20 ② 24 ③ 25
 ④ 30 ⑤ 36

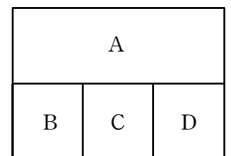
13 어느 지역 선거에서 시장 후보가 2명, 시의원 후보가 4명이다. 이 중에서 시장 1명, 시의원 2명을 뽑는 경우의 수를 구하시오.

14 5개의 농구팀이 서로 한 번씩 경기를 갖는다면 모두 몇 번의 경기를 해야 하는가?
 ① 8번 ② 10번 ③ 12번
 ④ 14번 ⑤ 16번

15 오른쪽 그림과 같이 여섯 개의 마을이 원형으로 위치하고 있다. 각 마을을 직선으로 잇는 길을 만든다고 할 때, 모두 몇 개의 길을 만들 수 있는지 구하시오.



16 오른쪽 그림의 A, B, C, D 네 부분에 빨강, 주황, 노랑, 초록의 4가지 색을 이용하여 칠하려고 한다. 같은 색을 여러 번 칠할 수는 있으나 이웃한 부분은 서로 다른 색을 칠하려고 할 때, 칠할 수 있는 경우의 수를 구하시오.



01 주머니 속에 모양과 크기가 같은 5개의 흰 바둑돌과 10개의 검은 바둑돌이 들어 있다. 이 중에서 임의로 한 개의 바둑돌을 꺼낼 때, 검은 바둑돌일 확률은?

- ① 0 ② $\frac{1}{3}$ ③ $\frac{1}{2}$
 ④ $\frac{2}{3}$ ⑤ 1

02 서로 다른 두 개의 주사위를 동시에 던질 때, 나온 두 눈의 수의 합이 9가 될 확률은?

- ① $\frac{1}{9}$ ② $\frac{1}{6}$ ③ $\frac{1}{3}$
 ④ $\frac{1}{2}$ ⑤ 0

03 갑, 을 두 사람이 가위바위보를 할 때, 갑이 이길 확률은?

- ① $\frac{1}{2}$ ② $\frac{1}{3}$ ③ $\frac{1}{4}$
 ④ $\frac{1}{5}$ ⑤ $\frac{2}{3}$

04 1에서 9까지의 자연수가 각각 적힌 9장의 카드 중에서 임의로 한 장을 뽑을 때, 10 이상의 자연수가 적힌 카드가 나올 확률은?

- ① 0 ② $\frac{1}{10}$ ③ $\frac{1}{9}$
 ④ $\frac{9}{10}$ ⑤ 1

05 0, 1, 2, 3의 숫자가 각각 적힌 4장의 카드가 있다. 이 중에서 임의로 2장을 뽑아 두 자리의 자연수를 만들 때, 그 수가 20 이상일 확률은?

- ① $\frac{1}{5}$ ② $\frac{1}{4}$ ③ $\frac{1}{3}$
 ④ $\frac{1}{2}$ ⑤ $\frac{2}{3}$

06 두 개의 주사위 A, B를 동시에 던져서 A 주사위에서 나온 눈의 수를 x , B 주사위에서 나온 눈의 수를 y 라 할 때, 방정식 $3x + y = 10$ 을 만족할 확률을 구하시오.

07 서로 다른 세 개의 동전을 동시에 던질 때, 적어도 하나는 앞면이 나올 확률을 구하시오.

08 1에서 10까지의 숫자가 각각 적힌 10장의 카드에서 임의로 한 장을 뽑을 때, 소수 또는 4의 배수가 적힌 카드가 나올 확률을 구하시오.

09 1에서 20까지의 숫자가 각각 적힌 20장의 카드가 있다. 이 중에서 임의로 한 장을 뽑을 때, 4의 배수 또는 5의 배수가 적힌 카드가 뽑힐 확률은?

- ① $\frac{1}{10}$ ② $\frac{1}{3}$ ③ $\frac{2}{5}$
- ④ $\frac{1}{2}$ ⑤ $\frac{3}{4}$

10 동전 한 개와 주사위 한 개를 동시에 던질 때, 동전은 앞면이 나오고 주사위는 소수의 눈이 나올 확률을 구하시오.

11 일기 예보에 따르면 내일 비가 올 확률이 20%, 황사가 올 확률이 30%라 한다. 이때 내일 비가 오지 않고 황사가 올 확률은?

- ① 10% ② 14% ③ 18%
- ④ 20% ⑤ 24%

12 정일리와 재호가 만나기로 약속하였다. 정일리와 재호가 약속 장소에 나갈 확률이 각각 $\frac{1}{5}$, $\frac{1}{4}$ 일 때, 두 사람이 약속 장소에서 만나지 못할 확률은?

- ① $\frac{19}{20}$ ② $\frac{9}{10}$ ③ $\frac{17}{20}$
- ④ $\frac{4}{5}$ ⑤ $\frac{3}{4}$

13 은수는 수학 시험에서 객관식 2문제를 풀지 못해 임의로 답을 체크하여 답안지를 제출하였다. 이때 적어도 한 문제를 맞힐 확률은? (단, 객관식 문제는 5개의 보기 중에서 하나를 고르는 문제이다.)

- ① $\frac{3}{25}$ ② $\frac{6}{25}$ ③ $\frac{9}{25}$
- ④ $\frac{12}{25}$ ⑤ $\frac{3}{5}$

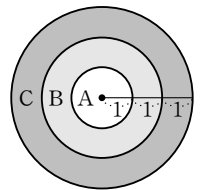
14 주머니 속에 검은 공 2개와 흰 공 3개가 들어 있다. 이 중에서 연속하여 2개의 공을 임의로 꺼낼 때, 둘 다 흰 공을 꺼낼 확률을 구하시오. (단, 꺼낸 공은 다시 넣는다.)

15 8개의 제비 중 당첨 제비가 2개 있다. 갑, 을 두 사람이 차례로 제비를 한 개씩 임의로 뽑을 때, 두 사람 모두 당첨 제비를 뽑을 확률은?

(단, 뽑은 제비는 다시 넣지 않는다.)

- ① $\frac{1}{28}$ ② $\frac{1}{14}$ ③ $\frac{3}{28}$
- ④ $\frac{1}{7}$ ⑤ $\frac{5}{28}$

16 오른쪽 그림과 같이 세 개의 동심원으로 이루어진 과녁에 화살을 쏘았을 때, B 부분에 맞출 확률을 구하시오. (단, 화살이 원판을 벗어나거나 경계선 위에 놓이는 경우는 생각하지 않는다.)



01 흰 공 3개와 검은 공 4개가 들어 있는 주머니에서 임의로 한 개의 공을 꺼낼 때, 검은 공이 나올 확률은?

- ① $\frac{2}{7}$ ② $\frac{3}{7}$ ③ $\frac{4}{7}$
 ④ $\frac{5}{7}$ ⑤ $\frac{6}{7}$

02 2에서 10까지의 숫자가 각각 적힌 9장의 카드 중에서 임의로 1장을 뽑았을 때 나오는 수를 a 라 하자. 이때 $\frac{1}{a}$ 이 유한소수로 나타내어질 확률은?

- ① $\frac{1}{9}$ ② $\frac{2}{9}$ ③ $\frac{1}{3}$
 ④ $\frac{4}{9}$ ⑤ $\frac{5}{9}$

03 서로 다른 두 개의 주사위를 동시에 던질 때, 나온 두 눈의 수의 차가 4가 될 확률은?

- ① $\frac{1}{2}$ ② $\frac{1}{4}$ ③ $\frac{1}{6}$
 ④ $\frac{1}{9}$ ⑤ $\frac{1}{10}$

04 1에서 4까지의 숫자가 각각 적힌 4장의 카드에서 임의로 2장을 뽑아 두 자리의 자연수를 만들 때, 40보다 클 확률을 구하시오.

05 A, B, C, D 4명 중에서 임의로 3명을 뽑아 한 줄로 세울 때, A가 맨 앞에 설 확률은?

- ① $\frac{1}{6}$ ② $\frac{1}{4}$ ③ $\frac{2}{7}$
 ④ $\frac{3}{8}$ ⑤ $\frac{2}{5}$

06 남학생 3명, 여학생 2명 중에서 임의로 대표 2명을 뽑을 때, 적어도 여학생이 한 명 뽑힐 확률은?

- ① $\frac{1}{2}$ ② $\frac{3}{5}$ ③ $\frac{7}{10}$
 ④ $\frac{4}{5}$ ⑤ $\frac{9}{10}$

07 서로 다른 두 개의 주사위를 동시에 던져서 나온 두 눈의 수를 각각 a, b 라 할 때, 방정식 $ax - b = 0$ 의 해가 2 또는 6일 확률은?

- ① $\frac{1}{9}$ ② $\frac{1}{6}$ ③ $\frac{1}{3}$
 ④ $\frac{2}{3}$ ⑤ $\frac{5}{6}$

08 서로 다른 두 개의 주사위를 동시에 던질 때, 나온 두 눈의 수의 합이 12 이하가 될 확률은?

- ① $\frac{1}{2}$ ② $\frac{2}{3}$ ③ $\frac{3}{4}$
 ④ $\frac{5}{6}$ ⑤ 1

09 1에서 15까지의 숫자가 각각 적힌 15장의 카드에서 임의로 한 장의 카드를 뽑을 때, 3의 배수 또는 7의 배수가 나올 확률은?

- ① $\frac{1}{5}$ ② $\frac{2}{5}$ ③ $\frac{7}{15}$
- ④ $\frac{8}{15}$ ⑤ $\frac{3}{5}$

10 서로 다른 두 개의 주사위를 동시에 던질 때, 나온 두 눈의 수의 합이 홀수가 될 확률을 구하시오.

11 두 자연수 a, b 가 홀수일 확률이 각각 $\frac{2}{5}, \frac{2}{3}$ 일 때, 두 수의 곱 ab 가 홀수일 확률은?

- ① $\frac{4}{5}$ ② $\frac{3}{5}$ ③ $\frac{2}{5}$
- ④ $\frac{4}{15}$ ⑤ $\frac{1}{5}$

12 미경이와 수현이가 만나기로 약속하였다. 두 사람이 약속 장소에 나가지 못할 확률이 각각 $\frac{3}{5}, \frac{2}{3}$ 일 때, 두 사람이 약속 장소에서 만날 확률은?

- ① $\frac{1}{15}$ ② $\frac{2}{15}$ ③ $\frac{1}{5}$
- ④ $\frac{4}{15}$ ⑤ $\frac{1}{3}$

13 어떤 문제를 풀 확률이 $\frac{3}{4}$, 음은 $\frac{4}{5}$ 라 할 때, 적어도 한 사람이 문제를 풀 확률은?

- ① $\frac{1}{20}$ ② $\frac{1}{5}$ ③ $\frac{1}{4}$
- ④ $\frac{3}{5}$ ⑤ $\frac{19}{20}$

14 일기 예보에서 어느 지역의 날씨가 월요일에 비가 올 확률은 40%, 화요일에 비가 올 확률은 30%라 한다. 월요일에는 비가 오고, 화요일에는 비가 오지 않을 확률은?

- ① 12% ② 18% ③ 28%
- ④ 32% ⑤ 42%

15 흰 구슬 4개와 빨간 구슬 6개가 들어 있는 주머니에서 연속하여 2개의 구슬을 임의로 꺼낼 때, 처음에는 흰 구슬, 두번째에는 빨간 구슬을 꺼낼 확률은?

(단, 꺼낸 구슬은 다시 넣지 않는다.)

- ① $\frac{1}{5}$ ② $\frac{4}{15}$ ③ $\frac{2}{5}$
- ④ $\frac{5}{9}$ ⑤ $\frac{2}{3}$

16 A 주머니에는 흰 공과 검은 공이 각각 2개, 3개가 들어 있고, B 주머니에는 흰 공과 검은 공이 각각 5개씩 들어 있다. 두 주머니 A, B에서 각각 공을 1개씩 임의로 꺼낼 때, 두 공의 색깔이 같을 확률은?

- ① $\frac{1}{2}$ ② $\frac{3}{10}$ ③ $\frac{1}{5}$
- ④ $\frac{1}{10}$ ⑤ $\frac{3}{50}$

수학
중 2-2

핵심 정리 & 핵심 테스트

수업을 다 하고 시험 직전 등 내용을 정리할 때 사용할 수 있습니다.

1. 이등변삼각형의 성질	52
2. 직각삼각형의 합동 조건	54
3. 삼각형의 외심과 내심	56
4. 평행사변형의 성질	58
5. 평행사변형이 되는 조건	60
6. 여러 가지 사각형	62
7. 여러 가지 사각형의 활용	64
8. 여러 가지 사각형 사이의 관계	66
9. 닮음의 뜻과 성질	68

10. 삼각형의 닮음 조건	70
11. 삼각형과 평행선	72
12. 평행선과 선분의 길이의 비	74
13. 삼각형의 무게중심과 닮음의 활용	76
14. 피타고라스 정리	78
15. 피타고라스 정리의 성질	80
16. 경우의 수 (1)	82
17. 경우의 수 (2)	84
18. 확률	86

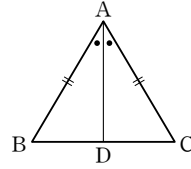
● 이등변삼각형

(1) 이등변삼각형 : 두 변의 길이가 서로 같은 삼각형

(2) 이등변삼각형의 성질

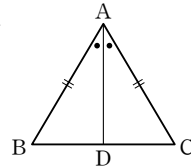
① 이등변삼각형의 두 밑각의 크기는 서로 같다.

참고 $\triangle ABD \equiv \triangle ACD$ (SAS 합동) 이므로 $\angle B = \angle C$



② 이등변삼각형의 꼭지각의 이등분선은 밑변을 수직이등분한다.

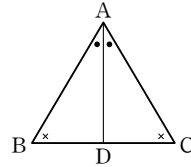
참고 $\triangle ABD \equiv \triangle ACD$ (SAS 합동) 이므로 $BD = CD, AD \perp BC$



(3) 이등변삼각형이 되는 조건

두 내각의 크기가 같은 삼각형은 이등변삼각형이다.

참고 $\triangle ABD \equiv \triangle ACD$ (ASA 합동) 이므로 $\overline{AB} = \overline{AC}$

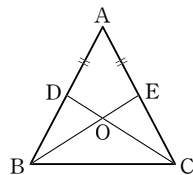


● 이등변삼각형의 성질의 활용

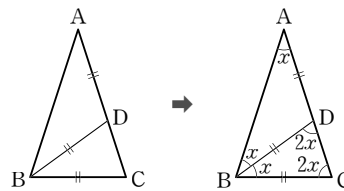
(1) $\triangle ABE \equiv \triangle ACD$ (SAS 합동)

$\triangle BCD \equiv \triangle CBE$ (SAS 합동)

$\triangle BDO \equiv \triangle CEO$ (ASA 합동)



(2)



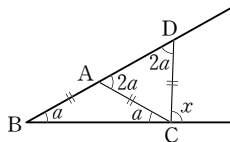
$\overline{AB} = \overline{AC}$ 인

이등변삼각형 ABC

$$5\angle x = 180^\circ \quad \therefore \angle x = 36^\circ$$

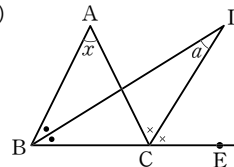
$$\therefore \angle A = 36^\circ, \angle B = \angle C = 72^\circ$$

(3)



$$\Rightarrow \angle x = 3\angle a$$

(4)

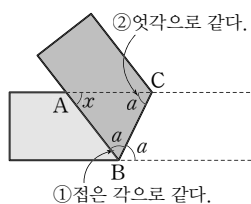


$$\Rightarrow \angle x = 2\angle a$$

(5) $\triangle ABC$ 는 $\overline{AB} = \overline{AC}$ 인

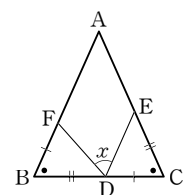
이등변삼각형

$$\Rightarrow \angle x = 180^\circ - 2\angle a$$

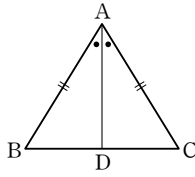


(6) $\triangle BDF \equiv \triangle CED$ (SAS 합동)

$$\Rightarrow \angle x = \angle B = \angle C$$

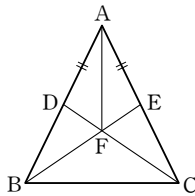


1 오른쪽 그림과 같이 $\overline{AB} = \overline{AC}$ 인 이등변삼각형 ABC에서 $\angle A$ 의 이등분선이 \overline{BC} 와 만나는 점을 D라 하자. 다음 중 옳지 않은 것은?



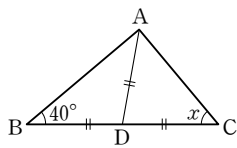
- ① $\overline{BD} = \overline{CD}$
- ② $\angle B = \angle C$
- ③ $\overline{AB} = \overline{BC}$
- ④ $\overline{AD} \perp \overline{BC}$
- ⑤ $\triangle ABD \cong \triangle ACD$

2 오른쪽 그림과 같이 $\overline{AB} = \overline{AC}$ 인 이등변삼각형 ABC에서 $\overline{AD} = \overline{AE}$ 가 되도록 두 점 D, E 를 잡을 때, 다음 중 옳지 않은 것은?

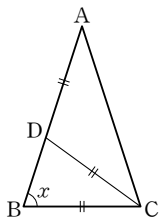


- ① $\triangle ABE \cong \triangle ACD$
- ② $\triangle BCD \cong \triangle CBE$
- ③ $\triangle BDF \cong \triangle CEF$
- ④ $\triangle ABE \cong \triangle CBE$
- ⑤ $\triangle ADF \cong \triangle AEF$

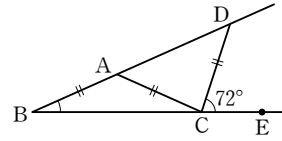
3 오른쪽 그림과 같은 $\triangle ABC$ 에서 $\overline{AD} = \overline{BD} = \overline{CD}$ 이고 $\angle B = 40^\circ$ 일 때, $\angle x$ 의 크기를 구하시오.



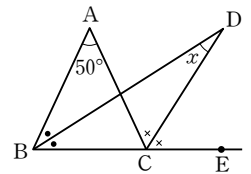
4 오른쪽 그림과 같이 $\overline{AB} = \overline{AC}$ 인 이등변삼각형 ABC에서 $\overline{AD} = \overline{DC} = \overline{BC}$ 일 때, $\angle x$ 의 크기를 구하시오.



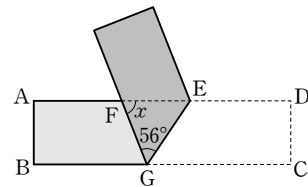
5 다음 그림에서 $\overline{AB} = \overline{AC} = \overline{CD}$ 이고 $\angle DCE = 72^\circ$ 일 때, $\angle B$ 의 크기를 구하시오.



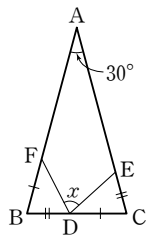
6 오른쪽 그림과 같이 $\overline{AB} = \overline{AC}$ 인 이등변삼각형 ABC에서 $\angle B$ 의 이등분선과 $\angle C$ 의 외각의 이등분선의 교점을 D라 하자. $\angle A = 50^\circ$ 일 때, $\angle x$ 의 크기를 구하시오.



7 다음 그림과 같이 직사각형 모양의 종이를 접었다. $\angle FGE = 56^\circ$ 일 때, $\angle x$ 의 크기를 구하시오.



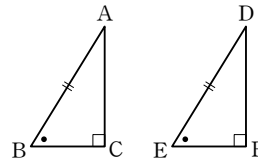
8 오른쪽 그림의 $\triangle ABC$ 는 $\angle A = 30^\circ$ 이고 $\overline{AB} = \overline{AC}$ 인 이등변삼각형이다. 세 점 D, E, F는 각각 \overline{BC} , \overline{AC} , \overline{AB} 위의 점이고 $\overline{BF} = \overline{CD}$, $\overline{BD} = \overline{CE}$ 일 때, $\angle x$ 의 크기를 구하시오.



직각삼각형의 합동 조건

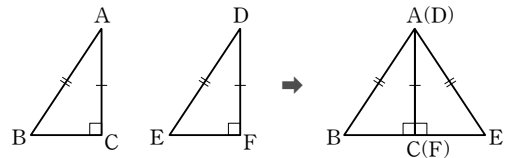
(1) RHA 합동 : 빗변의 길이와 한 예각의 크기가 각각 같을 때

참고 $\triangle ABC$ 와 $\triangle DEF$ 에서
 $AB = \overline{DE}$, $\angle C = \angle F = 90^\circ$, $\angle B = \angle E$ 이므로
 $\angle A = 90^\circ - \angle B = 90^\circ - \angle E = \angle D$
 $\therefore \triangle ABC \cong \triangle DEF$ (ASA 합동)

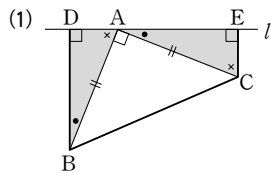


(2) RHS 합동 : 빗변의 길이와 다른 한 변의 길이가 각각 같을 때

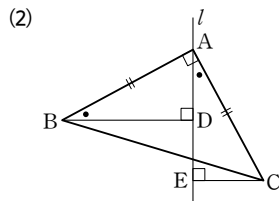
참고 $\triangle DEF$ 를 오른쪽으로 뒤집어 \overline{AC} 와 \overline{DF} 를 맞닿도록 놓으면
 $\triangle ABE$ 는 $\overline{AB} = \overline{AE}$ 인 이등변삼각형이다.
 따라서 $\overline{AB} = \overline{DE}$, $\angle B = \angle E$, $\angle C = \angle F = 90^\circ$ 이므로
 $\triangle ABC \cong \triangle DEF$ (RHA 합동)



직각삼각형의 합동 조건의 활용 - RHA 합동

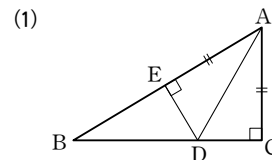


$\triangle BAD \cong \triangle ACE$ (RHA 합동)
 $\therefore \overline{DE} = \overline{DA} + \overline{AE} = \overline{EC} + \overline{BD}$

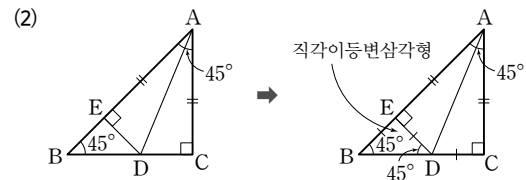


$\triangle ABD \cong \triangle CAE$ (RHA 합동)
 $\therefore \overline{DE} = \overline{AE} - \overline{AD} = \overline{BD} - \overline{CE}$

직각삼각형의 합동 조건의 활용 - RHS 합동

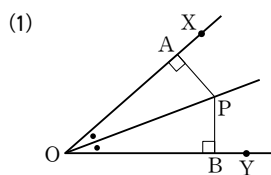


$\triangle ACD \cong \triangle AED$ (RHS 합동)
 $\therefore \overline{CD} = \overline{ED}$

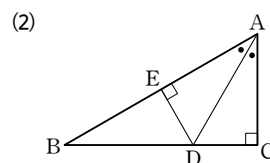


$\triangle ACD \cong \triangle AED$ (RHS 합동)
 $\therefore \overline{CD} = \overline{ED} = \overline{EB}$

각의 이등분선과 활용

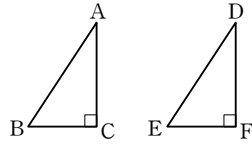


$\triangle PAO \cong \triangle PBO$ (RHA 합동)
 $\therefore \overline{PA} = \overline{PB}$



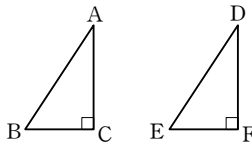
$\triangle ACD \cong \triangle AED$ (RHA 합동)
 $\therefore \overline{CD} = \overline{ED}$

1 오른쪽 그림과 같은 두 직각삼각형 ABC, DEF가 서로 합동이 되기 위한 조건을 다음 □ 안에 써넣으시오.



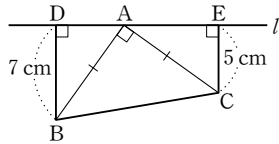
- (1) $\overline{AB} = \overline{DE}$, $\overline{AC} = \square$, \square 합동
 (2) $\overline{AB} = \overline{DE}$, $\angle A = \square$, \square 합동

2 오른쪽 그림의 두 직각삼각형 ABC, DEF가 서로 합동이 되는 경우가 아닌 것은?

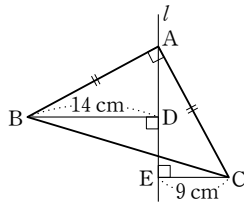


- ① $\overline{AB} = \overline{DE}$, $\overline{AC} = \overline{DF}$
 ② $\angle A = \angle D$, $\angle B = \angle E$
 ③ $\overline{AB} = \overline{DE}$, $\angle B = \angle E$
 ④ $\angle A = \angle D$, $\overline{AB} = \overline{DE}$
 ⑤ $\overline{AB} = \overline{DE}$, $\overline{BC} = \overline{EF}$

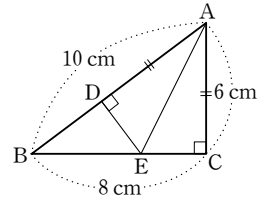
3 오른쪽 그림과 같이 $\overline{AB} = \overline{AC}$ 인 직각이등변삼각형 ABC의 꼭짓점 B, C에서 꼭짓점 A를 지나는 직선 l에 내린 수선의 발을 각각 D, E라 할 때, \overline{DE} 의 길이를 구하시오.



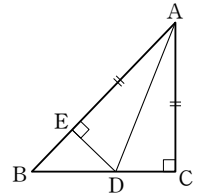
4 오른쪽 그림과 같이 $\overline{AB} = \overline{AC}$ 이고 $\angle A = 90^\circ$ 인 직각이등변삼각형 ABC의 두 점 B, C에서 점 A를 지나는 직선 l에 내린 수선의 발을 각각 D, E라 하자. $\overline{BD} = 14$ cm, $\overline{CE} = 9$ cm일 때, \overline{DE} 의 길이를 구하시오.



5 오른쪽 그림과 같이 $\angle C = 90^\circ$ 인 직각삼각형 ABC에서 $\overline{AD} = \overline{AC}$ 이고 $\overline{DE} \perp \overline{AB}$ 일 때, $\triangle DBE$ 의 둘레의 길이를 구하시오.

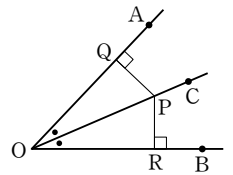


6 오른쪽 그림에서 $\triangle ABC$ 는 $\overline{AC} = \overline{BC}$ 인 직각이등변삼각형이다. $\overline{AC} = \overline{AE}$ 이고 $\overline{DE} \perp \overline{AB}$ 일 때, 다음 중 옳지 않은 것은?



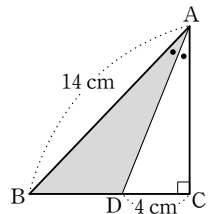
- ① $\angle EAD = \angle CAD$ ② $\overline{EB} = \overline{ED} = \overline{CD}$
 ③ $\triangle AED \cong \triangle ACD$ ④ $\overline{BD} = \overline{CD}$
 ⑤ $\angle EDB = \angle BAC$

7 오른쪽 그림과 같이 $\angle AOB$ 의 이등분선 위의 한 점 P에서 \overline{OA} , \overline{OB} 에 내린 수선의 발을 각각 Q, R라 할 때, 다음 중 옳지 않은 것은?



- ① $\angle POQ = \angle POR$ ② $\angle OQP = \angle ORP$
 ③ $\triangle POQ \cong \triangle POR$ ④ $\overline{PQ} = \overline{PR}$
 ⑤ $\overline{OQ} = \overline{OP} = \overline{OR}$

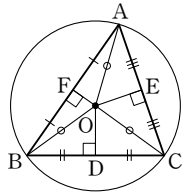
8 오른쪽 그림에서 $\angle C = 90^\circ$ 인 직각삼각형 ABC의 $\angle A$ 의 이등분선과 \overline{BC} 의 교점을 D라 하자. $\overline{AB} = 14$ cm, $\overline{CD} = 4$ cm일 때, $\triangle ABD$ 의 넓이를 구하시오.



● 삼각형의 외심

(1) ① 삼각형의 세 변의 수직이등분선은 한 점(외심)에서 만난다.

→ 외접원의 중심 O



② 외심에서 삼각형의 세 꼭짓점에 이르는 거리는 모두 같다.

→ $\overline{OA} = \overline{OB} = \overline{OC}$

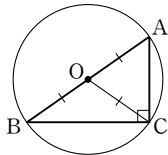
$$\begin{aligned} \triangle OAF &\equiv \triangle OBF \text{ (SAS 합동)} \\ \triangle OBD &\equiv \triangle OCD \text{ (SAS 합동)} \\ \triangle OCE &\equiv \triangle OAE \text{ (SAS 합동)} \end{aligned}$$

(2) 삼각형의 외심의 위치

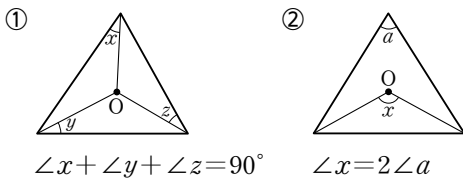
- ① 예각삼각형 : 삼각형의 내부
- ② 둔각삼각형 : 삼각형의 외부
- ③ 직각삼각형 : 빗변의 중점

→ (직각삼각형의 외접원의 반지름)

$$\begin{aligned} &= \overline{OA} = \overline{OB} = \overline{OC} \\ &= (\text{빗변의 길이}) \times \frac{1}{2} \end{aligned}$$

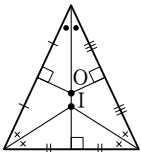


(3) 외심에서 각의 크기 구하기

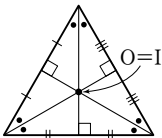


● 이등변삼각형과 정삼각형의 외심과 내심

(1) 이등변삼각형: 외심과 내심은 꼭지각의 이등분선 위에 있다.



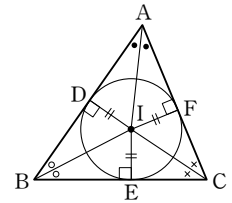
(2) 정삼각형: 외심과 내심은 일치한다.



● 삼각형의 내심

(1) ① 삼각형의 세 내각의 이등분선은 한 점(내심)에서 만난다.

→ 내접원의 중심 I



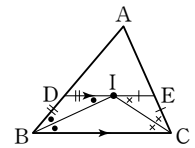
② 내심에서 삼각형의 세 변에 이르는 거리는 모두 같다.

→ $\overline{ID} = \overline{IE} = \overline{IF}$

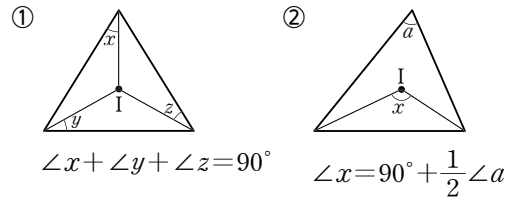
$$\begin{aligned} \triangle IAD &\equiv \triangle IAF \text{ (RHA 합동)} \\ \triangle IBD &\equiv \triangle IBE \text{ (RHA 합동)} \\ \triangle ICE &\equiv \triangle ICF \text{ (RHA 합동)} \end{aligned}$$

(2) 삼각형의 내심과 평행선

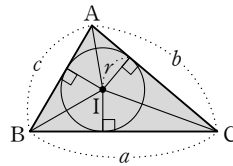
$$\begin{aligned} &\cdot \overline{DI} = \overline{DB}, \overline{EI} = \overline{EC} \\ &\cdot (\triangle ADE \text{의 둘레의 길이}) \\ &= \overline{AB} + \overline{AC} \end{aligned}$$



(3) 내심에서 각의 크기 구하기



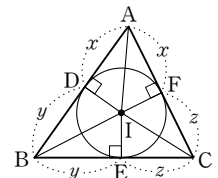
(4) 삼각형의 넓이와 내접원의 반지름의 길이



$$\begin{aligned} \triangle ABC &= \triangle IBC + \triangle ICA + \triangle IAB \\ &= \frac{1}{2}ar + \frac{1}{2}br + \frac{1}{2}cr \\ &= \frac{1}{2}r(a+b+c) \end{aligned}$$

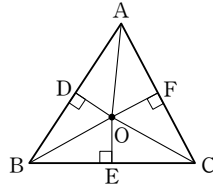
(5) 내접원과 접선의 길이

$$\begin{aligned} \overline{AD} &= \overline{AF} = x \\ \overline{BD} &= \overline{BE} = y \\ \overline{CE} &= \overline{CF} = z \end{aligned}$$

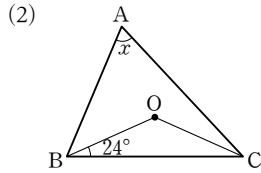
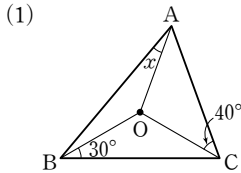


1 오른쪽 그림에서 점 O는 $\triangle ABC$ 의 외심이다. 다음 중 옳지 않은 것은?

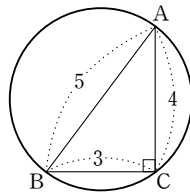
- ① $\overline{OA} = \overline{OB} = \overline{OC}$
- ② $\overline{CF} = \overline{AF}$
- ③ $\overline{OE} = \overline{OF}$
- ④ $\angle OBC = \angle OCB$
- ⑤ $\triangle OAD \cong \triangle OBD$



2 다음 그림에서 점 O가 $\triangle ABC$ 의 외심일 때, $\angle x$ 의 크기를 구하시오.

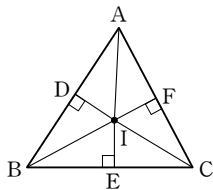


3 오른쪽 그림의 $\triangle ABC$ 에서 외접원의 반지름의 길이를 구하시오.

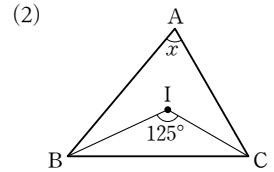
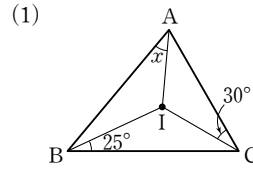


4 오른쪽 그림에서 점 I는 $\triangle ABC$ 의 내심이다. 다음 중 옳지 않은 것은?

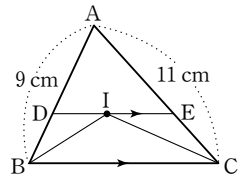
- ① $\overline{ID} = \overline{IE} = \overline{IF}$
- ② $\overline{AD} = \overline{AF}$
- ③ $\overline{BE} = \overline{EC}$
- ④ $\angle ECI = \angle FCI$
- ⑤ $\triangle ADI \cong \triangle AFI$



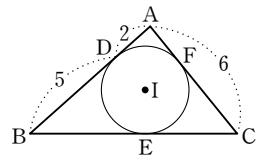
5 다음 그림에서 점 I가 $\triangle ABC$ 의 내심일 때, $\angle x$ 의 크기를 구하시오.



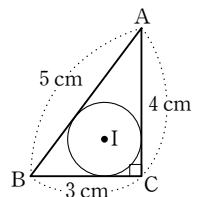
6 오른쪽 그림과 같이 $\triangle ABC$ 의 내심 I를 지나고 \overline{BC} 에 평행한 직선이 \overline{AB} , \overline{AC} 와 만나는 점을 각각 D, E라 할 때, $\triangle ADE$ 의 둘레의 길이를 구하시오.



7 오른쪽 그림에서 점 I는 $\triangle ABC$ 의 내심이고 세 점 D, E, F는 접점일 때, \overline{BC} 의 길이를 구하시오.



8 오른쪽 그림에서 점 I는 직각삼각형 ABC의 내심일 때, 내접원 I의 반지름의 길이를 구하시오.

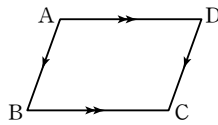


핵심 정리

4. 평행사변형의 성질

● 평행사변형

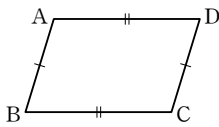
두 쌍의 대변이 각각 평행한 사각형
 $\rightarrow \overline{AB} \parallel \overline{DC}, \overline{AD} \parallel \overline{BC}$



● 평행사변형의 성질

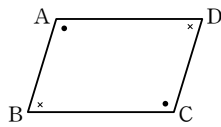
(1) 두 쌍의 대변의 길이는 각각 같다.

$$\rightarrow \overline{AB} = \overline{DC}, \overline{AD} = \overline{BC}$$



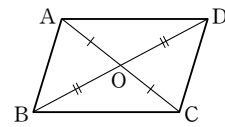
(2) 두 쌍의 대각의 크기는 각각 같다.

$$\rightarrow \angle A = \angle C, \angle B = \angle D$$



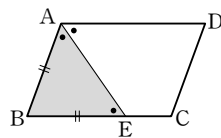
(3) 두 대각선은 서로 다른 것을 이등분한다.

$$\rightarrow \overline{OA} = \overline{OC}, \overline{OB} = \overline{OD}$$

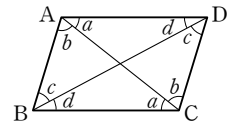


● 평행사변형의 성질의 활용

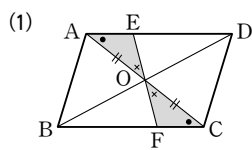
(1) $\angle BAE = \angle DAE$ 일 때
 $\angle AEB = \angle AED$ (엇각) 이므로 $\triangle ABE$ 는 $\overline{BA} = \overline{BE}$ 인 이등변삼각형이다.



(2) 대각선에 의해 생기는 엇각의 크기는 같으므로
 $\angle A + \angle B = \angle C + \angle D = 180^\circ$

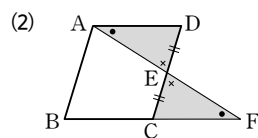


● 평행사변형에서 합동인 삼각형



$$\triangle AOE \cong \triangle COF$$

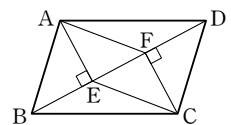
(ASA 합동)



$$\triangle AED \cong \triangle FEC$$

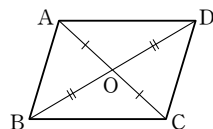
(ASA 합동)

- (3) ① $\triangle ABE \cong \triangle CDF$
- ② $\triangle AEF \cong \triangle CFE$
- ③ $\triangle AFD \cong \triangle CEB$
- ④ $\triangle ABF \cong \triangle CDE$
- ⑤ $\triangle AED \cong \triangle CFB$
- ⑥ $\triangle ABD \cong \triangle CDB$

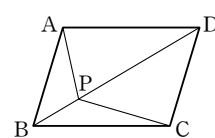


● 평행사변형과 넓이

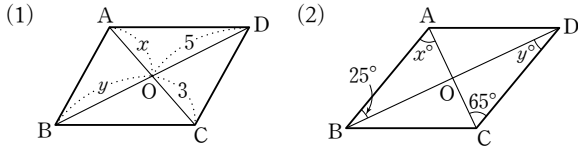
(1) $\triangle OAB = \triangle OBC$
 $= \triangle OCD$
 $= \triangle ODA$




(2) $\triangle PDA + \triangle PBC$
 $= \triangle PAB + \triangle PCD$
 $= \frac{1}{2} \square ABCD$



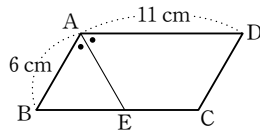
1 다음 그림과 같은 평행사변형 ABCD에서 x, y 의 값을 각각 구하시오. (단, 점 O는 두 대각선의 교점)



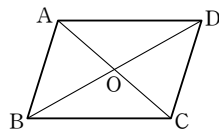
2 오른쪽 그림과 같은 평행사변형 ABCD에서 $\angle A : \angle B = 4 : 5$ 일 때, $\angle C$ 의 크기를 구하시오.



3 오른쪽 그림과 같은 평행사변형 ABCD에서 $\angle A$ 의 이등분선이 \overline{BC} 와 만나는 점을 E라 할 때, \overline{EC} 의 길이를 구하시오.

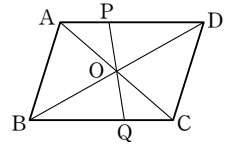


4 오른쪽 그림과 같은 평행사변형 ABCD에서 다음 중 옳지 않은 것은?
(단, 점 O는 두 대각선의 교점)



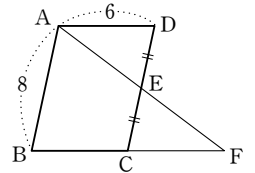
- ① $\overline{AB} = \overline{DC}$ ② $\angle BAD = \angle DCB$
- ③ $\overline{OB} = \overline{OD}$ ④ $\angle ABD = \angle DBC$
- ⑤ $\triangle OAB \cong \triangle OCD$

5 오른쪽 그림과 같이 평행사변형 ABCD의 두 대각선의 교점 O를 지나는 직선이 $\overline{AD}, \overline{BC}$ 와 만나는 점을 각각 P, Q라 할 때, 다음 중 옳지 않은 것은?

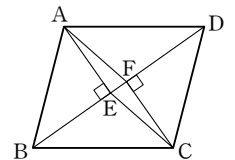


- ① $\overline{OA} = \overline{OC}$ ② $\overline{OB} = \overline{OC}$
- ③ $\overline{OP} = \overline{OQ}$ ④ $\overline{OD} = \overline{OB}$
- ⑤ $\triangle AOP \cong \triangle COQ$

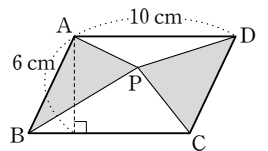
6 오른쪽 그림과 같은 평행사변형 ABCD에서 점 E가 \overline{CD} 의 중점이고 \overline{AE} 의 연장선과 \overline{BC} 의 연장선이 만나는 점을 F라 하자. $\overline{AB} = 8, \overline{AD} = 6$ 일 때, \overline{BF} 의 길이를 구하시오.



7 오른쪽 그림과 같은 평행사변형 ABCD의 두 꼭짓점 A, C에서 대각선 BD에 내린 수선의 발을 각각 E, F라 할 때, 합동인 삼각형은 모두 몇 쌍인지 구하시오.



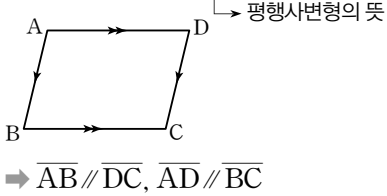
8 오른쪽 그림과 같은 평행사변형 ABCD의 내부에 한 점 P를 잡을 때, $\triangle PAB$ 와 $\triangle PCD$ 의 넓이의 합을 구하시오.



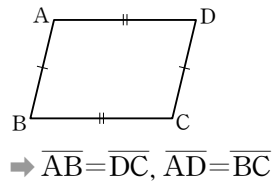
● 평행사변형이 되는 조건

다음 조건 중 어느 하나를 만족하면 □ABCD는 평행사변형이다.

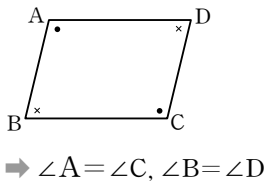
(1) 두 쌍의 대변이 각각 평행하다.



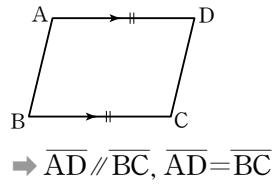
(2) 두 쌍의 대변의 길이가 각각 같다.



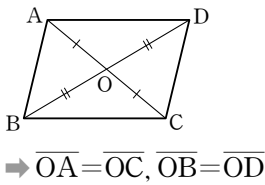
(3) 두 쌍의 대각의 크기가 각각 같다.



(4) 한 쌍의 대변이 평행하고 그 길이가 같다.

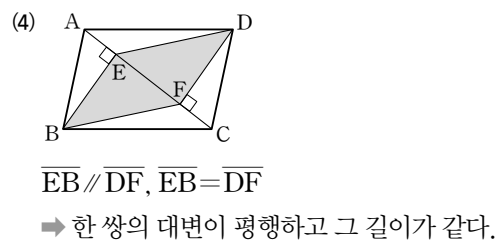
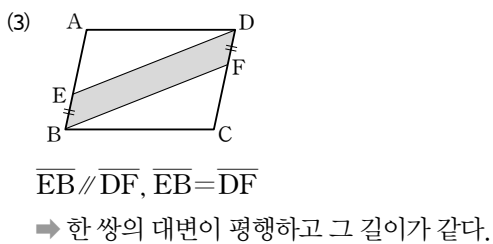
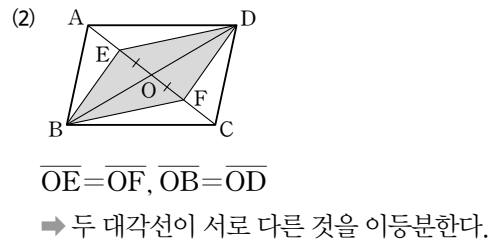
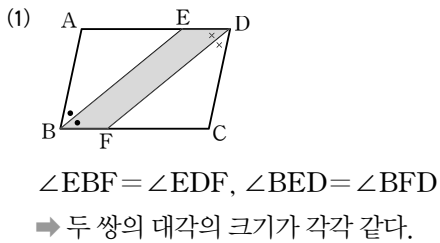


(5) 두 대각선이 서로 다른 것을 이등분한다.

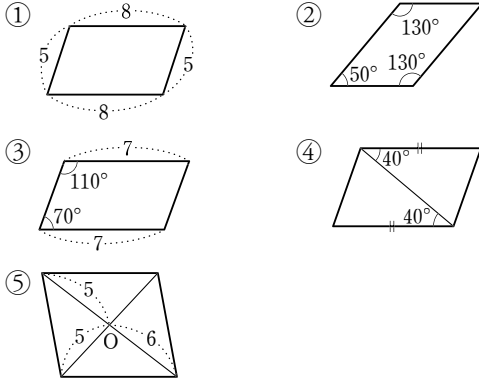


● 평행사변형이 되기 위한 조건의 활용

다음 그림의 □ABCD가 평행사변형일 때, □EBFD는 항상 평행사변형이다.



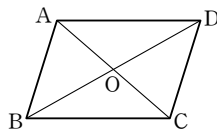
1 다음 사각형 중 평행사변형이 아닌 것은?
(단, 점 O는 두 대각선의 교점)



2 다음 조건을 만족하는 □ABCD 중에서 평행사변형인 것을 모두 고르면? (정답 2개)

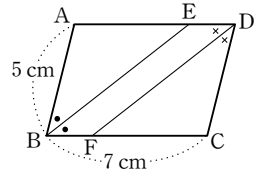
- ① $\overline{AB} = \overline{DC}$, $\overline{AD} = \overline{BC}$
- ② $\overline{AB} = \overline{BC}$, $\overline{AC} \perp \overline{BD}$
- ③ $\overline{AD} \parallel \overline{BC}$, $\overline{AB} = \overline{DC} = 4$ cm
- ④ $\angle A = 50^\circ$, $\angle B = 130^\circ$, $\angle C = 50^\circ$
- ⑤ $\overline{AB} = 5$ cm, $\overline{BC} = 5$ cm, $\overline{DC} = 7$ cm, $\overline{AD} = 7$ cm

3 오른쪽 그림의 □ABCD가 평행사변형이 되는 조건을 다음 □ 안에 알맞게 써넣으시오.
(단, 점 O는 두 대각선의 교점)

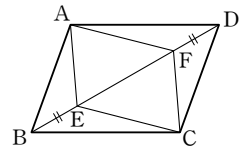


- (1) $\overline{AB} \parallel$ □, $\overline{AD} \parallel$ □
- (2) $\overline{AB} =$ □, $\overline{AD} =$ □
- (3) $\angle BAD =$ □, $\angle ABC =$ □
- (4) $\overline{OA} =$ □, $\overline{OB} =$ □

4 오른쪽 그림과 같은 평행사변형 ABCD에서 $\angle B$ 와 $\angle D$ 의 이등분선이 \overline{AD} , \overline{BC} 와 만나는 점을 각각 E, F라 하자. $\overline{AB} = 5$ cm, $\overline{BC} = 7$ cm일 때, \overline{ED} 의 길이를 구하시오.

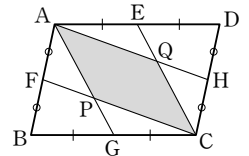


5 오른쪽 그림과 같은 평행사변형 ABCD에서 대각선 BD 위에 $\overline{BE} = \overline{DF}$ 가 되도록 두 점 E, F를 각각 잡았을 때, 다음 중 옳지 않은 것은?



- ① $\overline{AF} = \overline{CE}$
- ② $\overline{AE} = \overline{CF}$
- ③ $\angle BAE = \angle DCF$
- ④ $\overline{AB} = \overline{EF}$
- ⑤ $\triangle ABE \cong \triangle CDF$

[6~8] 오른쪽 그림과 같은 평행사변형 ABCD에서 다음의 사각형은 모두 평행사변형이 된다. 이때 평행사변형이 되는 조건을 <보기>에서 각각 고르시오.



보기

- ㉠ 두 쌍의 대변이 각각 평행하다.
- ㉡ 두 쌍의 대변의 길이가 각각 같다.
- ㉢ 두 쌍의 대각의 크기가 각각 같다.
- ㉣ 한 쌍의 대변이 평행하고 그 길이가 같다.
- ㉤ 두 대각선이 서로 다른 것을 이등분한다.

6 □AFCH

7 □AGCE

8 □APCQ

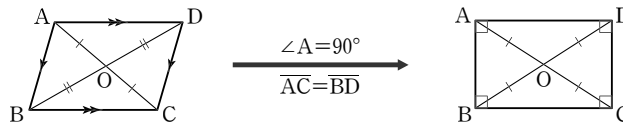
여러 가지 사각형의 뜻과 성질

	뜻	성질
직사각형	네 내각의 크기가 모두 같은 사각형	두 대각선은 길이가 같고, 서로 다른 것을 이등분한다.
마름모	네 변의 길이가 모두 같은 사각형	두 대각선은 서로 다른 것을 수직이등분한다.
정사각형	네 내각의 크기가 모두 같고, 네 변의 길이가 모두 같은 사각형	두 대각선은 길이가 같고, 서로 다른 것을 수직이등분한다.
등변사다리꼴	아랫변의 양 끝 각의 크기가 같은 사다리꼴	평행하지 않은 한 쌍의 대변의 길이가 같고, 두 대각선의 길이가 같다.

여러 가지 사각형의 조건

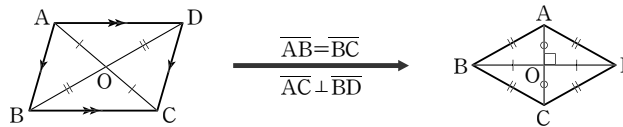
(1) 평행사변형이 직사각형이 되는 조건

- ① 한 내각이 직각이다.
- ② 두 대각선의 길이가 같다.



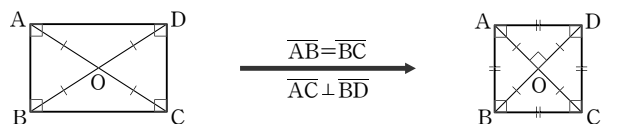
(2) 평행사변형이 마름모가 되는 조건

- ① 이웃하는 두 변의 길이가 같다.
- ② 두 대각선이 수직이다.



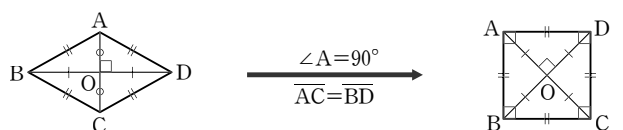
(3) 직사각형이 정사각형이 되는 조건

- ① 이웃하는 두 변의 길이가 같다.
- ② 두 대각선이 수직이다.

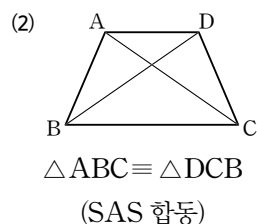
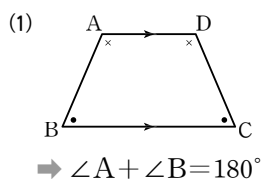


(4) 마름모가 정사각형이 되는 조건

- ① 한 내각이 직각이다.
- ② 두 대각선의 길이가 같다.

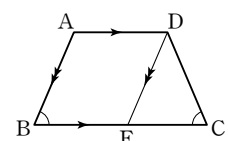


등변사다리꼴의 성질의 활용



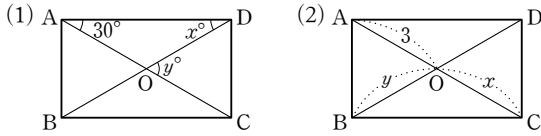
(3) 오른쪽 그림과 같이

$\overline{AD} \parallel \overline{BC}$ 인 등변사다리꼴 ABCD의 점 D에서 \overline{AB} 와 평행한 직선 DE를 그으면

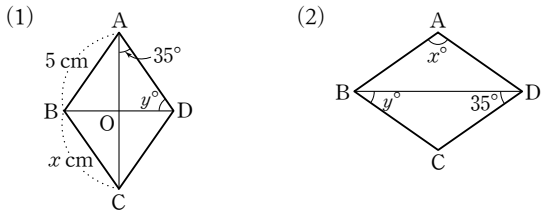


- ① $\square ABED$ 는 평행사변형이므로 $\overline{AB} = \overline{DE}$
- ② $\triangle DEC$ 는 이등변삼각형이므로 $\overline{DE} = \overline{DC}$

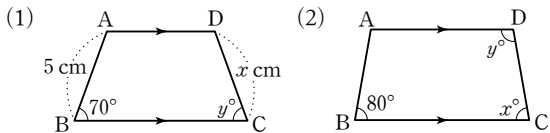
1 다음 그림과 같은 직사각형 ABCD에서 x, y 의 값을 각각 구하시오. (단, 점 O는 두 대각선의 교점)



2 다음 그림과 같은 마름모 ABCD에서 x, y 의 값을 각각 구하시오. (단, 점 O는 두 대각선의 교점)



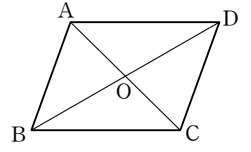
3 다음 그림과 같이 $\overline{AD} \parallel \overline{BC}$ 인 등변사다리꼴 ABCD에서 x, y 의 값을 각각 구하시오.



4 평행사변형 ABCD에 다음 조건을 추가할 때, 직사각형이 되지 않는 것은?

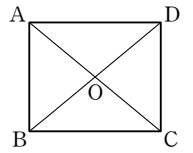
- ① $\angle A = \angle B$
- ② $\overline{AC} = \overline{BD}$
- ③ $\angle A = 90^\circ$
- ④ $\overline{AB} \perp \overline{BC}$
- ⑤ $\overline{AB} = \overline{BC}$

5 오른쪽 그림의 평행사변형 ABCD가 마름모가 되기 위한 조건은?
(단, 점 O는 두 대각선의 교점)



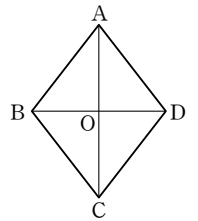
- ① $\overline{AC} \perp \overline{BD}$
- ② $\overline{AC} \perp \overline{AD}$
- ③ $\angle B + \angle C = 180^\circ$
- ④ $\overline{BD} = 2\overline{OD}$
- ⑤ $\angle A = \angle C$

6 오른쪽 그림의 직사각형 ABCD가 정사각형이 되기 위한 조건을 모두 고르면? (단, 점 O는 두 대각선의 교점) (정답 2개)



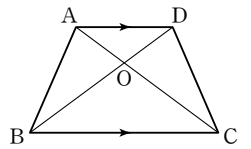
- ① $\overline{AB} = \overline{BC}$
- ② $\overline{AC} = \overline{BD}$
- ③ $\angle AOD = \angle BOC$
- ④ $\angle AOB = \angle AOD$
- ⑤ $\overline{OA} = \overline{OC}$

7 오른쪽 그림의 마름모 ABCD가 정사각형이 되기 위한 조건을 모두 고르면? (단, 점 O는 두 대각선의 교점) (정답 2개)



- ① $\angle BAC = \angle DAC$
- ② $\angle ABD = \angle CBD$
- ③ $\angle DAB = \angle ABC$
- ④ $\overline{OA} = \overline{OC}$
- ⑤ $\overline{OA} = \overline{OB}$

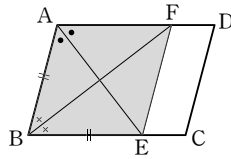
8 오른쪽 그림의 $\square ABCD$ 는 $\overline{AD} \parallel \overline{BC}$ 인 등변사다리꼴이다. 다음 중 옳지 않은 것은?
(단, 점 O는 두 대각선의 교점)



- ① $\angle A = \angle D$
- ② $\overline{AB} = \overline{AD}$
- ③ $\overline{AC} = \overline{DB}$
- ④ $\angle ACB = \angle DBC$
- ⑤ $\angle BAC = \angle CDB$

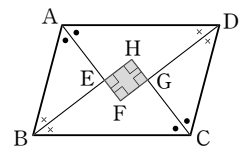
● 여러 가지 사각형의 활용

- (1) 평행사변형 ABCD에서 $\angle A$ 와 $\angle B$ 의 이등분선이 \overline{BC} , \overline{AD} 와 만나는 점을 각각 E, F라 할 때, $\square ABEF$ 는



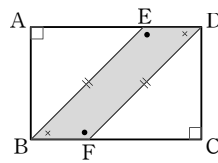
$\overline{AB} = \overline{BE} \Rightarrow$ 마름모

- (2) 평행사변형 ABCD에서 네 내각의 이등분선의 교점으로 이루어진 $\square EFGH$ 는



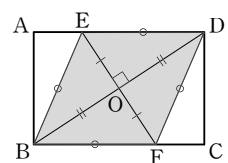
$\angle E = \angle F = \angle G = \angle H = 90^\circ \Rightarrow$ 직사각형

- (3) 직사각형 ABCD에서 \overline{AD} , \overline{BC} 위에 $\overline{BE} = \overline{DF}$ 인 두 점 E, F를 잡을 때, $\square EBF D$ 는



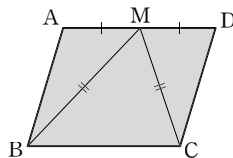
$\triangle ABE \cong \triangle CDF$ (RHS 합동) 이므로
 $\overline{ED} = \overline{AD} - \overline{AE} = \overline{BC} - \overline{CF} = \overline{BF} \Rightarrow$ 평행사변형

- (4) 직사각형 ABCD의 대각선 BD의 수직이등분선과 \overline{AD} , \overline{BC} 의 교점을 각각 E, F라 할 때, $\square EBF D$ 는



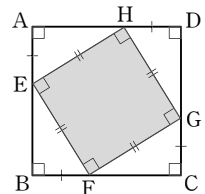
$\overline{BD} \perp \overline{EF} \Rightarrow$ 마름모

- (5) 평행사변형 ABCD에서 $\overline{AM} = \overline{MD}$, $\overline{BM} = \overline{CM}$ 일 때, $\square ABCD$ 는



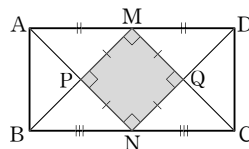
$\angle A = \angle D = 90^\circ \Rightarrow$ 직사각형

- (6) 정사각형 ABCD에서 $\overline{AE} = \overline{BF} = \overline{CG} = \overline{DH}$ 인 네 점 E, F, G, H를 잡을 때, $\square EFGH$ 는



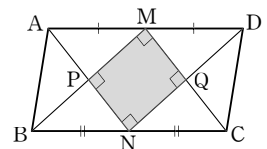
$\overline{EF} = \overline{FG} = \overline{GH} = \overline{HE}$,
 $\angle E = \angle F = \angle G = \angle H = 90^\circ$
 \Rightarrow 정사각형

- (7) 직사각형 ABCD에서 $\overline{AD} = 2\overline{AB}$ 이고 \overline{AD} 와 \overline{BC} 의 중점을 각각 M, N이라 할 때, $\square MPNQ$ 는



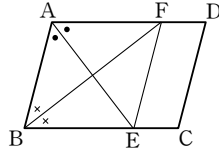
$\angle M = \angle P = \angle N = \angle Q = 90^\circ$,
 $\overline{MP} = \overline{PN} = \overline{NQ} = \overline{QM}$
 \Rightarrow 정사각형

- (8) 평행사변형 ABCD에서 $\overline{AD} = 2\overline{AB}$ 이고 \overline{AD} 와 \overline{BC} 의 중점을 각각 M, N이라 할 때, $\square MPNQ$ 는

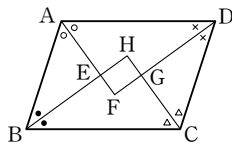


$\angle M = \angle P = \angle N = \angle Q = 90^\circ \Rightarrow$ 직사각형

- 1 오른쪽 그림과 같은 평행사변형 ABCD에서 $\angle A$ 와 $\angle B$ 의 이등분선이 \overline{BC} , \overline{AD} 와 만나는 점을 각각 E, F라 할 때, $\square ABEF$ 는 어떤 사각형인지 말하시오.

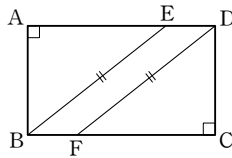


- 2 오른쪽 그림과 같은 평행사변형 ABCD의 네 내각의 이등분선의 교점을 E, F, G, H라 할 때, 다음 중 옳지 않은 것은?

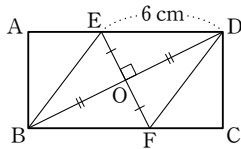


- ① $\angle HEF = \angle FGH$ ② $\overline{EH} = \overline{FG}$
 ③ $\overline{EF} = \overline{HG}$ ④ $\angle FGH = 90^\circ$
 ⑤ $\overline{EH} = \overline{EF}$

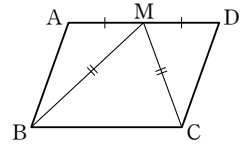
- 3 오른쪽 그림과 같은 직사각형 ABCD에서 $\overline{BE} = \overline{DF}$ 일 때, $\square EBF D$ 는 어떤 사각형인지 말하시오.



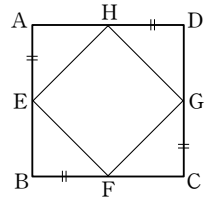
- 4 오른쪽 그림과 같은 직사각형 ABCD에서 대각선 BD의 수직이등분선이 \overline{AD} , \overline{BC} 와 만나는 점을 각각 E, F라 하자. $\overline{ED} = 6 \text{ cm}$ 일 때, \overline{DF} 의 길이를 구하시오.
 (단, 점 O는 두 대각선의 교점)



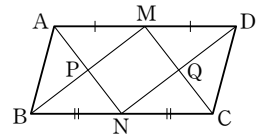
- 5 오른쪽 그림과 같은 평행사변형 ABCD에서 $\overline{MB} = \overline{MC}$ 일 때, $\square ABCD$ 는 어떤 사각형인지 말하시오.



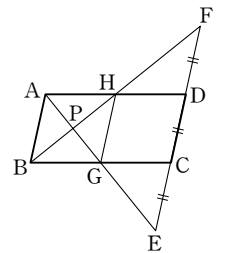
- 6 오른쪽 그림과 같은 정사각형 ABCD의 각 변 위에 $\overline{AE} = \overline{BF} = \overline{CG} = \overline{DH}$ 가 되도록 네 점 E, F, G, H를 잡을 때, $\square EFGH$ 는 어떤 사각형인지 말하시오.



- 7 오른쪽 그림과 같은 평행사변형 ABCD에서 $\overline{AD} = 2\overline{AB}$ 이고 \overline{AD} 와 \overline{BC} 의 중점을 각각 M, N이라 할 때, $\square MPNQ$ 는 어떤 사각형인지 말하시오.

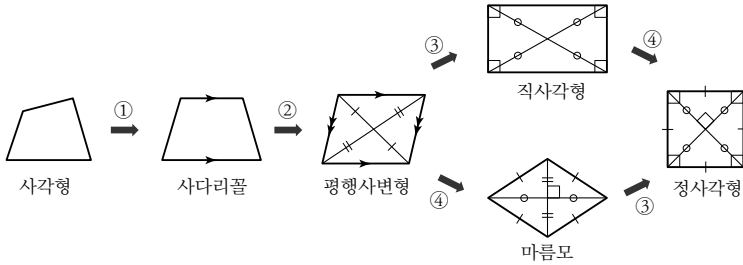


- 8 오른쪽 그림에서 $\square ABCD$ 는 $\overline{AD} = 2\overline{AB}$ 인 평행사변형이다. \overline{CD} 를 연장하여 $\overline{EC} = \overline{CD} = \overline{DF}$ 가 되도록 두 점 E, F를 잡고 \overline{AE} 와 \overline{BF} 의 교점을 P라 할 때, $\square ABGH$ 는 어떤 사각형인지 말하시오.



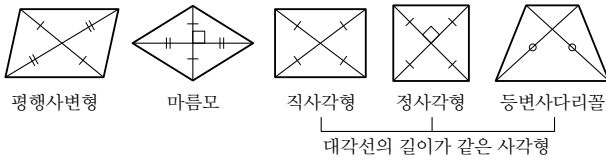
● 여러 가지 사각형 사이의 관계

(1) 여러 가지 사각형 사이의 관계

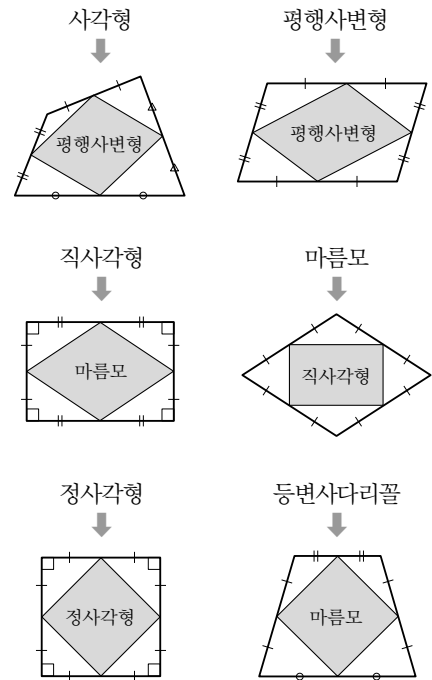


- ① 한 쌍의 대변이 서로 평행하다.
- ② 다른 한 쌍의 대변이 서로 평행하다.
- ③ 한 내각이 직각이다. 또는 두 대각선의 길이가 같다.
- ④ 이웃하는 두 변의 길이가 서로 같다. 또는 두 대각선은 서로 수직이다.

(2) 여러 가지 사각형의 대각선의 성질



● 사각형의 각 변의 중점을 연결하여 만든 사각형

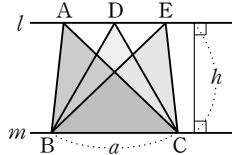


● 평행선과 넓이

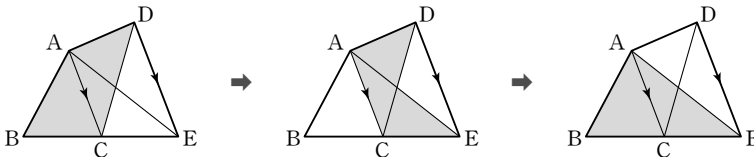
(1) 평행선과 삼각형의 넓이

① $l \parallel m$ 이면

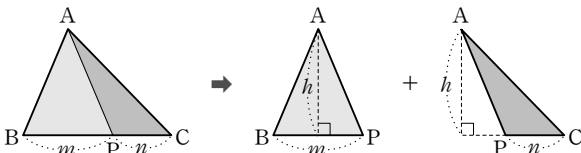
$$\triangle ABC = \triangle DBC = \triangle EBC = \frac{1}{2}ah$$



② $\overline{AC} \parallel \overline{DE}$ 일 때, $\square ABCD = \triangle ABE$



(2) 높이가 같은 삼각형의 넓이의 비



$$\triangle ABP : \triangle APC = m : n$$

1 다음 표는 여러 가지 사각형의 성질을 나타낸 것이다. 옳으면 ○표, 옳지 않으면 ×표를 하시오.

사각형의 종류 사각형의 성질	사다리꼴	평행사변형	직사각형	마름모	정사각형
(1) 두 쌍의 대변이 각각 평행하다.					
(2) 두 쌍의 대변의 길이가 각각 같다.					
(3) 두 쌍의 대각의 크기가 각각 같다.					
(4) 두 대각선이 서로 다른 것을 이등분한다.					
(5) 두 대각선의 길이가 서로 같다.					
(6) 두 대각선이 서로 수직이다.					

2 다음 중 옳지 않은 것은?

- ① 평행사변형의 한 내각의 크기가 90° 이면 직사각형이다.
- ② 평행사변형의 두 대각선의 길이가 같으면 마름모이다.
- ③ 직사각형의 두 대각선이 서로 수직이면 정사각형이다.
- ④ 평행사변형의 두 대각선이 서로 수직이면 마름모이다.
- ⑤ 평행사변형의 이웃하는 두 변의 길이가 같으면 마름모이다.

3 다음 <보기> 중 두 대각선의 길이가 같은 사각형을 모두 고르시오.

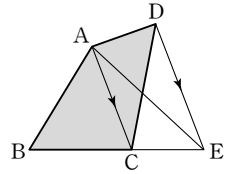
보기

㉠ 평행사변형	㉡ 등변사다리꼴
㉢ 마름모	㉣ 정사각형
㉤ 직사각형	㉥ 사다리꼴

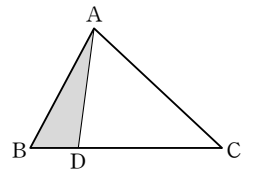
4 다음 중 사각형과 그 사각형의 각 변의 중점을 연결하여 만든 사각형을 짝 지은 것으로 옳지 않은 것은?

- ① 사각형 \rightarrow 평행사변형
- ② 정사각형 \rightarrow 정사각형
- ③ 평행사변형 \rightarrow 평행사변형
- ④ 직사각형 \rightarrow 마름모
- ⑤ 등변사다리꼴 \rightarrow 등변사다리꼴

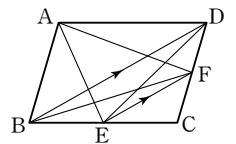
5 오른쪽 그림과 같이 $\square ABCD$ 의 꼭짓점 D를 지나고 \overline{AC} 에 평행한 직선이 \overline{BC} 의 연장선과 만나는 점을 E라 하자. $\triangle ABC = 21 \text{ cm}^2$, $\triangle ACE = 15 \text{ cm}^2$ 일 때, $\square ABCD$ 의 넓이를 구하시오.



6 오른쪽 그림에서 $\overline{BD} : \overline{DC} = 1 : 3$ 이고 $\triangle ABC = 40 \text{ cm}^2$ 일 때, $\triangle ABD$ 의 넓이를 구하시오.



7 오른쪽 그림과 같은 평행사변형 ABCD에서 $\overline{BD} \parallel \overline{EF}$ 일 때, 다음 중 넓이가 나머지 넷과 다른 하나는?



- ① $\triangle ABE$
- ② $\triangle DAF$
- ③ $\triangle DBF$
- ④ $\triangle BED$
- ⑤ $\triangle DEC$

● 닮음의 뜻

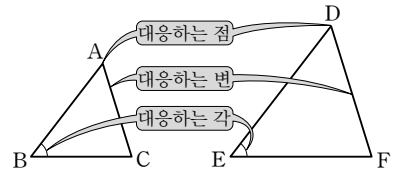
- (1) 닮음 : 한 도형을 일정한 비율로 확대 또는 축소한 것이 다른 도형과 합동이 될 때, 이 두 도형은 서로 닮음인 관계에 있다고 한다.
- (2) 닮은 도형 : 서로 닮음인 관계에 있는 두 도형
- (3) 기호 : $\triangle ABC$ 와 $\triangle DEF$ 가 닮은 도형일 때, 이것을 기호로

$\triangle ABC \sim \triangle DEF$

와 같이 나타낸다. 이때 꼭짓점의 기호는 대응하는 순서대로 쓴다.

참고 $\triangle ABC$ 와 $\triangle DEF$ 에서

- ① 두 삼각형의 넓이가 같다. $\rightarrow \triangle ABC = \triangle DEF$
- ② 두 삼각형이 합동이다. $\rightarrow \triangle ABC \cong \triangle DEF$
- ③ 두 삼각형이 닮음이다. $\rightarrow \triangle ABC \sim \triangle DEF$



(4) 닮은 도형의 예

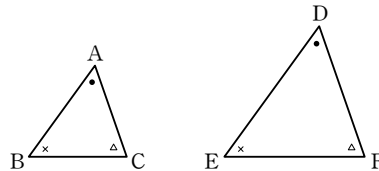
- ① 항상 닮은 도형 : 모든 원, 모든 정다각형, 모든 구, 모든 정다면체, 모든 직각이등변삼각형
- ② 두 이등변삼각형이 닮음이 되는 경우 : 두 꼭지각의 크기가 같을 때
- ③ 두 부채꼴이 닮음이 되는 경우 : 두 부채꼴의 중심각의 크기가 같을 때

● 평면도형에서 닮음의 성질

닮은 두 평면도형에서

- (1) 대응하는 변의 길이의 비는 일정하다.
 $\rightarrow \overline{AB} : \overline{DE} = \overline{BC} : \overline{EF} = \overline{AC} : \overline{DF}$
- (2) 대응하는 각의 크기는 각각 같다.
 $\rightarrow \angle A = \angle D, \angle B = \angle E, \angle C = \angle F$
- (3) (평면도형의 닮음비) = (대응하는 변의 길이의 비)

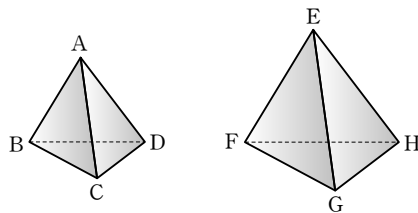
참고 닮음비가 1:1인 두 닮은 도형은 서로 합동이다.



● 입체도형에서 닮음의 성질

닮은 두 입체도형에서

- (1) 대응하는 모서리의 길이의 비는 일정하다.
 $\rightarrow \overline{AB} : \overline{EF} = \overline{AC} : \overline{EG} = \overline{BC} : \overline{FG} = \dots$
- (2) 대응하는 면은 닮은 도형이다.
 $\rightarrow \triangle ABC \sim \triangle EFG, \triangle BCD \sim \triangle FGH, \dots$
- (3) (입체도형의 닮음비) = (대응하는 모서리의 길이의 비)



1 다음 중 옳지 않은 것은?

- ① 닮음인 두 도형은 모양이 같다.
- ② 합동인 두 도형은 서로 닮음이다.
- ③ 닮음인 두 도형의 대응각의 크기는 같다.
- ④ 닮음인 두 도형의 넓이는 같다.
- ⑤ 닮음은 기호 \sim 를 사용하여 나타낸다.

2 다음 중 옳은 것은?

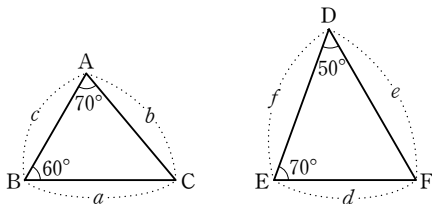
- ① 한 도형을 일정한 비율로 확대 또는 축소한 것이 다른 도형과 합동일 때, 이 두 도형은 서로 합동인 관계에 있다.
- ② 두 닮은 도형에서 대응하는 변의 길이의 비를 그 두 도형의 닮음이라고 한다.
- ③ 대응하는 변의 길이의 비가 일정할 때 두 삼각형은 서로 합동인 도형이다.
- ④ 두 부채꼴의 중심각의 크기가 같을 때 서로 닮음이다.
- ⑤ 대응하는 각의 크기가 서로 같을 때 두 사각형은 서로 닮은 도형이다.

3 다음 <보기> 중 항상 닮은 도형인 것을 모두 고르시오.

보기

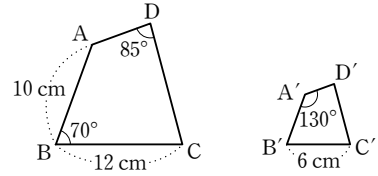
- | | |
|-----------|------------|
| ㉠ 두 원 | ㉡ 두 정삼각형 |
| ㉢ 두 평행사변형 | ㉣ 두 정사면체 |
| ㉤ 두 직각삼각형 | ㉥ 두 등변사다리꼴 |

4 다음 그림에서 두 삼각형이 서로 닮은 도형일 때, 닮음비는?



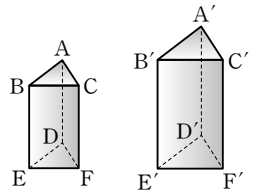
- ① $a : d$
- ② $a : f$
- ③ $b : d$
- ④ $c : d$
- ⑤ $c : f$

5 아래 그림에서 $\square ABCD \sim \square A'B'C'D'$ 일 때, 다음 중 옳은 것을 모두 고르면? (정답 2개)



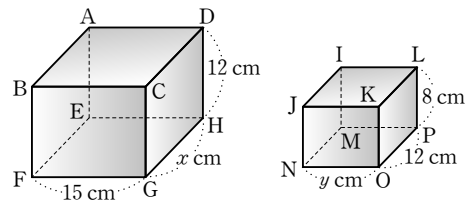
- ① $\square ABCD$ 와 $\square A'B'C'D'$ 의 닮음비는 5 : 3이다.
- ② \overline{AD} 에 대응하는 변은 $\overline{A'D'}$ 이다.
- ③ $\angle B' = 85^\circ$, $\angle D' = 70^\circ$ 이다.
- ④ $\overline{A'B'}$ 의 길이는 5 cm이다.
- ⑤ $\overline{DC} : \overline{D'C'} = 2 : 3$ 이다.

6 오른쪽 그림에서 두 삼각기둥은 서로 닮은 도형이다. \overline{AB} 에 대응하는 모서리가 $\overline{A'B'}$ 일 때, 다음 중 옳지 않은 것은?



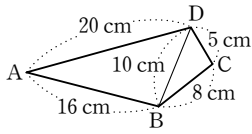
- ① $\triangle DEF \sim \triangle D'E'F'$
- ② $\square BEFC \sim \square B'E'F'C'$
- ③ $\angle ABC = \angle A'B'C' = \angle D'E'F'$
- ④ $\frac{\overline{A'B'}}{\overline{AB}} = \frac{\overline{B'E'}}{\overline{BE}}$
- ⑤ $\triangle ABC \equiv \triangle A'B'C'$

7 다음 그림에서 두 직육면체는 서로 닮은 도형이다. \overline{AB} 와 \overline{IJ} 가 서로 대응하는 모서리일 때, $x+y$ 의 값을 구하시오.



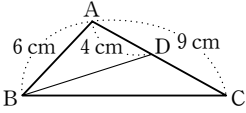
삼각형의 닮음 조건

(1) SSS 닮음 : 세 쌍의 대응하는 변의 길이의 비가 같다.



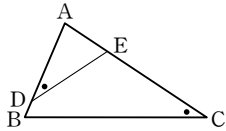
참고 $\overline{AB} : \overline{BC} = \overline{BD} : \overline{CD} = \overline{AD} : \overline{BD} = 2 : 1$
 $\therefore \triangle ABD \sim \triangle BCD$

(2) SAS 닮음 : 두 쌍의 대응하는 변의 길이의 비가 같고, 그 끼인각의 크기가 같다.



참고 $\overline{AB} : \overline{AD} = \overline{AC} : \overline{AB} = 3 : 2$, $\angle A$ 는 공통
 $\therefore \triangle ABC \sim \triangle ADB$

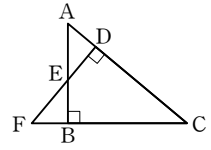
(3) AA 닮음 : 두 쌍의 대응하는 각의 크기가 각각 같다.



참고 $\angle ACB = \angle ADE$, $\angle A$ 는 공통
 $\therefore \triangle ABC \sim \triangle AED$

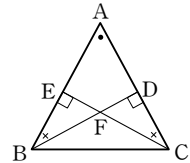
직각삼각형의 닮음

- (1) ① $\triangle ABC \sim \triangle FDC$ (AA 닮음)
- ② $\triangle ABC \sim \triangle ADE$ (AA 닮음)
- ③ $\triangle FDC \sim \triangle FBE$ (AA 닮음)



$\triangle ABC \sim \triangle FDC \sim \triangle ADE \sim \triangle FBE$

- (2) ① $\triangle ABD \sim \triangle ACE$ (AA 닮음)
- ② $\triangle ABD \sim \triangle FBE$ (AA 닮음)
- ③ $\triangle FBE \sim \triangle FCD$ (AA 닮음)



$\triangle ABD \sim \triangle ACE \sim \triangle FBE \sim \triangle FCD$

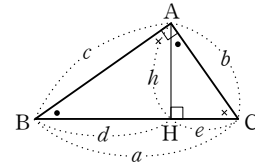
직각삼각형에서 닮음의 활용

(1) $\triangle ABC \sim \triangle HBA$ (AA 닮음)
 $c : d = a : c = b : h \Rightarrow c^2 = ad$

(2) $\triangle ABC \sim \triangle HAC$ (AA 닮음)
 $c : h = a : b = b : e \Rightarrow b^2 = ae$

(3) $\triangle HBA \sim \triangle HAC$ (AA 닮음)
 $d : h = h : e = c : b \Rightarrow h^2 = de$

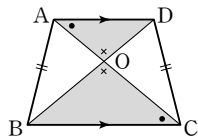
(4) $\triangle ABC = \frac{1}{2} \times b \times c = \frac{1}{2} \times a \times h$
 $\therefore bc = ah$



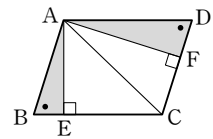
$\triangle ABC \sim \triangle HBA \sim \triangle HAC$

사각형에서 닮음인 삼각형 찾기

(1) $\triangle ADO \sim \triangle CBO$ (AA 닮음)

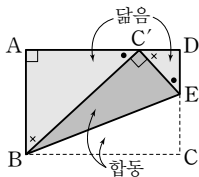


(2) $\triangle ABE \sim \triangle ADF$ (AA 닮음)

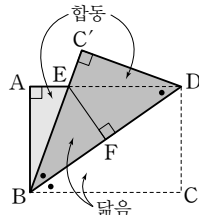


접힌 도형에서 삼각형의 닮음

(1) 직사각형

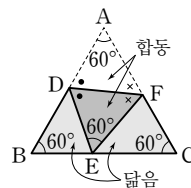


$\triangle BEC' \equiv \triangle BEC$ (ASA 합동)
 $\triangle ABC' \sim \triangle DC'E$ (AA 닮음)



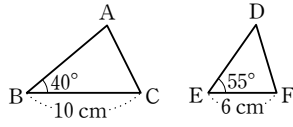
$\triangle ABE \equiv \triangle C'DE$ (ASA 합동)
 $\triangle BCD \sim \triangle BFE$ (AA 닮음)
 $\triangle EBD$ 는 이등변삼각형

(2) 정삼각형



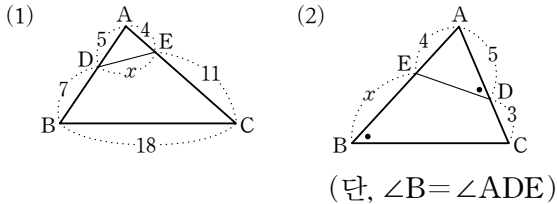
$\triangle ADF \equiv \triangle EDF$ (SSS 합동)
 $\triangle DBE \sim \triangle ECF$ (AA 닮음)

1 오른쪽 그림에서 $\triangle ABC$ 와 $\triangle DEF$ 가 서로 닮은 도형이 되려면 다음 중 어느 조건을 만족해야 하는가?

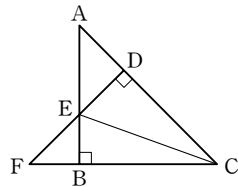


- ① $\angle A = 85^\circ, \angle D = 40^\circ$
- ② $\angle C = 55^\circ, \angle F = 80^\circ$
- ③ $\overline{AB} = 6 \text{ cm}, \overline{DE} = 8 \text{ cm}$
- ④ $\overline{AC} = 4 \text{ cm}, \overline{DF} = 6 \text{ cm}$
- ⑤ $\overline{AB} = 15 \text{ cm}, \overline{DF} = 12 \text{ cm}$

2 다음 그림에서 x 의 값을 구하시오.

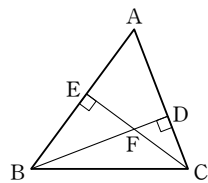


3 오른쪽 그림에서 서로 닮음인 삼각형이 잘못 짝지어진 것은?



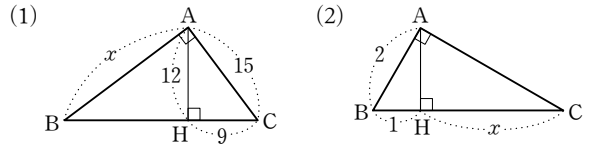
- ① $\triangle ABC \sim \triangle FDC$
- ② $\triangle ADE \sim \triangle FBE$
- ③ $\triangle ABC \sim \triangle FBE$
- ④ $\triangle EBC \sim \triangle EDC$
- ⑤ $\triangle FDC \sim \triangle ADE$

4 오른쪽 그림과 같은 $\triangle ABC$ 에서 다음 중 나머지 네 삼각형과 닮은 삼각형이 아닌 것은?

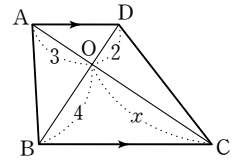


- ① $\triangle ABD$ ② $\triangle ACE$
- ③ $\triangle CBE$ ④ $\triangle FBE$
- ⑤ $\triangle FCD$

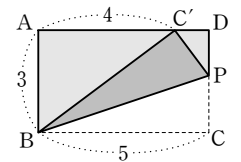
5 다음 그림과 같이 $\angle A = 90^\circ$ 인 직각삼각형 ABC에서 $\overline{AH} \perp \overline{BC}$ 일 때, x 의 값을 구하시오.



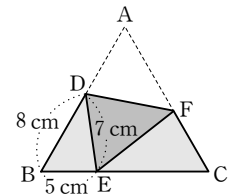
6 오른쪽 그림과 같이 $\overline{AD} \parallel \overline{BC}$ 인 사다리꼴 ABCD에서 x 의 값을 구하시오. (단, 점 O는 두 대각선의 교점)



7 오른쪽 그림은 직사각형 ABCD를 \overline{BP} 를 접는 선으로 하여 꼭짓점 C가 \overline{AD} 위의 점 C' 에 오도록 접은 것이다. $\overline{AB} = 3, \overline{AC'} = 4, \overline{BC} = 5$ 일 때, $\overline{PC'}$ 의 길이를 구하시오.

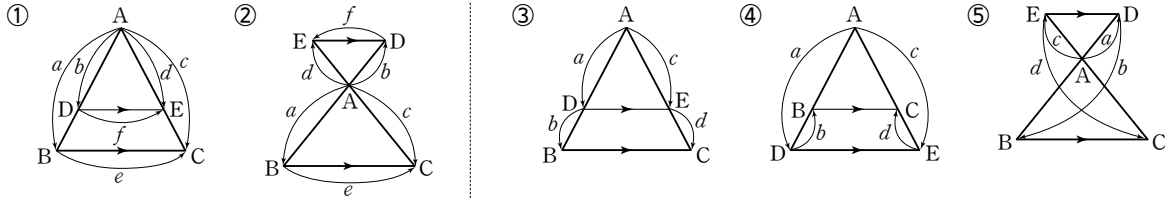


8 오른쪽 그림은 정삼각형 ABC를 \overline{DF} 를 접는 선으로 하여 꼭짓점 A가 \overline{BC} 위의 점 E에 오도록 접은 것이다. $\overline{DB} = 8 \text{ cm}, \overline{BE} = 5 \text{ cm}, \overline{DE} = 7 \text{ cm}$ 일 때, \overline{AF} 의 길이를 구하시오.



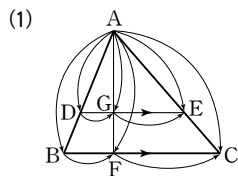
삼각형에서 평행선과 선분의 길이의 비

△ABC에서 한 직선이 \overline{AB} , \overline{AC} 또는 그 연장선과 만나는 점을 각각 D, E라 할 때, 다음이 성립한다.

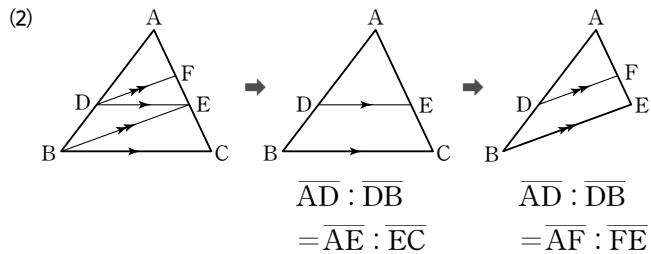


- (1) $\overline{BC} \parallel \overline{DE}$ 이면 $a : b = c : d = e : f$ 또는 $a : b = c : d$
- (2) $a : b = c : d = e : f$ 또는 $a : b = c : d$ 이면 $\overline{BC} \parallel \overline{DE}$ 이다.

삼각형에서 선분의 길이의 비의 응용

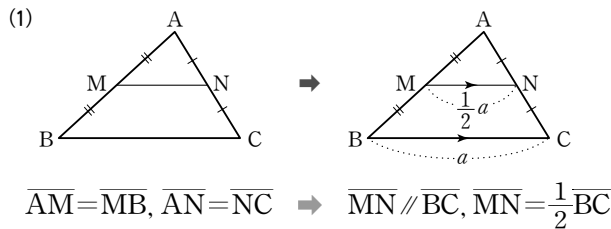


$$\overline{AD} : \overline{AB} = \overline{AE} : \overline{AC} = \overline{AG} : \overline{AF} \\ = \overline{DG} : \overline{BF} = \overline{GE} : \overline{FC}$$

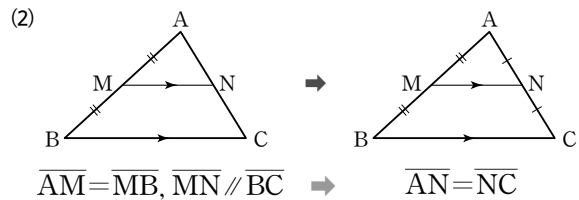


$$\overline{AD} : \overline{DB} = \overline{AE} : \overline{EC} \\ \overline{AD} : \overline{DB} = \overline{AF} : \overline{FE}$$

삼각형의 두 변의 중점을 연결한 선분



$$\overline{AM} = \overline{MB}, \overline{AN} = \overline{NC} \Rightarrow \overline{MN} \parallel \overline{BC}, \overline{MN} = \frac{1}{2} \overline{BC}$$



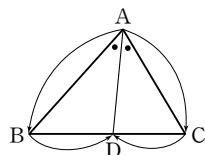
$$\overline{AM} = \overline{MB}, \overline{MN} \parallel \overline{BC} \Rightarrow \overline{AN} = \overline{NC}$$

삼각형의 각의 이등분선

(1) 삼각형의 내각의 이등분선

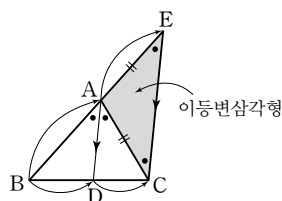
△ABC에서 ∠A의 이등분선이 \overline{BC} 와 만나는 점을 D라 하면

$$\overline{AB} : \overline{AC} = \overline{BD} : \overline{CD}$$



$$\overline{BA} : \overline{AE} = \overline{BD} : \overline{DC}$$

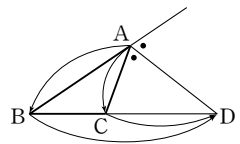
$$\parallel \overline{AC} \\ \Rightarrow \overline{AB} : \overline{AC} = \overline{BD} : \overline{CD}$$



(2) 삼각형의 외각의 이등분선

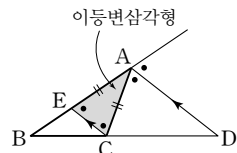
△ABC에서 ∠A의 외각의 이등분선이 \overline{BC} 의 연장선과 만나는 점을 D라 하면

$$\overline{AB} : \overline{AC} = \overline{BD} : \overline{CD}$$

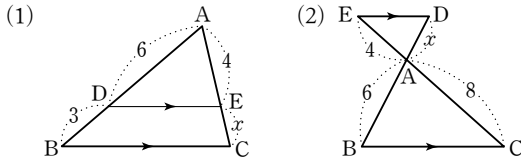


$$\overline{BA} : \overline{AE} = \overline{BD} : \overline{DC}$$

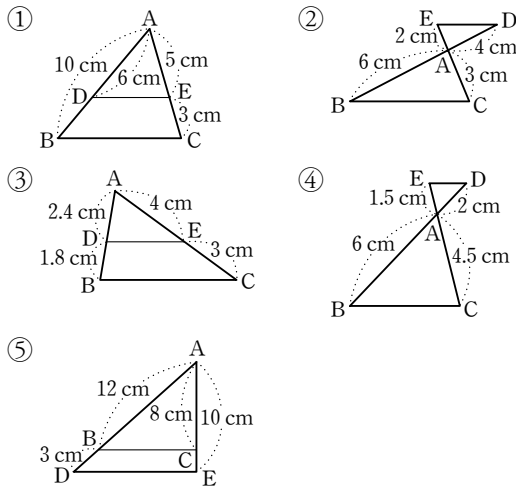
$$\parallel \overline{AC} \\ \Rightarrow \overline{AB} : \overline{AC} = \overline{BD} : \overline{CD}$$



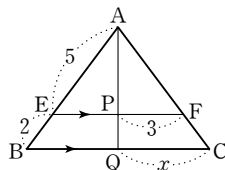
1 다음 그림에서 $\overline{BC} \parallel \overline{DE}$ 일 때, x 의 값을 구하시오.



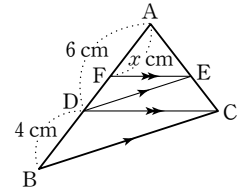
2 다음 중 $\overline{BC} \parallel \overline{DE}$ 가 아닌 것은?



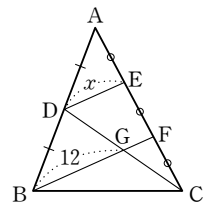
3 오른쪽 그림에서 $\overline{EF} \parallel \overline{BC}$ 일 때, x 의 값을 구하시오.



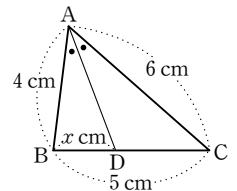
4 오른쪽 그림에서 $\overline{DE} \parallel \overline{BC}$, $\overline{FE} \parallel \overline{DC}$ 일 때, x 의 값을 구하시오.



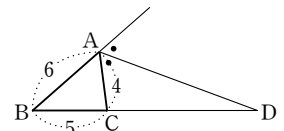
5 오른쪽 그림에서 점 D는 \overline{AB} 의 중점이고 $\overline{AE} = \overline{EF} = \overline{FC}$ 이다. \overline{BF} 와 \overline{CD} 의 교점을 G라 할 때, x 의 값을 구하시오.



6 오른쪽 그림과 같은 $\triangle ABC$ 에서 $\angle A$ 의 이등분선이 \overline{BC} 와 만나는 점을 D라 할 때, x 의 값을 구하시오.



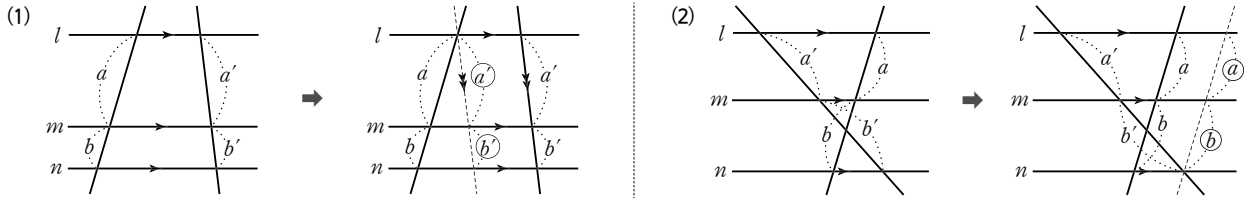
7 오른쪽 그림과 같은 $\triangle ABC$ 에서 \overline{BC} 의 연장선과 $\angle A$ 의 외각의 이등분선의 교점을 D라 할 때, \overline{CD} 의 길이를 구하시오.



● 평행선과 선분의 길이의 비

세 개의 평행선이 다른 두 직선과 만나서 생기는 선분의 길이의 비는 같다.

→ $l \parallel m \parallel n$ 이면 $a : b = a' : b'$



● 사다리꼴에서 평행선과 선분의 길이의 비 (1)

$\overline{AD} \parallel \overline{BC}$ 인 사다리꼴 ABCD에서 $\overline{EF} \parallel \overline{BC}$ 일 때, \overline{EF} 의 길이 구하기

[방법 1] 평행선 이용

① $\triangle ABH$ 에서

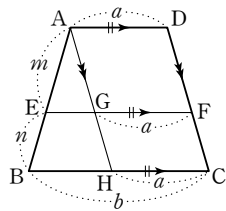
$$\overline{EG} : \overline{BH} = m : (m+n)$$

$$\therefore \overline{EG} = \frac{m(b-a)}{m+n}$$

② $\square AHCD$ 에서

$$\overline{GF} = \overline{AD} = \overline{HC} = a$$

$$\therefore \overline{EF} = \underbrace{\overline{EG}}_{\text{①}} + \underbrace{\overline{GF}}_{\text{②}} = \frac{an+bm}{m+n}$$



[방법 2] 대각선 이용

① $\triangle ABC$ 에서

$$\overline{EG} : \overline{BC} = m : (m+n)$$

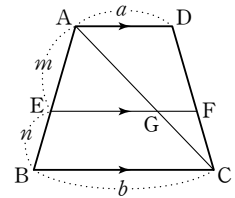
$$\therefore \overline{EG} = \frac{bm}{m+n}$$

② $\triangle CDA$ 에서

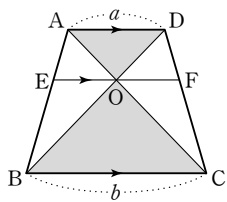
$$\overline{GF} : \overline{AD} = n : (m+n)$$

$$\therefore \overline{GF} = \frac{an}{m+n}$$

$$\therefore \overline{EF} = \underbrace{\overline{EG}}_{\text{①}} + \underbrace{\overline{GF}}_{\text{②}} = \frac{an+bm}{m+n}$$



● 사다리꼴에서 평행선과 선분의 길이의 비 (2)

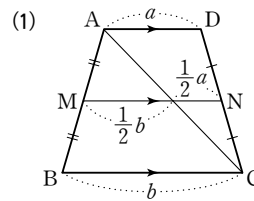


$\overline{AD} \parallel \overline{EF} \parallel \overline{BC}$ 이면

① $\overline{EO} = \overline{OF}$ ② $\overline{EF} = \frac{2ab}{a+b}$

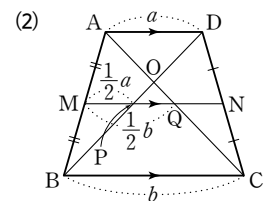
● 사다리꼴에서 두 변의 중점을 연결한 선분

$\overline{AD} \parallel \overline{MN} \parallel \overline{BC}$ 이고 두 점 M, N이 각각 \overline{AB} , \overline{DC} 의 중점일 때



$$\overline{MN} = \frac{1}{2}b + \frac{1}{2}a$$

$$= \frac{1}{2}(a+b)$$



$$\overline{PQ} = \frac{1}{2}b - \frac{1}{2}a$$

$$= \frac{1}{2}(b-a)$$

(단, $b > a$)

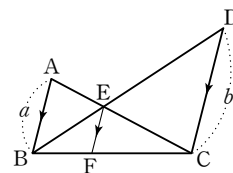
● 평행선과 선분의 길이의 비의 응용

\overline{AC} 와 \overline{BD} 의 교점을 E라 할 때, $\overline{AB} \parallel \overline{EF} \parallel \overline{DC}$ 이면

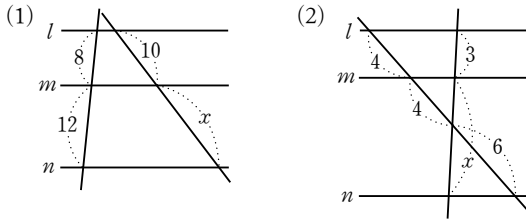
(1) $\triangle ABE \sim \triangle CDE$ (AA 닮음)이므로 $\overline{AE} : \overline{CE} = \overline{BE} : \overline{DE} = \overline{AB} : \overline{CD} = a : b$

(2) $\triangle BEF \sim \triangle BDC$ (AA 닮음)이므로 $\overline{BE} : \overline{BD} = \overline{EF} : \overline{DC}$ 에서

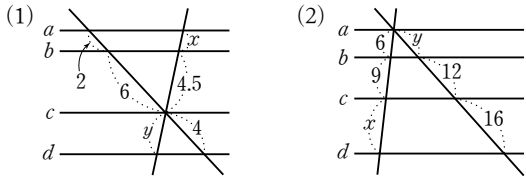
$$a : (a+b) = \overline{EF} : b \quad \therefore \overline{EF} = \frac{ab}{a+b}$$



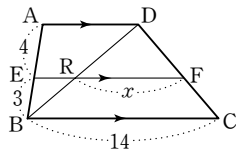
1 다음 그림에서 $l \parallel m \parallel n$ 일 때, x 의 값을 구하시오.



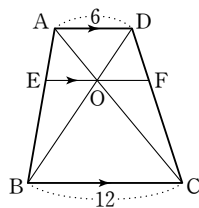
2 다음 그림에서 $a \parallel b \parallel c \parallel d$ 일 때, $x+y$ 의 값을 구하시오.



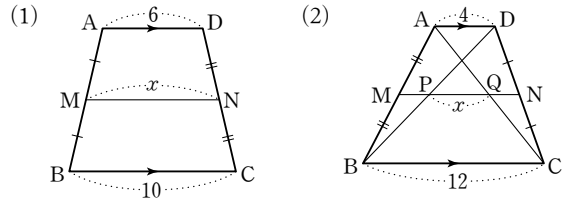
3 오른쪽 그림과 같이 $\overline{AD} \parallel \overline{BC}$ 인 사다리꼴 ABCD에서 $\overline{EF} \parallel \overline{BC}$ 일 때, x 의 값을 구하시오.



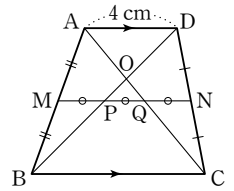
4 오른쪽 그림에서 $\overline{AD} \parallel \overline{EF} \parallel \overline{BC}$ 이고 $\overline{AD} = 6$, $\overline{BC} = 12$ 일 때, \overline{EF} 의 길이를 구하시오.



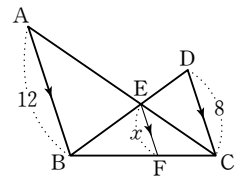
5 다음 그림과 같이 $\overline{AD} \parallel \overline{BC}$ 인 사다리꼴 ABCD에서 \overline{AB} , \overline{DC} 의 중점을 각각 M, N이라 할 때, x 의 값을 구하시오.



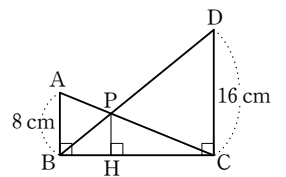
6 오른쪽 그림과 같이 $\overline{AD} \parallel \overline{BC}$ 인 사다리꼴 ABCD에서 두 점 M, N은 각각 \overline{AB} , \overline{DC} 의 중점이다. $\overline{MP} = \overline{PQ} = \overline{QN}$ 이고 $\overline{AD} = 4$ cm일 때, \overline{BC} 의 길이를 구하시오.



7 오른쪽 그림에서 $\overline{AB} \parallel \overline{EF} \parallel \overline{DC}$ 일 때, x 의 값을 구하시오.

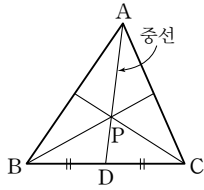


8 오른쪽 그림에서 \overline{AB} , \overline{PH} , \overline{DC} 가 모두 \overline{BC} 에 수직이고 $\overline{AB} = 8$ cm, $\overline{DC} = 16$ cm일 때, \overline{PH} 의 길이를 구하시오.



삼각형의 중선

- (1) 중선 : 삼각형의 한 꼭짓점과 그 대변의 중점을 이은 선분
- (2) 성질 : 중선에 의해 나누어진 두 삼각형의 넓이는 같다.

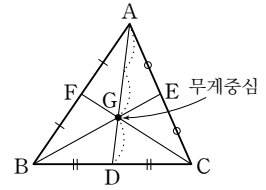


→ $\triangle ABD = \triangle ACD$
 $= \frac{1}{2} \triangle ABC$

참고 $\triangle PBD = \triangle PCD, \triangle ABP = \triangle ACP$

삼각형의 무게중심

- (1) 무게중심 : 삼각형의 세 중선의 교점
- (2) 성질 : 삼각형의 무게중심은 세 중선의 길이를 각 꼭짓점으로부터 2 : 1로 나눈다.

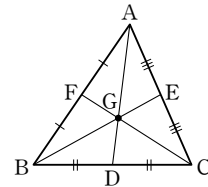


→ $\overline{AG} : \overline{GD} = \overline{BG} : \overline{GE} = \overline{CG} : \overline{GF} = 2 : 1$

삼각형의 무게중심과 넓이

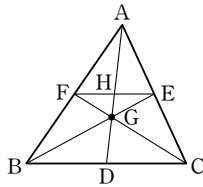
세 중선에 의해 나누어진 6개의 삼각형의 넓이는 모두 같다.

- (1) $\triangle AFG = \triangle BFG = \triangle BDG = \triangle CDG = \triangle CEG = \triangle AEG = \frac{1}{6} \triangle ABC$
- (2) $\triangle GAB = \triangle GBC = \triangle GCA = \frac{1}{3} \triangle ABC$

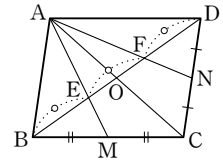


삼각형의 무게중심의 응용

- (1) $\triangle ABC$ 의 무게중심을 G라 할 때 $\overline{CG} : \overline{GF} = 2 : 1$ 이고, $\triangle GHF \sim \triangle GDC$ (AA 닮음)이므로 $\overline{GH} : \overline{GD} = 1 : 2, \overline{AH} = \overline{HD}$
 → $\overline{AH} : \overline{HG} : \overline{GD} = 3 : 1 : 2$



- (2) 평행사변형 ABCD에서
 ① 점 E는 $\triangle ABC$ 의 무게중심, 점 F는 $\triangle ACD$ 의 무게중심
 ② $\overline{BE} : \overline{EO} = \overline{DF} : \overline{FO} = 2 : 1$ 이고, $\overline{BO} = \overline{DO}$ 이므로 $\overline{BE} = \overline{EF} = \overline{FD}$



닮은 도형의 넓이의 비와 부피의 비

- (1) 닮음비가 $m : n$ 인 두 평면도형에서
 ① 둘레의 길이의 비 → $m : n$
 ② 넓이의 비 → $m^2 : n^2$

- (2) 닮음비가 $m : n$ 인 두 입체도형에서
 ① 겹넓이의 비 → $m^2 : n^2$
 ② 부피의 비 → $m^3 : n^3$

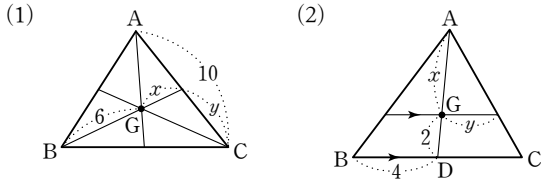
닮음의 활용

직접 측정하기 어려운 높이, 거리 등을 도형의 닮음을 이용하여 간접적인 방법으로 측량할 수 있다.

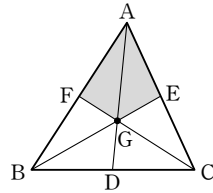
- (1) 축소 : 어떤 도형을 일정한 비율로 줄인 그림
- (2) 축척 : 축소에서 실제 도형을 줄인 비율

① (축척) = $\frac{\text{(축도에서의 거리)}}{\text{(실제 거리)}}$ ② (축도에서의 거리) = (실제 거리) × (축척) ③ (실제 거리) = $\frac{\text{(축도에서의 거리)}}{\text{(축척)}}$

1 다음 그림에서 점 G가 $\triangle ABC$ 의 무게중심일 때, x, y 의 값을 각각 구하시오.

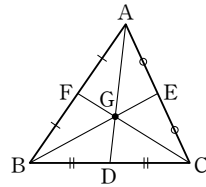


2 오른쪽 그림에서 점 G는 $\triangle ABC$ 의 무게중심이고 $\triangle ABC = 60 \text{ cm}^2$ 일 때, 어두운 부분의 넓이를 구하시오.



3 오른쪽 그림에서 $\triangle ABC$ 의 세 중선의 교점을 G라 할 때, 다음 중 옳지 않은 것은?

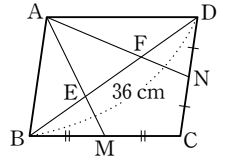
- ① $\overline{AG} : \overline{GD} = 2 : 1$
- ② $\triangle ABD = \triangle ACD$
- ③ $\triangle ABG = \frac{1}{3} \triangle ABC$
- ④ $\triangle ABC = 6 \triangle BDG$
- ⑤ $\triangle BDG \cong \triangle CDG$



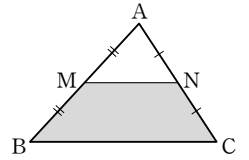
4 오른쪽 그림에서 점 G는 $\triangle ABC$ 의 무게중심이다. $\overline{HG} = 2 \text{ cm}$ 일 때, \overline{AD} 의 길이를 구하시오.



5 오른쪽 그림과 같은 평행사변형 ABCD에서 $\overline{BC}, \overline{CD}$ 의 중점을 각각 M, N이라 하자. $\overline{BD} = 36 \text{ cm}$ 일 때, \overline{EF} 의 길이를 구하시오.



6 오른쪽 그림과 같은 $\triangle ABC$ 에서 두 점 M, N은 각각 $\overline{AB}, \overline{AC}$ 의 중점이다. $\triangle AMN = 3 \text{ cm}^2$ 일 때, $\square MBCN$ 의 넓이를 구하시오.



7 서로 닮음인 두 직육면체의 겹넓이의 비가 16 : 25이다. 큰 직육면체의 부피가 1000 cm^3 일 때, 작은 직육면체의 부피를 구하시오.

8 축척이 $\frac{1}{1000}$ 인 지도에서 실제 거리가 400 m인 두 점 사이의 지도상의 거리를 구하시오.

핵심 정리

14. 피타고라스 정리

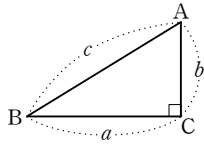
● 피타고라스 정리

직각삼각형에서 직각을 낀 두 변의 길이를 a, b 라 하고 빗변의 길이를 c 라 하면

$$c^2 = a^2 + b^2$$

참고 암기하면 편한 피타고라스의 수

→ (3, 4, 5), (5, 12, 13), (6, 8, 10), (8, 15, 17), (9, 40, 41), ...



● 피타고라스 정리의 설명 (1)

$$a^2 = c \times \overline{DB} \quad \dots \textcircled{1}$$

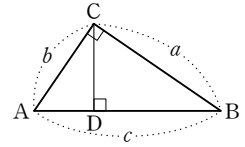
$$b^2 = c \times \overline{AD} \quad \dots \textcircled{2}$$

①+②을 하면

$$a^2 + b^2 = c \times (\overline{DB} + \overline{AD})$$

$$a^2 + b^2 = c \times c$$

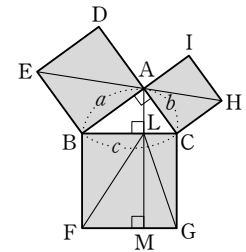
$$\therefore a^2 + b^2 = c^2$$



● 피타고라스 정리의 설명 (2)

$\triangle EBC \equiv \triangle ABF$ (SAS 합동)
 $\triangle EBC = \triangle EBA$
 $\triangle ABF = \triangle LBF$
 $\triangle EBA = \triangle LBF$
 $\therefore \square ADEB = \square BFML$

$\triangle BCH \equiv \triangle GCA$ (SAS 합동)
 $\triangle BCH = \triangle ACH$
 $\triangle GCA = \triangle GCL$
 $\triangle ACH = \triangle GCL$
 $\therefore \square ACHI = \square LMGC$



(큰 정사각형의 넓이)
= (작은 두 정사각형의 넓이의 합)

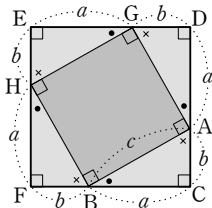
$$\square BFGC = \square ADEB + \square ACHI$$

$$\therefore c^2 = a^2 + b^2$$

● 피타고라스 정리의 설명 (3)

$$\square CDEF = \square AGHB + 4 \triangle ABC$$

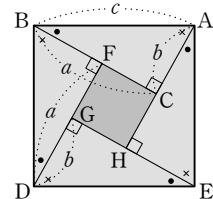
$$\therefore c^2 = a^2 + b^2$$



● 피타고라스 정리의 설명 (4)

$$\square ABDE = \square CFGH + 4 \triangle ABC$$

$$\therefore c^2 = a^2 + b^2$$



● 종이접기

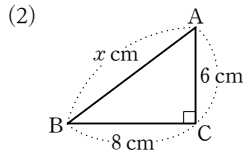
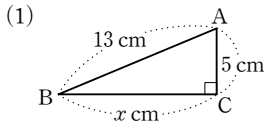
(1)

$\triangle APQ \equiv \triangle ADQ$ (SAS 합동)
 $\triangle ABP \sim \triangle PCQ$ (AA 닮음)

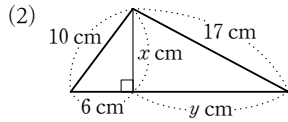
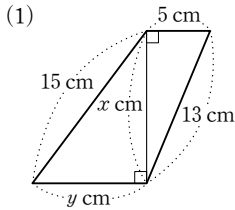
(2)

$\triangle EBD$ 는 이등변삼각형이므로
 $\triangle EAB \equiv \triangle EC'D$

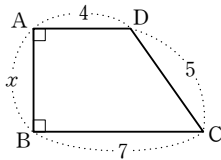
1 다음 그림에서 x 의 값을 구하시오.



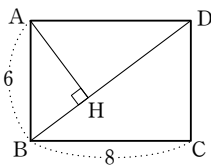
2 다음 그림에서 $x+y$ 의 값을 구하시오.



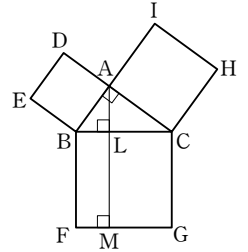
3 오른쪽 그림과 같은 사다리꼴 ABCD에서 $\overline{AD}=4$, $\overline{BC}=7$, $\overline{CD}=5$ 일 때, x 의 값을 구하시오.



4 오른쪽 그림과 같이 $\overline{AB}=6$, $\overline{BC}=8$ 인 직사각형 ABCD의 꼭짓점 A에서 대각선 BD에 내린 수선의 발을 H라 할 때, \overline{AH} 의 길이를 구하시오.

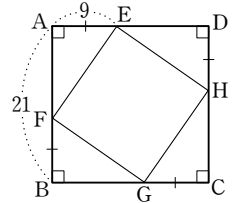


5 오른쪽 그림은 $\angle A=90^\circ$ 인 직각삼각형 ABC의 각 변을 한 변으로 하는 3개의 정사각형을 그린 것이다. 다음 중 옳지 않은 것은?

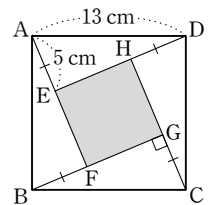


- ① $\triangle GCA = \triangle BCH$
- ② $\triangle GCA = \triangle ACH$
- ③ $\square ADEB = \square BFML$
- ④ $\triangle EBC = \triangle EBA$
- ⑤ $\square BFGC = \triangle ABC$

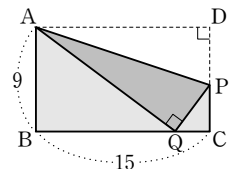
6 오른쪽 그림과 같이 한 변의 길이가 21인 정사각형 ABCD에서 $\overline{AE}=\overline{BF}=\overline{CG}=\overline{DH}=9$ 일 때, $\square EFGH$ 의 둘레의 길이를 구하시오.



7 오른쪽 그림에서 $\square ABCD$ 는 한 변의 길이가 13 cm인 정사각형이고 $\overline{AE}=\overline{BF}=\overline{CG}=\overline{DH}=5$ cm일 때, $\square EFGH$ 의 넓이를 구하시오.



8 오른쪽 그림과 같이 $\overline{AB}=9$, $\overline{BC}=15$ 인 직사각형 ABCD에서 \overline{AP} 를 접는 선으로 하여 꼭짓점 D가 \overline{BC} 위의 점 Q에 오도록 접었을 때, $\triangle CPQ$ 의 넓이를 구하시오.



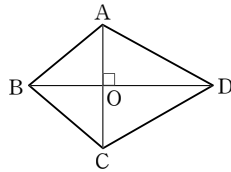
● 삼각형의 각의 크기와 변의 길이 사이의 관계

$\triangle ABC$ 에서 $\overline{AB}=c, \overline{BC}=a, \overline{CA}=b$ 일 때 (단, c 가 가장 긴 변의 길이)

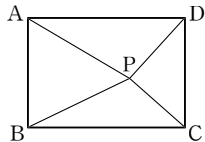
- (1) $\angle C < 90^\circ \iff c^2 < a^2 + b^2$: 예각삼각형
- (2) $\angle C = 90^\circ \iff c^2 = a^2 + b^2$: 직각삼각형
- (3) $\angle C > 90^\circ \iff c^2 > a^2 + b^2$: 둔각삼각형

● 사각형에서 피타고라스 정리의 활용

(1) $\overline{AB}^2 + \overline{CD}^2 = \overline{BC}^2 + \overline{AD}^2$

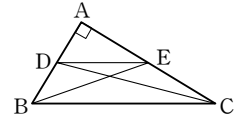


(2) 직사각형 ABCD의 내부에 임의의 한 점 P가 있을 때 $\overline{PA}^2 + \overline{PC}^2 = \overline{PB}^2 + \overline{PD}^2$



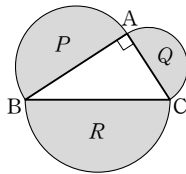
● 직각삼각형에서 피타고라스 정리의 활용

$\overline{DE}^2 + \overline{BC}^2 = \overline{BE}^2 + \overline{CD}^2$

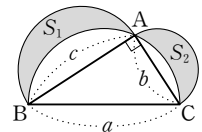


● 반원에서 피타고라스 정리의 활용

(1) $P + Q = R$

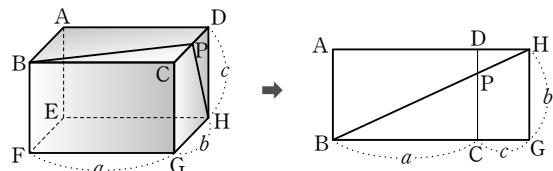


(2) $S_1 + S_2 = \triangle ABC = \frac{1}{2}bc$



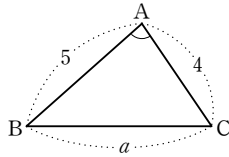
● 최단 거리

선이 지나간 부분의 전개도를 그린다.

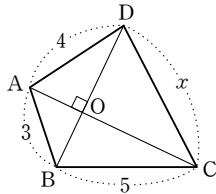


- 1 세 변의 길이가 각각 다음과 같이 주어진 삼각형 중에서 직각삼각형인 것을 모두 고르면? (정답 2개)
- ① 3 cm, 5 cm, 7 cm ② 5 cm, 6 cm, 7 cm
 ③ 6 cm, 8 cm, 9 cm ④ 7 cm, 24 cm, 25 cm
 ⑤ 9 cm, 12 cm, 15 cm

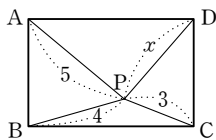
- 2 오른쪽 그림과 같은 $\triangle ABC$ 에서 $\overline{AB}=5$, $\overline{AC}=4$ 일 때, $\angle A < 90^\circ$ 가 되도록 하는 자연수 a 의 값을 구하시오.
 (단, $a > 5$)



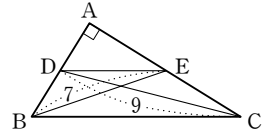
- 3 오른쪽 그림과 같은 사각형 ABCD에서 $\overline{AC} \perp \overline{BD}$ 이고 두 대각선의 교점을 O라 하자. $\overline{AB}=3$, $\overline{AD}=4$, $\overline{BC}=5$ 일 때, x^2 의 값을 구하시오.



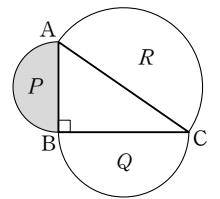
- 4 오른쪽 그림과 같이 사각형 ABCD의 내부에 한 점 P가 있다. $\overline{PA}=5$, $\overline{PB}=4$, $\overline{PC}=3$ 일 때, x^2 의 값을 구하시오.



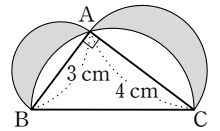
- 5 오른쪽 그림과 같이 $\angle A = 90^\circ$ 인 직각삼각형 ABC에서 $\overline{BE}=7$, $\overline{CD}=9$ 일 때, $\overline{BC}^2 + \overline{DE}^2$ 의 값을 구하시오.



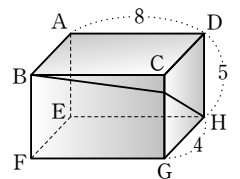
- 6 오른쪽 그림과 같이 $\angle B = 90^\circ$ 인 직각삼각형 ABC의 세 변을 지름으로 하는 세 반원의 넓이를 각각 P, Q, R라 하자. Q의 넓이가 $15\pi \text{ cm}^2$, R의 넓이가 $20\pi \text{ cm}^2$ 일 때, P의 넓이를 구하시오.



- 7 오른쪽 그림과 같이 $\angle A = 90^\circ$ 인 직각삼각형 ABC의 세 변을 각각 지름으로 하는 세 반원을 그렸다. $\overline{AB}=3 \text{ cm}$, $\overline{AC}=4 \text{ cm}$ 일 때, 어두운 부분의 넓이를 구하시오.



- 8 오른쪽 그림과 같은 직육면체의 겉면을 따라 꼭짓점 B에서 출발하여 CG를 지나 꼭짓점 H에 이르는 최단 거리를 구하시오.



● 사건과 경우의 수

- (1) 사건 : 동일한 조건에서 반복할 수 있는 실험이나 관찰에 의해 나타나는 결과
- (2) 경우의 수 : 어떤 사건이 일어날 수 있는 경우의 가짓수

● 두 사건이 동시에 일어나지 않을 때

사건 A가 일어나는 경우의 수가 m , 사건 B가 일어나는 경우의 수가 n 이면
 (사건 A 또는 사건 B가 일어나는 경우의 수) = $m+n$

● 두 사건이 동시에 일어날 때

사건 A가 일어나는 경우의 수가 m , 그 각각의 경우에 대하여 사건 B가 일어나는 경우의 수가 n 이면
 (사건 A와 사건 B가 동시에 일어나는 경우의 수) = $m \times n$

- 예 3종류의 볼펜과 5종류의 색연필이 있다.
 이 중에서 한 자루를 선택하는 경우의 수 $\Rightarrow 3+5=8$
 볼펜과 색연필을 각각 한 자루씩 선택하는 경우의 수 $\Rightarrow 3 \times 5=15$

● 서로 다른 두 개의 주사위를 동시에 던질 때, 두 눈의 수의 합과 차

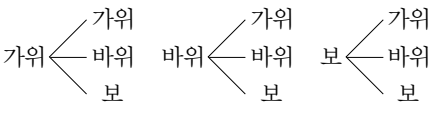
- 모든 경우의 수 $\Rightarrow 6 \times 6=36$
- 두 눈의 수의 합

두 눈의 수의 합	2	3	4	5	6	7	8	9	10	11	12
경우의 수	1	2	3	4	5	6	5	4	3	2	1

- 두 눈의 수의 차

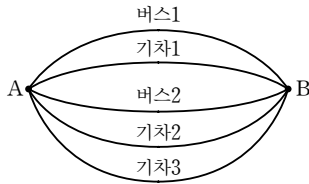
두 눈의 수의 차	0	1	2	3	4	5
경우의 수	6	10	8	6	4	2

● 가위바위보

A, B 두 명이 가위바위보를 할 때	A, B, C 세 명이 가위바위보를 할 때
<ul style="list-style-type: none"> • 모든 경우의 수 $\Rightarrow 3 \times 3=9$  <ul style="list-style-type: none"> • A가 이기는 경우의 수 : 3 • B가 이기는 경우의 수 : 3 • 비기는 경우의 수 : 3 	<ul style="list-style-type: none"> • 모든 경우의 수 $\Rightarrow 3 \times 3 \times 3=27$ • 승부가 결정되는 경우의 수 : 18 <p>① 한 사람만 이기는 경우의 수 : 9</p> <ul style="list-style-type: none"> — A가 이기는 경우 : 3가지 — B가 이기는 경우 : 3가지 — C가 이기는 경우 : 3가지 <p>② 두 사람이 이기는 경우의 수 : 9</p> <ul style="list-style-type: none"> — A, B가 이기는 경우 : 3가지 — B, C가 이기는 경우 : 3가지 — C, A가 이기는 경우 : 3가지 <ul style="list-style-type: none"> • 비기는 경우의 수 : 9 \Rightarrow 모두 같은 것을 내는 경우 : 3가지 \Rightarrow 모두 다른 것을 내는 경우 : 6가지

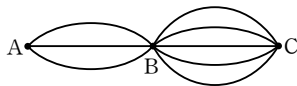
1 주머니에 1에서 20까지의 숫자가 각각 적힌 20개의 구슬이 들어 있다. 이 중에서 한 개의 구슬을 꺼낼 때, 20의 약수가 나오는 경우의 수를 구하시오.

2 다음 그림과 같이 A 지점에서 B 지점으로 가는 방법이 버스로 2가지, 기차로 3가지가 있을 때, 버스 또는 기차를 이용하여 A 지점에서 B 지점으로 가는 방법의 수를 구하시오.



3 다음 그림과 같이 A 지점에서 B 지점으로 가는 방법은 3가지, B 지점에서 C 지점으로 가는 방법은 5가지이다. 이때 A 지점에서 B 지점을 거쳐 C 지점으로 가는 방법의 수를 구하시오.

(단, 한 번 지나간 지점은 다시 지나가지 않는다.)



4 서로 다른 두 개의 주사위를 동시에 던질 때, 두 눈의 수의 차가 0인 경우의 수를 구하시오.

5 서로 다른 두 개의 주사위를 동시에 던질 때, 두 눈의 수의 합이 4 또는 8이 나오는 경우의 수를 구하시오.

6 서로 다른 두 개의 주사위를 동시에 던질 때, 두 눈의 수의 차가 4 이상인 경우의 수를 구하시오.

7 A, B 두 사람이 가위바위보를 할 때, A가 지는 경우의 수를 구하시오.

8 A, B, C 세 사람이 가위바위보를 할 때, 세 사람이 모두 비기게 되는 경우의 수를 구하시오.

9 A, B, C 세 사람이 가위바위보를 할 때, 승부가 결정되는 경우의 수를 구하시오.

● 한 줄로 세우기

- (1) n 명을 한 줄로 세우는 경우의 수 $\rightarrow n \times (n-1) \times (n-2) \times \dots \times 2 \times 1$
- (2) n 명 중 2명을 뽑아 한 줄로 세우는 경우의 수 $\rightarrow n \times (n-1)$
- (3) n 명 중 3명을 뽑아 한 줄로 세우는 경우의 수 $\rightarrow n \times (n-1) \times (n-2)$

● 이웃하여 세우기

- (이웃하는 것을 하나로 묶어서 한 줄로 세우는 경우의 수) \times (묶음 안에서 자리를 바꾸는 경우의 수)
- 예) A, B, C, D, E 5명을 한 줄로 세울 때, B와 C가 서로 이웃하는 경우의 수
- \rightarrow B와 C를 하나로 묶어서 한 줄로 세우는 경우의 수는 4명을 한 줄로 세우는 경우의 수와 같으므로 $4 \times 3 \times 2 \times 1 = 24$
 - B와 C가 자리를 바꾸는 경우의 수는 $2 \times 1 = 2$
 - 따라서 구하는 경우의 수는 $24 \times 2 = 48$

● 자연수 만들기

- (1) 0을 포함하지 않는 경우
 n 장의 카드에서 3장을 뽑아 만들 수 있는 세 자리의 자연수의 개수 $\rightarrow n \times (n-1) \times (n-2)$
- (2) 0을 포함하는 경우
 n 장의 카드에서 3장을 뽑아 만들 수 있는 세 자리의 자연수의 개수 $\rightarrow (n-1) \times (n-1) \times (n-2)$

● 대표 뽑기

- (1) 자격이 다른 경우(회장, 부회장 등)
 n 명 중 자격이 다른 대표 2명을 뽑는 경우의 수 $\rightarrow n \times (n-1)$
 n 명 중 자격이 다른 대표 3명을 뽑는 경우의 수 $\rightarrow n \times (n-1) \times (n-2)$
- (2) 자격이 같은 경우(대표, 임원 등)
 n 명 중 자격이 같은 대표 2명을 뽑는 경우의 수 $\rightarrow \frac{n \times (n-1)}{2}$
 n 명 중 자격이 같은 대표 3명을 뽑는 경우의 수 $\rightarrow \frac{n \times (n-1) \times (n-2)}{3 \times 2 \times 1}$
- (3) 반드시 포함되어야 하는 조건이 있는 경우
반드시 포함되어야 하는 것을 이미 뽑았다고 생각하고 나머지에서 필요한 것을 뽑는다.
예) A, B, C, D, E 5명 중 3명의 대표를 뽑는데 반드시 B가 뽑히는 경우의 수
 \rightarrow B를 뽑았다고 생각하면 구하는 경우의 수는 A, C, D, E 4명 중 2명의 대표를 뽑는 경우와 같다.
따라서 구하는 경우의 수는 $\frac{4 \times 3}{2} = 6$

● 선분과 삼각형의 개수

- 원 위에 n 개의 점이 있을 때
- (1) 두 점을 이은 선분의 개수 $\rightarrow \frac{n \times (n-1)}{2}$
 - (2) 세 점을 이은 삼각형의 개수 $\rightarrow \frac{n \times (n-1) \times (n-2)}{3 \times 2 \times 1}$

- 1 A, B, C, D 4명을 한 줄로 세우는 경우의 수를 구하십시오.
- 2 A, B, C, D, E, F 6명 중 4명을 뽑아 한 줄로 세우는 경우의 수를 구하십시오.
- 3 A, B, C, D 4명을 한 줄로 세울 때, A와 B가 이웃하도록 세우는 경우의 수를 구하십시오.
- 4 1에서 4까지의 숫자가 각각 적힌 4장의 카드에서 3장을 뽑아 만들 수 있는 세 자리의 자연수의 개수를 구하십시오.
- 5 0, 1, 2, 3, 4의 숫자가 각각 적힌 5장의 카드가 있다. 이 중에서 2장을 뽑아 만들 수 있는 두 자리의 자연수의 개수를 구하십시오.
- 6 A, B, C, D, E 5명의 학생 중에서 대표 2명을 뽑는 경우의 수를 구하십시오.
- 7 A, B, C, D, E 5명의 학생 중에서 회장, 부회장, 총무를 각각 1명씩 총 3명을 뽑는 경우의 수를 구하십시오.
- 8 A, B, C, D, E 5명 중 대표 3명을 뽑을 때, A가 반드시 뽑히는 경우의 수를 구하십시오.
- 9 원 위에 6개의 점이 있을 때, 두 점을 이어 만든 선분의 개수를 구하십시오.
- 10 서로 다른 4개의 옷짝을 동시에 던져서 옷놀이를 할 때, 개가 나오는 경우의 수를 구하십시오.

● 확률의 뜻

(사건 A 가 일어날 확률)

$$= \frac{\text{(사건 } A \text{가 일어나는 경우의 수)}}{\text{(모든 경우의 수)}}$$

● 확률의 성질

어떤 사건이 일어날 확률을 p 라 하면

$$0 \leq p \leq 1$$
 절대로 일어나지 않는 사건의 확률 ← 0 1 ← 반드시 일어나는 사건의 확률

● 어떤 사건이 일어나지 않을 확률

사건 A 가 일어날 확률이 p 일 때,
 (사건 A 가 일어나지 않을 확률) $= 1 - p$

● '적어도 ~'일 확률

(적어도 하나는 ~일 확률) $= 1 - (\text{모두 } \sim \text{가 아닐 확률})$

● 확률의 계산

두 사건 A, B 가 일어날 확률을 각각 p, q 라 하면

(1) 두 사건 A, B 가 동시에 일어나지 않을 때, 사건 A 또는 사건 B 가 일어날 확률

→ $p + q$

예 접시에 같은 모양의 깨 송편 3개, 밤 송편 2개, 콩 송편 5개가 놓여 있다. 이 중에서 임의로 송편 한 개를 먹을 때, 깨 송편 또는 밤 송편을 먹을 확률은

$$\frac{3}{10} + \frac{2}{10} = \frac{5}{10} = \frac{1}{2}$$

(2) 두 사건 A, B 가 서로 영향을 끼치지 않을 때, 사건 A 와 사건 B 가 동시에 일어날 확률

→ $p \times q$

예 집에서 학교까지 가는데 버스를 이용할 확률이 $\frac{2}{5}$, 지하철을 이용할 확률이 $\frac{3}{5}$ 이다. 이때 집에서 학교까지 갈 때에는 버스를, 학교에서 집까지 올 때에는 지하철을 이용할 확률은

$$\frac{2}{5} \times \frac{3}{5} = \frac{6}{25}$$

● 연속하여 뽑을 때의 확률

(1) 꺼낸 것을 다시 넣는 경우

→ (처음에 뽑을 때의 조건) $=$ (나중에 뽑을 때의 조건)

(2) 꺼낸 것을 다시 넣지 않는 경우

→ (처음에 뽑을 때의 조건) \neq (나중에 뽑을 때의 조건)

- 1 서로 다른 세 개의 동전을 동시에 던질 때, 뒷면이 한 개 나올 확률을 구하시오.
- 2 0, 1, 2, 3의 숫자가 각각 적힌 4장의 카드 중에서 임의로 2장을 뽑아 만들 수 있는 두 자리의 자연수 중에서 홀수가 나올 확률을 구하시오.
- 3 어떤 사건 A 가 일어날 확률을 p , 일어나지 않을 확률을 q 라 할 때, 다음 중 옳지 않은 것은?
 - ① $0 \leq p \leq 1$ ② $0 \leq q \leq 1$
 - ③ $p+q=1$ ④ $p=1-q$
 - ⑤ $q=0$ 이면 사건 A 는 절대로 일어나지 않는다.
- 4 10개의 제비 중 당첨 제비가 3개 있다. 이 중에서 임의로 1개의 제비를 뽑을 때, 당첨 제비가 아닐 확률을 구하시오.
- 5 서로 다른 두 개의 주사위를 동시에 던질 때, 적어도 한 개의 주사위에서 짝수의 눈이 나올 확률을 구하시오.
- 6 1에서 12까지의 숫자가 각각 적힌 12장의 카드에서 임의로 한 장의 카드를 뽑을 때, 3의 배수이거나 5의 배수일 확률을 구하시오.
- 7 흰 공 3개, 검은 공 4개가 들어 있는 주머니에서 차례로 1개씩 두 개의 공을 임의로 꺼낼 때, 처음에는 흰 공, 두 번째는 검은 공을 꺼낼 확률을 구하시오.
(단, 꺼낸 공은 다시 넣지 않는다.)
- 8 A 주머니에는 흰 공 2개와 검은 공 4개, B 주머니에는 흰 공 3개와 검은 공 2개가 들어 있다. A, B 두 주머니에서 각각 공을 1개씩 임의로 꺼낼 때, 서로 같은 색의 공을 꺼낼 확률을 구하시오.
- 9 4발을 쏘아 3발을 명중시키는 선수가 있다. 이 선수가 2발을 쏘았을 때, 두 발 중 적어도 한 발을 명중시킬 확률을 구하시오.
- 10 어떤 문제를 A가 풀 확률은 $\frac{3}{4}$, B가 풀 확률은 $\frac{2}{3}$ 라 할 때, 두 사람 중 적어도 한 사람이 문제를 풀 확률을 구하시오.

정답과 해설

소단원별 기출 문제	88
중단원 테스트	98
핵심 정리 & 핵심 테스트	111

소단원별 기출 문제

1. 삼각형의 성질

01 이등변삼각형의 성질

p.2

- 01 ⑤ 02 ② 03 34° 04 ① 05 95°
06 6 cm

- 01** ① 이등변삼각형의 두 밑각의 크기는 서로 같으므로
 $\angle B = \angle C = 60^\circ$
 ②, ③ 이등변삼각형의 꼭지각의 이등분선은 밑변을 수직이
 등분한다.
 ④ 두 밑각의 크기가 60° 이므로 $\triangle ABC$ 는 정삼각형이다.
 $\therefore \overline{AC} = \overline{BC} = 2\overline{DC} = 10$ (cm)
 ⑤ $\angle BAD = \frac{1}{2}\angle BAC = \frac{1}{2} \times 60^\circ = 30^\circ$
- 02** $\triangle BCD$ 는 $\overline{BC} = \overline{BD}$ 이므로
 $\angle C = \angle BDC = 68^\circ$
 이때 $\angle DBC = 180^\circ - (68^\circ + 68^\circ) = 44^\circ$ 이고, $\triangle ABC$ 는
 $\overline{AB} = \overline{AC}$ 이므로
 $\angle ABC = \angle C = 68^\circ$
 $\therefore \angle x = \angle ABC - \angle DBC$
 $= 68^\circ - 44^\circ = 24^\circ$
- 03** $\angle B = \angle x$ 라 하면
 $\triangle DBC$ 에서 $\overline{DB} = \overline{DC}$ 이므로
 $\angle DCB = \angle B = \angle x$
 $\therefore \angle ADC = \angle B + \angle DCB$
 $= \angle x + \angle x = 2\angle x$
 $\triangle CAD$ 에서 $\overline{CA} = \overline{CD}$ 이므로
 $\angle A = \angle ADC = 2\angle x$
 $\triangle ABC$ 에서
 $\angle ACE = \angle A + \angle B$
 $= 2\angle x + \angle x = 3\angle x$
 따라서 $3\angle x = 102^\circ$ 이므로 $\angle x = 34^\circ$
- 04** $\triangle ABC$ 는 $\overline{AB} = \overline{AC}$ 이므로
 $\angle ABC = \angle ACB = \frac{1}{2} \times (180^\circ - 44^\circ) = 68^\circ$
 $\therefore \angle DBC = \frac{1}{2}\angle ABC = \frac{1}{2} \times 68^\circ = 34^\circ$
 이때 $\angle ACD = \frac{1}{2}\angle ACE = \frac{1}{2} \times (180^\circ - 68^\circ) = 56^\circ$ 이므로
 $\triangle DBC$ 에서
 $\angle x = 180^\circ - (34^\circ + 68^\circ + 56^\circ)$
 $= 22^\circ$

05 \overline{AD} 는 이등변삼각형 ABC 의 꼭지각의 이등분선이므로 $\overline{AD} \perp \overline{BC}$, $\overline{BD} = \overline{CD}$ 이다.
 즉 $\angle ADB = 90^\circ$ 이므로 $\triangle ABD$ 에서
 $\angle x = 180^\circ - (25^\circ + 30^\circ + 90^\circ) = 35^\circ$
 $\triangle PBD$ 와 $\triangle PCD$ 에서
 $\overline{BD} = \overline{CD}$, $\angle PDB = \angle PDC = 90^\circ$, \overline{PD} 는 공통이므로
 $\triangle PBD \cong \triangle PCD$ (SAS 합동)
 $\therefore \angle PCD = \angle PBD = 30^\circ$
 $\triangle PDC$ 에서
 $\angle y = 180^\circ - (90^\circ + 30^\circ) = 60^\circ$
 $\therefore \angle x + \angle y = 35^\circ + 60^\circ = 95^\circ$

06 $\angle ABC = \angle CBD$ (접은 각),
 $\angle ACB = \angle CBD$ (엇각)이므로
 $\angle ABC = \angle ACB$
 즉 $\triangle ABC$ 는 $\overline{AB} = \overline{AC}$ 인 이등변삼각형이다.
 $\therefore \overline{AB} = \overline{AC} = 6 \text{ cm}$

02 직각삼각형의 합동 조건 p.3

01 ①	02 ㉠과 ㉡, ㉢과 ㉣	03 ⑤	04 12
05 22.5°			

01 ① 180°
02 ㉠과 ㉡에서
 $\angle C = \angle H = 90^\circ$, $\overline{AB} = \overline{GI} = 5$,
 $\angle I = 180^\circ - (60^\circ + 90^\circ) = 30^\circ$ 이므로
 $\angle B = \angle I$
 $\therefore \triangle ABC \cong \triangle GIH$ (RHA 합동)
 ㉢과 ㉣에서
 $\angle E = \angle J = 90^\circ$, $\overline{DF} = \overline{KL} = 5$,
 $\overline{DE} = \overline{KJ} = 3$
 $\therefore \triangle DEF \cong \triangle KJL$ (RHS 합동)
03 ① RHS 합동
 ② RHS 합동
 ③ $\angle B = \angle E$ 이므로 ASA 합동
 ④ RHA 합동
04 $\triangle ADB$ 와 $\triangle CEA$ 에서
 $\angle ADB = \angle CEA = 90^\circ$, $\overline{AB} = \overline{CA}$,
 $\angle DBA = 90^\circ - \angle DAB = \angle EAC$ 이므로
 $\triangle ADB \cong \triangle CEA$ (RHA 합동)
 따라서 $\overline{AE} = \overline{BD} = 15$ 이므로
 $\overline{CE} = \overline{AD} = 27 - 15 = 12$

05 $\triangle ABD$ 와 $\triangle AED$ 에서
 $\angle B = \angle AED = 90^\circ$, \overline{AD} 는 공통, $\overline{AB} = \overline{AE}$ 이므로
 $\triangle ABD \cong \triangle AED$ (RHS 합동)
 이때 $\angle BAC = 45^\circ$, $\angle BAD = \angle EAD$ 이므로
 $\angle BAD = \frac{1}{2} \angle BAC = \frac{1}{2} \times 45^\circ = 22.5^\circ$

03 삼각형의 외심 p.4

01 ①, ⑤	02 5 cm	03 20°	04 ①	05 174°
06 60°				

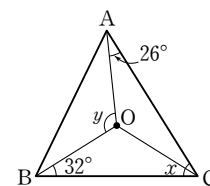
01 ① $\overline{OA} = \overline{OB} = \overline{OC}$
 ⑤ $\triangle OAM$ 과 $\triangle OBM$ 에서
 $\overline{AM} = \overline{BM}$, $\angle OMA = \angle OMB$, \overline{OM} 은 공통이므로
 $\triangle OAM \cong \triangle OBM$ (SAS 합동)
 따라서 옳은 것은 ①, ⑤이다.

02 $\overline{OA} = \overline{OB} = \overline{OC} = \frac{1}{2} \overline{BC} = \frac{1}{2} \times 10 = 5 \text{ (cm)}$

03 $60^\circ + 10^\circ + \angle x = 90^\circ \quad \therefore \angle x = 20^\circ$

04 $\overline{OA} = \overline{OC}$ 이므로
 $\angle OAC = \angle OCA = 36^\circ$
 $\angle BAC = \angle BAO + \angle OAC$
 $= 26^\circ + 36^\circ = 62^\circ$
 $\therefore \angle x = 2 \angle BAC = 2 \times 62^\circ = 124^\circ$

05 오른쪽 그림과 같이 \overline{OC} 를 그으면
 $\overline{OA} = \overline{OB} = \overline{OC}$ 이므로
 $\triangle OAC$ 에서
 $\angle OCA = \angle OAC = 26^\circ$
 $\triangle OBC$ 에서
 $\angle OCB = \angle OBC = 32^\circ$
 $\angle x = \angle OCA + \angle OCB$
 $= 26^\circ + 32^\circ = 58^\circ$
 $\angle y = 2 \angle x = 2 \times 58^\circ = 116^\circ$
 $\therefore \angle x + \angle y = 58^\circ + 116^\circ = 174^\circ$



06 $\angle AOB + \angle BOC + \angle COA = 360^\circ$ 이고
 $\angle AOB : \angle BOC : \angle COA = 4 : 6 : 5$ 이므로
 $\angle COA = 360^\circ \times \frac{5}{4+6+5} = 120^\circ$
 $\therefore \angle ABC = \frac{1}{2} \angle COA = \frac{1}{2} \times 120^\circ = 60^\circ$

04 삼각형의 내심

p.5

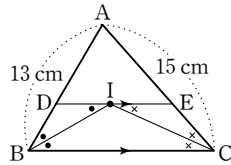
- 01 ⑤ 02 ③ 03 28 cm 04 22 cm 05 ②
 06 (1) 2 cm (2) $(24 - 4\pi) \text{ cm}^2$

01 $34^\circ + 20^\circ + \angle ICA = 90^\circ$ 에서 $\angle ICA = 36^\circ$
 $\therefore \angle ICB = \angle ICA = 36^\circ$

02 $\angle BAC = 2\angle IAC = 2 \times 42^\circ = 84^\circ$
 $\therefore \angle x = 90^\circ + \frac{1}{2}\angle BAC$
 $= 90^\circ + \frac{1}{2} \times 84^\circ = 132^\circ$

03 점 I는 $\triangle ABC$ 의 내심이므로

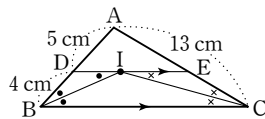
$\angle DBI = \angle IBC$
 또 $\overline{DE} \parallel \overline{BC}$ 이므로
 $\angle IBC = \angle DIB$ (엇각)
 $\therefore \angle DBI = \angle IBC = \angle DIB$



같은 방법으로
 $\angle ECI = \angle ICB = \angle EIC$
 즉 $\triangle DBI, \triangle EIC$ 는 각각 이등변삼각형이므로
 $\overline{DI} = \overline{DB}, \overline{EI} = \overline{EC}$

$\therefore (\triangle ADE \text{의 둘레의 길이})$
 $= \overline{AD} + \overline{DE} + \overline{EA}$
 $= \overline{AD} + (\overline{DI} + \overline{EI}) + \overline{EA}$
 $= (\overline{AD} + \overline{DB}) + (\overline{EC} + \overline{EA})$
 $= \overline{AB} + \overline{AC}$
 $= 13 + 15$
 $= 28 \text{ (cm)}$

04 오른쪽 그림과 같이 \overline{IC} 를 그으면 점 I는 $\triangle ABC$ 의 내심이므로



$\angle DBI = \angle IBC$
 또 $\overline{DE} \parallel \overline{BC}$ 이므로
 $\angle IBC = \angle DIB$ (엇각)
 $\therefore \angle DBI = \angle IBC = \angle DIB$

같은 방법으로
 $\angle ECI = \angle ICB = \angle EIC$
 즉 $\triangle DBI, \triangle EIC$ 는 각각 이등변삼각형이므로
 $\overline{DI} = \overline{DB}, \overline{EI} = \overline{EC}$

$\therefore (\triangle ADE \text{의 둘레의 길이})$
 $= \overline{AD} + \overline{DE} + \overline{EA}$
 $= \overline{AD} + (\overline{DI} + \overline{EI}) + \overline{EA}$
 $= (\overline{AD} + \overline{DB}) + (\overline{EC} + \overline{EA})$
 $= \overline{AD} + \overline{DB} + \overline{AC}$
 $= 5 + 4 + 13$
 $= 22 \text{ (cm)}$

05 $\overline{BE} = \overline{BD} = 5 \text{ cm}$ 이므로
 $\overline{EC} = \overline{BC} - \overline{BE} = 11 - 5 = 6 \text{ (cm)}$
 따라서 $\overline{AF} = \overline{AD} = 3 \text{ cm}, \overline{CF} = \overline{CE} = 6 \text{ cm}$ 이므로
 $\overline{AC} = \overline{AF} + \overline{CF} = 3 + 6 = 9 \text{ (cm)}$

06 (1) 내접원의 반지름의 길이를 $r \text{ cm}$ 라 하면
 $\frac{1}{2} \times 8 \times 6 = \frac{1}{2} \times r \times (10 + 8 + 6) \quad \therefore r = 2$
 따라서 내접원의 반지름의 길이는 2 cm이다.
 (2) (어두운 부분의 넓이) $= \frac{1}{2} \times 8 \times 6 - \pi \times 2^2$
 $= 24 - 4\pi \text{ (cm}^2\text{)}$

2. 사각형의 성질

01 평행사변형

p.6

- 01 22 02 ④ 03 5 cm 04 4 cm 05 ④
 06 ④ 07 ③

01 $2x + 3 = 3x - 4$ 에서 $x = 7$
 $\therefore \overline{AD} = \overline{BC} = 3 \times 7 + 1 = 22$

02 $\angle B + \angle C = 180^\circ$ 이고 $\angle B : \angle C = 2 : 3$ 이므로
 $\angle C = 180^\circ \times \frac{3}{2+3} = 108^\circ$
 $\therefore \angle A = \angle C = 108^\circ$

03 $\triangle ABE$ 와 $\triangle FCE$ 에서
 $\overline{BE} = \overline{CE}, \angle BEA = \angle CEF$ (맞꼭지각),
 $\angle ABE = \angle FCE$ (엇각)이므로
 $\triangle ABE \cong \triangle FCE$ (ASA 합동)
 $\therefore \overline{CF} = \overline{BA} = \overline{CD} = 5 \text{ cm}$

04 $\angle ADE = \angle CDE$ 이고 $\angle DEC = \angle ADE$ (엇각)이므로
 $\angle CDE = \angle DEC$
 즉 $\triangle CDE$ 는 $\overline{CD} = \overline{CE}$ 인 이등변삼각형이다.
 $\overline{CE} = \overline{CD} = \overline{AB} = 7 \text{ cm}$ 이고
 $\overline{BC} = \overline{AD} = 11 \text{ cm}$ 이므로
 $\overline{BE} = \overline{BC} - \overline{CE} = 11 - 7 = 4 \text{ (cm)}$

05 ④ $\overline{AD} \parallel \overline{BC}$

06 $\triangle PAB + \triangle PCD = \frac{1}{2} \square ABCD$ 이므로
 $14 + \triangle PCD = \frac{1}{2} \times 60$
 $\therefore \triangle PCD = 16 \text{ (cm}^2\text{)}$

07 ③ $\overline{AB} \parallel \overline{DC}, \overline{AB} = \overline{DC}$ 또는 $\overline{AD} \parallel \overline{BC}, \overline{AD} = \overline{BC}$ 이어야
 $\square ABCD$ 가 평행사변형이 된다.

02 여러 가지 사각형

p.7

- 01 ④ 02 ③ 03 ② 04 ① 05 71°
06 ①

02 $\triangle BED$ 는 $\overline{BE} = \overline{DE}$ 인 이등변삼각형이므로
 $\angle DBE = \angle BDE$
 또 $\overline{AD} \parallel \overline{BC}$ 이므로 $\angle ADB = \angle DBE$ (엇각)
 즉 $\angle ADB = \angle BDE = \angle EDC = \frac{1}{3} \times 90^\circ = 30^\circ$ 이므로
 $\triangle DEC$ 에서
 $\angle DEC = 180^\circ - (30^\circ + 90^\circ) = 60^\circ$

03 $\angle AOD = 90^\circ$ 이므로
 $\triangle AOD$ 에서
 $\angle DAO = 180^\circ - (90^\circ + 32^\circ) = 58^\circ$
 이때 $\overline{AD} \parallel \overline{BC}$ 이므로
 $\angle BCA = \angle DAO = 58^\circ$ (엇각)

05 $\overline{AB} = \overline{AD} = \overline{AE}$ 이므로 $\triangle ABE$ 는 $\overline{AB} = \overline{AE}$ 인 이등변삼각형이다.
 따라서 $\angle EAB = 180^\circ - (26^\circ + 26^\circ) = 128^\circ$ 이므로
 $\angle EAD = 128^\circ - 90^\circ = 38^\circ$
 이때 $\triangle ADE$ 는 $\overline{AD} = \overline{AE}$ 인 이등변삼각형이므로
 $\angle FDE = \frac{1}{2} \times (180^\circ - 38^\circ) = 71^\circ$

06 ② \overline{AC} 의 길이는 알 수 없다.
 ③ $\angle BAD = 180^\circ - 80^\circ = 100^\circ$
 ④ $\overline{AC} \perp \overline{BD}$ 인지는 알 수 없다.
 ⑤ $\triangle ABO \cong \triangle DCO$
 따라서 옳은 것은 ①이다.

03 여러 가지 사각형 사이의 관계

p.8

- 01 ③ 02 ⑤
03 (1) ㉠, ㉡, ㉢, ㉣ (2) ㉠, ㉡, ㉢ (3) ㉢, ㉣ (4) ㉣ 04 ④

01 ③ (나) $\overline{AB} = \overline{BC}$ 또는 $\overline{AC} \perp \overline{BD}$

04 ④ 평행사변형 \rightarrow 평행사변형

04 평행선과 넓이

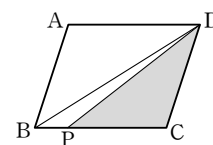
p.9

- 01 45 cm² 02 ③ 03 ② 04 ④ 05 ⑤
06 $\frac{196}{3}$ cm²

01 $\overline{AD} \parallel \overline{BC}$ 이므로 $\triangle ABD = \triangle ACD$
 $\triangle DOC = \triangle ACD - \triangle AOD$
 $= \triangle ABD - \triangle AOD = \triangle ABO$
 $\triangle ABO : \triangle AOD = \overline{BO} : \overline{OD} = 3 : 2$ 이므로
 $\triangle ABO : 30 = 3 : 2 \quad \therefore \triangle ABO = 45 \text{ (cm}^2\text{)}$
 $\therefore \triangle DOC = \triangle ABO = 45 \text{ cm}^2$

02 $\square ABCD = \triangle ABC + \triangle ACD$
 $= \triangle ABC + \triangle ACE$
 $= \triangle ABE$
 $= \frac{1}{2} \times (5+7) \times 8 = 48 \text{ (cm}^2\text{)}$

03 오른쪽 그림과 같이 \overline{BD} 를 그으면
 $\triangle DBC = \frac{1}{2} \square ABCD$
 $= \frac{1}{2} \times 40 = 20 \text{ (cm}^2\text{)}$
 이때 $\triangle DBP : \triangle DPC = \overline{BP} : \overline{PC} = 1 : 3$ 이므로
 $\triangle DPC = \frac{3}{4} \triangle DBC = \frac{3}{4} \times 20 = 15 \text{ (cm}^2\text{)}$



04 $\triangle BOF \cong \triangle DOE$ (ASA 합동)이므로
 $\triangle BOF = \triangle DOE$
 $\square ABFE = \triangle ABD = \frac{1}{2} \square ABCD$ 이므로
 $\square ABCD = 2 \square ABFE$
 $= 2 \times 24 = 48 \text{ (cm}^2\text{)}$
 $\therefore \triangle DOC = \frac{1}{4} \square ABCD$
 $= \frac{1}{4} \times 48 = 12 \text{ (cm}^2\text{)}$

05 $\square ADEF = \triangle DEF + \triangle ADF$
 $= \triangle DEF + \triangle DFC$
 $= \triangle DEC$
 이때 $\triangle DBE : \triangle DEC = \overline{BE} : \overline{EC} = 2 : 3$ 이므로
 $16 : \triangle DEC = 2 : 3 \quad \therefore \triangle DEC = 24 \text{ (cm}^2\text{)}$

06 $\triangle AOD : \triangle DOC = \overline{OA} : \overline{OC} = 3 : 4$ 이므로
 $12 : \triangle DOC = 3 : 4 \quad \therefore \triangle DOC = 16 \text{ (cm}^2\text{)}$
 이때 $\triangle ABO = \triangle DOC = 16 \text{ cm}^2$ 이고
 $\triangle ABO : \triangle OBC = \overline{OA} : \overline{OC} = 3 : 4$ 이므로
 $16 : \triangle OBC = 3 : 4 \quad \therefore \triangle OBC = \frac{64}{3} \text{ (cm}^2\text{)}$
 $\therefore \square ABCD = \triangle AOD + \triangle ABO + \triangle OBC + \triangle DOC$
 $= 12 + 16 + \frac{64}{3} + 16$
 $= \frac{196}{3} \text{ (cm}^2\text{)}$

3. 도형의 닮음

01 닮음의 뜻과 성질

p.10

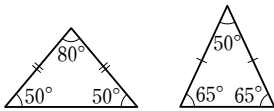
- 01 ③ 02 ④ 03 44
04 (1) 면 MNOP (2) 2 : 3 (3) 12 cm 05 ⑤

- 02 ① $\overline{DC} : \overline{HG} = 2 : 3$
 ② $\angle G = \angle C = 70^\circ$ 이므로 $\square EFGH$ 에서
 $\angle H = 360^\circ - (125^\circ + 75^\circ + 70^\circ) = 90^\circ$
 ③ $2 : 3 = 3 : \overline{FG}$ 에서 $\overline{FG} = \frac{9}{2}$ (cm)
 ④ $2 : 3 = \overline{DC} : 4$ 에서 $\overline{DC} = \frac{8}{3}$ (cm)
 ⑤ $\square ABCD$ 와 $\square EFGH$ 의 닮음비는 2 : 3이다.
 따라서 옳은 것은 ④이다.

- 03 두 삼각기둥의 닮음비는 $\overline{AC} : \overline{A'C'} = 8 : 12 = 2 : 3$
 $6 : x = 2 : 3$ 에서 $x = 9$
 $10 : y = 2 : 3$ 에서 $y = 15$
 $z : 30 = 2 : 3$ 에서 $z = 20$
 $\therefore x + y + z = 9 + 15 + 20 = 44$

- 04 (2) $\overline{NO} = \overline{IL} = 18$ cm이므로 두 직육면체의 닮음비는
 $\overline{FG} : \overline{NO} = 12 : 18 = 2 : 3$
 (3) $8 : \overline{OP} = 2 : 3$ 에서 $\overline{OP} = 12$ (cm)

- 05 ⑤



02 삼각형의 닮음 조건

p.11

- 01 (1)과 (6) : SSS 닮음, (2)와 (4) : AA 닮음, (3)과 (5) : SAS 닮음
 02 ① 03 $\frac{16}{5}$ 04 $\frac{14}{3}$ cm 05 ⑤ 06 $\frac{42}{5}$

- 02 ① AA 닮음
 03 $\triangle ABC$ 와 $\triangle DAC$ 에서
 $\angle C$ 는 공통, $\angle B = \angle CAD$ 이므로
 $\triangle ABC \sim \triangle DAC$ (AA 닮음)
 즉 $4 : x = 5 : 4$ 에서 $x = \frac{16}{5}$
 04 $\triangle ABC$ 와 $\triangle BDC$ 에서
 $\angle C$ 는 공통,
 $\overline{BC} : \overline{DC} = 6 : 4 = 3 : 2$
 $\overline{AC} : \overline{BC} = 9 : 6 = 3 : 2$ 이므로
 $\triangle ABC \sim \triangle BDC$ (SAS 닮음)
 즉 $7 : \overline{BD} = 3 : 2$ 에서 $\overline{BD} = \frac{14}{3}$ (cm)

- 05 (i) $\triangle ABC$ 와 $\triangle FDC$ 에서
 $\angle C$ 는 공통, $\angle ABC = \angle FDC = 90^\circ$ 이므로
 $\triangle ABC \sim \triangle FDC$ (AA 닮음)
 (ii) $\triangle ABC$ 와 $\triangle ADE$ 에서
 $\angle A$ 는 공통, $\angle ABC = \angle ADE = 90^\circ$ 이므로
 $\triangle ABC \sim \triangle ADE$ (AA 닮음)
 (iii) $\triangle FDC$ 와 $\triangle FBE$ 에서
 $\angle F$ 는 공통, $\angle FDC = \angle FBE = 90^\circ$ 이므로
 $\triangle FDC \sim \triangle FBE$ (AA 닮음)
 (i), (ii), (iii)에 의하여
 $\triangle ABC \sim \triangle FDC \sim \triangle FBE \sim \triangle ADE$ (AA 닮음)
 ⑤ 서로 닮음인 직각삼각형은 모두 4개이다.

- 06 $6^2 = x \times 10$ 에서 $x = \frac{18}{5}$
 $8 \times 6 = 10 \times y$ 에서 $y = \frac{24}{5}$
 $\therefore x + y = \frac{18}{5} + \frac{24}{5} = \frac{42}{5}$

4. 닮음의 응용

01 삼각형과 평행선

p.12

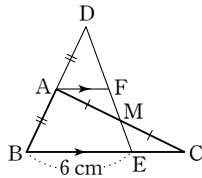
- 01 10 02 ④ 03 28 cm 04 ① 05 3 cm
06 2 cm

- 01 $x : 9 = 8 : 12$ 에서 $x = 6$
 $(12 - y) : 12 = 8 : 12$ 에서 $y = 4$
 $\therefore x + y = 6 + 4 = 10$
 02 ① $\overline{AD} : \overline{AB} = 3 : (3 + 8) = 3 : 11$ 이고
 $\overline{AE} : \overline{AC} = 2 : (2 + 6) = 2 : 8 = 1 : 4$ 이므로
 $\overline{AD} : \overline{AB} \neq \overline{AE} : \overline{AC}$
 ② $\overline{AD} : \overline{AB} = 4 : 8 = 1 : 2$ 이고
 $\overline{DE} : \overline{BC} = 5 : 9$ 이므로
 $\overline{AD} : \overline{AB} \neq \overline{DE} : \overline{BC}$
 ③ $\overline{AD} : \overline{AB} = 5 : (5 + 2) = 5 : 7$ 이고
 $\overline{DE} : \overline{BC} = 6 : 9 = 2 : 3$ 이므로
 $\overline{AD} : \overline{AB} \neq \overline{DE} : \overline{BC}$
 ④ $\overline{AD} : \overline{AB} = 12 : (12 + 4) = 12 : 16 = 3 : 4$ 이고
 $\overline{AE} : \overline{AC} = 9 : 12 = 3 : 4$ 이므로
 $\overline{AD} : \overline{AB} = \overline{AE} : \overline{AC} \quad \therefore \overline{BC} \parallel \overline{DE}$
 ⑤ 알 수 없다.
 따라서 $\overline{BC} \parallel \overline{DE}$ 인 것은 ④이다.

03 $\overline{AB}=2\overline{FE}$, $\overline{BC}=2\overline{DF}$, $\overline{CA}=2\overline{ED}$ 이므로
 ($\triangle ABC$ 의 둘레의 길이) $=\overline{AB}+\overline{BC}+\overline{CA}$
 $=2\overline{FE}+2\overline{DF}+2\overline{ED}$
 $=2(\overline{FE}+\overline{DF}+\overline{ED})$
 $=2 \times 14=28$ (cm)

04 $\triangle ABF$ 에서 $\overline{AD}=\overline{DB}$, $\overline{AE}=\overline{EF}$ 이므로
 $\overline{DE}=\frac{1}{2}\overline{BF}$, $\overline{DE}\parallel\overline{BF}$
 $\triangle CED$ 에서 $\overline{CF}=\overline{FE}$ 이고 $\overline{DE}\parallel\overline{MF}$ 이므로
 $\overline{DE}=2\overline{MF}$
 즉 $\frac{1}{2}\overline{BF}=2\overline{MF}$ 이므로 $\frac{1}{2}(21+\overline{MF})=2\overline{MF}$
 $21+\overline{MF}=4\overline{MF}$, $3\overline{MF}=21$ $\therefore \overline{MF}=7$ (cm)

05 오른쪽 그림과 같이 점 A에서 \overline{BC} 에 평행한 직선을 그어 \overline{DE} 와 만나는 점을 F라 하면
 $\triangle DBE$ 에서
 $\overline{DA}=\overline{AB}$, $\overline{AF}\parallel\overline{BE}$ 이므로
 $\overline{AF}=\frac{1}{2}\overline{BE}=\frac{1}{2} \times 6=3$ (cm)
 이때 $\triangle AMF \equiv \triangle CME$ (ASA 합동)이므로
 $\overline{EC}=\overline{FA}=3$ cm



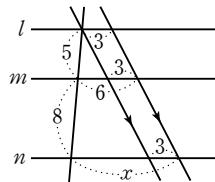
06 $\overline{AB}:\overline{AC}=\overline{BD}:\overline{CD}$ 에서
 $3:\overline{AC}=(2+4):4$ $\therefore \overline{AC}=2$ (cm)

02 평행선과 선분의 길이의 비 p.13

- 01** ④ **02** ④ **03** 11 **04** 4 **05** $\frac{45}{8}$
06 ①

01 $2:x=3:6$ $\therefore x=4$
 $(2+x):6=(3+6):y$ 에서
 $6:6=9:y$ $\therefore y=9$
 $\therefore x+y=4+9=13$

02 $5:(5+8)=3:(x-3)$
 $\therefore x=\frac{54}{5}$



03 $x=2\overline{PN}=2 \times 3=6$
 $y=\frac{1}{2}\overline{BC}=\frac{1}{2} \times 10=5$
 $\therefore x+y=6+5=11$

04 $\overline{EM}=\frac{1}{2}\overline{AD}=\frac{1}{2} \times 4=2$ $\therefore x=2$
 $\overline{EN}=\frac{1}{2}\overline{BC}=\frac{1}{2} \times 8=4$ 이므로
 $\overline{MN}=\overline{EN}-\overline{EM}=4-2=2$ $\therefore y=2$
 $\therefore xy=2 \times 2=4$

05 $\triangle ABE \sim \triangle CDE$ (AA 닮음)이므로
 $\overline{BE}:\overline{DE}=\overline{AB}:\overline{CD}=9:15=3:5$
 $\therefore \overline{BE}:\overline{BD}=3:(3+5)=3:8$
 $\overline{EF}:\overline{DC}=\overline{BE}:\overline{BD}$ 에서
 $x:15=3:8$ $\therefore x=\frac{45}{8}$

06 $\triangle ABC$ 에서
 $\overline{CF}:\overline{CB}=\overline{EF}:\overline{AB}$ 이므로
 $14:(14+y)=4:6$ $\therefore y=7$
 $\triangle BCD$ 에서
 $\overline{BF}:\overline{BC}=\overline{EF}:\overline{DC}$ 이므로
 $7:(7+14)=4:x$ $\therefore x=12$
 $\therefore x-y=12-7=5$

03 삼각형의 중선과 무게중심

p.14

- 01** 14 **02** $\frac{20}{3}$ cm **03** $\frac{8}{3}$ cm **04** 6 cm **05** 18 cm²
06 ①

01 $x=2\overline{BD}=2 \times 4=8$
 $y=2\overline{GD}=2 \times 3=6$
 $\therefore x+y=8+6=14$

02 점 D는 빗변의 중점이므로 직각삼각형 ABC의 외심이다.
 $\overline{DB}=\overline{DA}=\overline{DC}=\frac{1}{2}\overline{AC}=\frac{1}{2} \times 20=10$ (cm)
 $\therefore \overline{BG}=\frac{2}{3}\overline{DB}=\frac{2}{3} \times 10=\frac{20}{3}$ (cm)

03 점 G가 $\triangle ABC$ 의 무게중심이므로
 $\overline{GD}=\frac{1}{3}\overline{AD}=\frac{1}{3} \times 12=4$ (cm)
 또 점 G'이 $\triangle GBC$ 의 무게중심이므로
 $\overline{GG'}=\frac{2}{3}\overline{GD}=\frac{2}{3} \times 4=\frac{8}{3}$ (cm)

04 $\overline{MD}=\frac{1}{2}\overline{BD}=\frac{1}{2} \times 8=4$ (cm)
 $\overline{DN}=\overline{NC}=5$ cm이므로
 $\overline{MN}=\overline{MD}+\overline{DN}=4+5=9$ (cm)
 한편, $\overline{AG}:\overline{GM}=\overline{AG'}:\overline{G'N}=2:1$ 이므로
 $\overline{AG}:\overline{AM}=\overline{GG'}:\overline{MN}$ 에서
 $2:3=\overline{GG'}:9$ $\therefore \overline{GG'}=6$ (cm)

05 $\overline{AG} : \overline{GD} = 2 : 1$ 이므로
 $\triangle AGF : 2 = 2 : 1 \quad \therefore \triangle AGF = 4 \text{ (cm}^2\text{)}$
 한편, $\triangle ADC$ 에서 $\overline{GF} \parallel \overline{DC}$ 이므로
 $\overline{AF} : \overline{FC} = \overline{AG} : \overline{GD} = 2 : 1$
 즉 $\triangle ADF : \triangle FDC = 2 : 1$ 에서
 $(4+2) : \triangle FDC = 2 : 1 \quad \therefore \triangle FDC = 3 \text{ (cm}^2\text{)}$
 이때
 $\triangle ADC = \triangle ADF + \triangle FDC = 6 + 3 = 9 \text{ (cm}^2\text{)}$ 이므로
 $\triangle ABC = 2\triangle ADC = 2 \times 9 = 18 \text{ (cm}^2\text{)}$

06 점 G'이 $\triangle GBC$ 의 무게중심이므로
 $\triangle GBG' = \frac{1}{3} \triangle GBC$
 또 점 G가 $\triangle ABC$ 의 무게중심이므로
 $\triangle GBG' = \frac{1}{3} \triangle GBC = \frac{1}{3} \times \frac{1}{3} \triangle ABC$
 $= \frac{1}{9} \triangle ABC = \frac{1}{9} \times 90 = 10 \text{ (cm}^2\text{)}$

04 **같은 도형의 넓이의 비와 부피의 비** p.15

- 01** (1) 24 cm^2 (2) 192 cm^3 **02** ④ **03** 48 cm^2 **04** $25 : 16$
05 70분 **06** 45000 m^2

01 (1) 두 삼각기둥의 **넓음비**가 $1 : 2$ 이므로 **넓이의 비**는 $1^2 : 2^2$ 이다.
 즉 $6 : \triangle A'B'C' = 1 : 4$ 에서 $\triangle A'B'C' = 24 \text{ (cm}^2\text{)}$
 (2) 두 삼각기둥의 **넓음비**가 $1 : 2$ 이므로 **부피의 비**는 $1^3 : 2^3$ 이다.
 즉 $24 : (\text{큰 삼각기둥의 부피}) = 1 : 8$ 에서
 (**큰 삼각기둥의 부피**) = $192 \text{ (cm}^3\text{)}$

02 $\triangle DBE \sim \triangle ABC$ (AA **넓음**)이고 **넓음비**가
 $\overline{BE} : \overline{BC} = 3 : (3+2) = 3 : 5$ 이므로
 $\triangle DBE : \triangle ABC = 3^2 : 5^2 = 9 : 25$
 즉 $18 : \triangle ABC = 9 : 25$ 에서 $\triangle ABC = 50 \text{ (cm}^2\text{)}$
 $\therefore \square ADEC = \triangle ABC - \triangle DBE$
 $= 50 - 18 = 32 \text{ (cm}^2\text{)}$

03 $\triangle ODA \sim \triangle OBC$ (AA **넓음**)이고 **넓음비**는
 $\overline{AD} : \overline{CB} = 3 : 4$ 이므로
 $\triangle ODA : \triangle OBC = 3^2 : 4^2 = 9 : 16$
 즉 $27 : \triangle OBC = 9 : 16$ 에서 $\triangle OBC = 48 \text{ (cm}^2\text{)}$

04 (P의 부피) : (Q의 부피) = $250 : 128 = 125 : 64 = 5^3 : 4^3$
 이므로
 (P의 **겉넓이**) : (Q의 **겉넓이**) = $5^2 : 4^2 = 25 : 16$

05 높이가 4 m인 원뿔의 부피와 높이가 8 m인 원뿔의 부피의
 비는
 $1^3 : 2^3 = 1 : 8$
 따라서 높이가 4 m인 원뿔의 부피와 더 채워야 할 물의 부피
 의 비는
 $1 : (8-1) = 1 : 7$
 이때 물을 가득 채우기 위해 더 필요한 시간을 x 분이라 하면
 $10 : x = 1 : 7 \quad \therefore x = 70$
 따라서 물을 가득 채우는데 70분이 더 걸린다.

06 $3 \text{ (cm)} \times 5000 = 15000 \text{ (cm)} = 150 \text{ (m)}$
 $6 \text{ (cm)} \times 5000 = 30000 \text{ (cm)} = 300 \text{ (m)}$
 따라서 땅의 실제 넓이는
 $150 \times 300 = 45000 \text{ (m}^2\text{)}$

5. 피타고라스 정리

01 **피타고라스 정리**

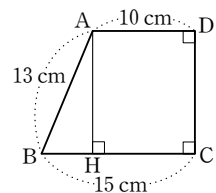
p.16

- 01** 3 **02** ② **03** ① **04** 4 cm **05** 25
06 34 cm^2

01 $x^2 = 5^2 - 4^2 = 9 = 3^2 \quad \therefore x = 3 (\because x > 0)$

02 $\triangle ABH$ 에서
 $\overline{AB}^2 = 6^2 + 5^2 = 61$
 $\triangle ACH$ 에서
 $\overline{AC}^2 = 4^2 + 5^2 = 41$
 $\therefore \overline{AB}^2 - \overline{AC}^2 = 61 - 41 = 20$

03 오른쪽 그림과 같이 점 A에서 \overline{BC} 에
 내린 수선의 발을 H라 하면
 $\overline{HC} = \overline{AD} = 10 \text{ cm}$ 이므로
 $\overline{BH} = \overline{BC} - \overline{HC} = 15 - 10 = 5 \text{ (cm)}$
 $\triangle ABH$ 에서
 $\overline{AH}^2 = 13^2 - 5^2 = 144 = 12^2$
 $\therefore \overline{AH} = 12 \text{ (cm)} (\because \overline{AH} > 0)$
 따라서 $\overline{CD} = \overline{AH} = 12 \text{ cm}$ 이므로
 사다리꼴 ABCD의 둘레의 길이는
 $13 + 15 + 12 + 10 = 50 \text{ (cm)}$



04 이등변삼각형의 꼭지각에서 밑변에 내린 수선은 밑변을 수직
 이등분하므로
 $\overline{BH} = \overline{CH} = \frac{1}{2} \overline{BC} = \frac{1}{2} \times 6 = 3 \text{ (cm)}$
 $\triangle ABH$ 에서
 $\overline{AH}^2 = 5^2 - 3^2 = 16 = 4^2$
 $\therefore \overline{AH} = 4 \text{ (cm)} (\because \overline{AH} > 0)$

05 □ACHI=□ADEB+□BFGC
=3²+4²=25

06 △AEH≡△BFE≡△CGF≡△DHG (SAS 합동)
이므로 □EFGH는 정사각형이다.
이때 △AEH에서
 $\overline{EH}^2=5^2+3^2=34$ 이므로
□EFGH= $\overline{EH}^2=34$ (cm²)

02 피타고라스 정리의 성질

p.17

- 01 ⑤ 02 25 03 30 04 ①, ④ 05 ③
06 16

01 ① $6^2 \neq 3^2 + 4^2$ ② $13^2 \neq 4^2 + 12^2$
③ $9^2 \neq 6^2 + 7^2$ ④ $14^2 \neq 7^2 + 8^2$
⑤ $17^2 = 8^2 + 15^2$
따라서 직각삼각형인 것은 ⑤이다.

02 가장 긴 변의 길이가 a이므로
 $a^2 = 7^2 + 24^2 = 625 = 25^2 \quad \therefore a = 25$ ($\because a > 0$)

03 $13^2 = 5^2 + 12^2$, 즉 $\overline{BC}^2 = \overline{AB}^2 + \overline{CA}^2$ 이므로 △ABC는
∠A=90°인 직각삼각형이다.
 $\therefore \triangle ABC = \frac{1}{2} \times \overline{AB} \times \overline{AC} = \frac{1}{2} \times 5 \times 12 = 30$

04 ① $3^2 < 1^2 + 3^2$ 이므로 예각삼각형이다.
② $3^2 > 2^2 + 2^2$ 이므로 둔각삼각형이다.
③ $5^2 > 2^2 + 4^2$ 이므로 둔각삼각형이다.
④ $7^2 < 5^2 + 6^2$ 이므로 예각삼각형이다.
⑤ $20^2 = 12^2 + 16^2$ 이므로 직각삼각형이다.
따라서 예각삼각형인 것은 ①, ④이다.

05 ① $x=3$ 일 때, $8^2 > 6^2 + 3^2$ 이므로 둔각삼각형이다.
② $x=5$ 일 때, $8^2 > 6^2 + 5^2$ 이므로 둔각삼각형이다.
③ $x=6$ 일 때, $8^2 < 6^2 + 6^2$ 이므로 예각삼각형이다.
④ $x=12$ 일 때, $12^2 > 6^2 + 8^2$ 이므로 둔각삼각형이다.
⑤ $x=13$ 일 때, $13^2 > 6^2 + 8^2$ 이므로 둔각삼각형이다.
따라서 x의 값이 될 수 없는 것은 ③이다.

06 a가 가장 긴 변의 길이이므로 삼각형의 세 변의 길이 사이의
관계에 의하여 $15 - 8 < a < 15 + 8 \quad \therefore 7 < a < 23$
이때 $a > 15$ 이므로 $15 < a < 23$ ㉠
예각삼각형이 되려면
 $a^2 < 15^2 + 8^2 \quad \therefore a^2 < 289$ ㉡
㉠, ㉡에서 자연수 a의 값은 16이다.

03 피타고라스 정리의 활용

p.18

- 01 31 02 33 03 ③ 04 ①
05 32π cm² 06 ⑤

01 $\overline{AE}^2 + \overline{DC}^2 = \overline{AC}^2 + \overline{DE}^2$ 에서
 $\overline{AE}^2 + 7^2 = 8^2 + 4^2 \quad \therefore \overline{AE}^2 = 31$

02 $\overline{AB}^2 + \overline{CD}^2 = \overline{AD}^2 + \overline{BC}^2$ 에서
 $4^2 + \overline{CD}^2 = \overline{AD}^2 + 7^2$
 $\therefore \overline{CD}^2 - \overline{AD}^2 = 7^2 - 4^2 = 33$

03 $\overline{PA}^2 + \overline{PC}^2 = \overline{PB}^2 + \overline{PD}^2$ 에서
 $6^2 + y^2 = 4^2 + x^2$
 $\therefore x^2 - y^2 = 6^2 - 4^2 = 20$

04 $S_1 + S_2 = S_3$ 이므로
 $S_1 + S_2 + S_3 = S_3 + S_3 = 2S_3 = 2 \times \left(\frac{1}{2} \times \pi \times 4^2\right)$
 $= 16\pi$ (cm²)

05 (어두운 부분의 넓이) = \overline{BC} 를 지름으로 하는 반원의 넓이
 $= \frac{1}{2} \times \pi \times 8^2 = 32\pi$ (cm²)

06 (어두운 부분의 넓이) = △ABC
 $= \frac{1}{2} \times 6 \times 8$
 $= 24$

6. 경우의 수

01 사건과 경우의 수

p.19

- 01 2 02 ③ 03 ⑤ 04 15 05 12
06 ⑤ 07 27

01 지불하는 동전의 개수를 순서쌍
(100원짜리 동전의 개수, 500원짜리 동전의 개수)로 나타내면
(5, 1), (0, 2)의 2가지

02 (i) 4의 배수가 적힌 카드가 나오는 경우는
4, 8, 12, 16, 20의 5가지
(ii) 10의 배수가 적힌 카드가 나오는 경우는
10, 20의 2가지
(iii) 4의 배수이면서 10의 배수가 적힌 카드가 나오는 경우는
20의 1가지
따라서 구하는 경우의 수는
 $5 + 2 - 1 = 6$

- 03** 두 눈의 수의 차가 2인 경우는 (1, 3), (2, 4), (3, 1), (3, 5), (4, 2), (4, 6), (5, 3), (6, 4)의 8가지
두 눈의 수의 차가 3인 경우는 (1, 4), (2, 5), (3, 6), (4, 1), (5, 2), (6, 3)의 6가지
따라서 구하는 경우의 수는
 $8+6=14$
- 04** 반죽을 고르는 경우의 수는 3이고, 그 각각의 경우에 대하여 소를 고르는 경우의 수는 5이다.
따라서 구하는 경우의 수는
 $3 \times 5 = 15$
- 05** (A 지점에서 B 지점으로 가는 방법의 수)
 \times (B 지점에서 C 지점으로 가는 방법의 수)
 $= 3 \times 4 = 12$
- 06** $2 \times 6^2 = 72$
- 07** $3 \times 3 \times 3 = 27$

02 여러 가지 경우의 수

p.20

- 01** ② **02** ④ **03** 12 **04** (1) 20 (2) 30 (3) 10
05 ② **06** 4 **07** 120

- 01** A, D를 제외한 3명의 학생을 한 줄로 세우는 경우의 수는
 $3 \times 2 \times 1 = 6$
이때 A, D가 양 끝에 서는 경우는 A□□□D, D□□□A
의 2가지
따라서 구하는 경우의 수는
 $6 \times 2 = 12$
- 02** 십의 자리에 올 수 있는 숫자는 0을 제외한 5가지,
일의 자리에 올 수 있는 숫자는 십의 자리에 놓인 숫자를 제외
한 5가지이다.
따라서 구하는 경우의 수는
 $5 \times 5 = 25$
- 03** (i) 3□인 경우 : 31, 32, 34, 35의 4개
(ii) 4□인 경우 : 41, 42, 43, 45의 4개
(iii) 5□인 경우 : 51, 52, 53, 54의 4개
따라서 구하는 자연수의 개수는
 $4+4+4=12$

- 04** (1) $5 \times 4 = 20$
(2) 5명 중에서 회장 1명을 뽑는 경우의 수는 5이고, 회장으로 뽑힌 1명을 제외한 나머지 4명 중에서 부회장 2명을 뽑는 경우의 수는
 $\frac{4 \times 3}{2 \times 1} = 6$
따라서 구하는 경우의 수는
 $5 \times 6 = 30$
(3) $\frac{5 \times 4 \times 3}{3 \times 2 \times 1} = 10$
- 05** 4명 중 자격이 같은 대표 2명을 뽑는 경우의 수와 같다.
따라서 구하는 경기의 수는
 $\frac{4 \times 3}{2 \times 1} = 6$
- 06** 4명 중 자격이 같은 대표 3명을 뽑는 경우의 수와 같다.
따라서 구하는 삼각형의 개수는
 $\frac{4 \times 3 \times 2}{3 \times 2 \times 1} = 4$
- 07** A → B → C → D → E의 순서로 색을 칠하면
A 부분에는 5가지, B 부분에는 4가지, C 부분에는 3가지, D
부분에는 2가지, E 부분에는 1가지를 칠할 수 있다.
따라서 구하는 경우의 수는
 $5 \times 4 \times 3 \times 2 \times 1 = 120$

7. 확률

01 확률의 뜻과 성질

p.21

- 01** $\frac{6}{25}$ **02** $\frac{2}{5}$ **03** ② **04** $\frac{3}{11}$ **05** ②
06 $\frac{17}{18}$ **07** ⑤

- 01** 신입생 300명 중 초콜릿 맛 아이스크림을 선호하는 학생은 72명이므로
(구하는 확률) $= \frac{72}{300} = \frac{6}{25}$
- 02** 20명의 학생들 중 음악 실기 점수가 80점 미만인 학생은 2+6=8(명)
 \therefore (구하는 확률) $= \frac{8}{20} = \frac{2}{5}$

03 두 자리의 자연수의 개수는 $5 \times 5 = 25$
 이때 30 이하인 두 자리의 자연수는 10, 12, 13, 14, 15, 20,
 21, 23, 24, 25, 30의 11개

$$\therefore (\text{구하는 확률}) = \frac{11}{25}$$

04 총 11명 중에서 조장 1명, 부조장 1명을 뽑는 경우의 수는
 $11 \times 10 = 110$

이때 조장, 부조장을 모두 재학생으로 뽑는 경우의 수는
 $6 \times 5 = 30$

$$\therefore (\text{구하는 확률}) = \frac{30}{110} = \frac{3}{11}$$

05 ② $0 \leq p \leq 1$

06 모든 경우의 수는 $6 \times 6 = 36$

두 눈의 수의 합이 3인 경우는 (1, 2), (2, 1)의 2가지

$$\begin{aligned} \therefore (\text{두 눈의 수의 합이 3이 아닐 확률}) \\ &= 1 - (\text{두 눈의 수의 합이 3일 확률}) \\ &= 1 - \frac{2}{36} = \frac{17}{18} \end{aligned}$$

07 모든 경우의 수는 $6 \times 6 = 36$

모두 2의 배수가 아닌 눈이 나오는 경우는 (1, 1), (1, 3),
 (1, 5), (3, 1), (3, 3), (3, 5), (5, 1), (5, 3), (5, 5)의
 9가지

$$\begin{aligned} \therefore (\text{적어도 하나는 2의 배수의 눈이 나올 확률}) \\ &= 1 - (\text{모두 2의 배수가 아닌 눈이 나올 확률}) \\ &= 1 - \frac{9}{36} = \frac{3}{4} \end{aligned}$$

02 확률의 계산

p.22

01 ② **02** $\frac{3}{4}$ **03** ⑤ **04** $\frac{8}{9}$ **05** ③

06 $\frac{25}{64}$ **07** ③

01 모든 경우의 수는 20

눈의 수가 4의 배수인 경우는 4, 8, 12, 16, 20의 5가지이므로

$$\text{그 확률은 } \frac{5}{20}$$

눈의 수가 9의 배수인 경우는 9, 18의 2가지이므로

$$\text{그 확률은 } \frac{2}{20}$$

$$\therefore (\text{구하는 확률}) = \frac{5}{20} + \frac{2}{20} = \frac{7}{20}$$

02 모든 경우의 수는 $6 \times 6 = 36$

두 눈의 수의 곱이 홀수인 경우는 (1, 1), (1, 3), (1, 5),
 (3, 1), (3, 3), (3, 5), (5, 1), (5, 3), (5, 5)의 9가지이므로

$$\text{그 확률은 } \frac{9}{36} = \frac{1}{4}$$

$$\begin{aligned} \therefore (\text{구하는 확률}) &= 1 - (\text{두 눈의 수의 곱이 홀수일 확률}) \\ &= 1 - \frac{1}{4} = \frac{3}{4} \end{aligned}$$

03 첫 번째 사격에서 명중시킬 확률은 $\frac{9}{10}$

두 번째 사격에서 명중시킬 확률은 $\frac{9}{10}$

$$\therefore (\text{구하는 확률}) = \frac{9}{10} \times \frac{9}{10} = \frac{81}{100}$$

04 (풍선이 터질 확률)

$$\begin{aligned} &= (\text{적어도 한 사람이 명중시킬 확률}) \\ &= 1 - (\text{세 사람 모두 명중시키지 못할 확률}) \\ &= 1 - \left(1 - \frac{1}{2}\right) \times \left(1 - \frac{1}{3}\right) \times \left(1 - \frac{2}{3}\right) \\ &= 1 - \frac{1}{2} \times \frac{2}{3} \times \frac{1}{3} \\ &= 1 - \frac{1}{9} \\ &= \frac{8}{9} \end{aligned}$$

05 (한 사람만 공을 맞출 확률)

$$\begin{aligned} &= (\text{자유만 공을 맞출 확률}) + (\text{민수만 공을 맞출 확률}) \\ &= \frac{1}{3} \times \left(1 - \frac{3}{4}\right) + \left(1 - \frac{1}{3}\right) \times \frac{3}{4} \\ &= \frac{1}{3} \times \frac{1}{4} + \frac{2}{3} \times \frac{3}{4} \\ &= \frac{1}{12} + \frac{6}{12} = \frac{7}{12} \end{aligned}$$

06 처음에 노란 공을 꺼낼 확률은 $\frac{5}{8}$ 이고, 꺼낸 공을 다시 넣으

므로 두 번째에 노란 공을 꺼낼 확률도 $\frac{5}{8}$ 이다.

$$\therefore (\text{구하는 확률}) = \frac{5}{8} \times \frac{5}{8} = \frac{25}{64}$$

07 첫 번째에 노란 공을 꺼낼 확률은 $\frac{6}{15}$,

두 번째에 노란 공을 꺼낼 확률은 $\frac{5}{14}$ 이고,

세 번째에 초록 공을 꺼낼 확률은 $\frac{4}{13}$ 이다.

$$\therefore (\text{구하는 확률}) = \frac{6}{15} \times \frac{5}{14} \times \frac{4}{13} = \frac{4}{91}$$

중단원 테스트

1 회 1. 삼각형의 성질

p.24~p.25

- | | | | |
|---|---------|--|------|
| 01 ③ | 02 36° | 03 $\angle CAD, \angle ADB, \triangle ACD$ | 04 ① |
| 05 $\triangle ABC \equiv \triangle HIG, \triangle DEF \equiv \triangle RQP, \triangle JKL \equiv \triangle ONM$ | | | |
| 06 67.5° | 07 4 cm | 08 ② | 09 ③ |
| 10 42 cm | 11 ③ | 12 ⑤ | 13 ④ |
| 14 66° | | | |

- 01** $\angle CDB = 180^\circ - 110^\circ = 70^\circ$ 이므로 $\triangle BCD$ 에서
 $\angle BCD = \angle CDB = 70^\circ$
 따라서 $\triangle DBC$ 에서
 $\angle DBC = 180^\circ - (70^\circ + 70^\circ) = 40^\circ$
 $\triangle ABC$ 에서 $\angle ABC = \angle BCD = 70^\circ$ 이므로
 $\angle x = \angle ABC - \angle DBC = 70^\circ - 40^\circ = 30^\circ$
- 02** $\triangle DAB$ 에서 $\angle DBA = \angle DAB = \angle x$ 이므로
 $\angle CDB = 2\angle x$
 $\triangle BCD$ 에서 $\angle BCD = \angle CDB = 2\angle x$,
 $\triangle ABC$ 에서 $\angle ABC = \angle BCA = 2\angle x$ 이므로
 $2\angle x + \angle x + 2\angle x = 180^\circ, 5\angle x = 180^\circ$
 $\therefore \angle x = 36^\circ$
- 04** $\triangle ABC$ 는 이등변삼각형이므로 $\overline{AC} = \overline{AB} = 10$
 $\triangle ABC = \triangle PAB + \triangle PCA$ 이므로
 $40 = \frac{1}{2} \times 10 \times \overline{PD} + \frac{1}{2} \times 10 \times \overline{PE}$
 $40 = 5(\overline{PD} + \overline{PE})$
 $\therefore \overline{PD} + \overline{PE} = 8$
- 06** $\triangle ABC$ 는 직각이등변삼각형이므로 $\angle B = \angle C = 45^\circ$
 $\triangle ABE$ 와 $\triangle DBE$ 에서
 \overline{BE} 는 공통, $\overline{AB} = \overline{DB}, \angle A = \angle D = 90^\circ$ 이므로
 $\triangle ABE \equiv \triangle DBE$ (RHS 합동)
 $\therefore \angle DBE = \angle ABE = \frac{1}{2} \angle B = \frac{1}{2} \times 45^\circ = 22.5^\circ$
 따라서 $\triangle EBD$ 에서
 $\angle x = 180^\circ - (90^\circ + 22.5^\circ) = 67.5^\circ$
- 07** $\triangle BAD$ 와 $\triangle ACE$ 에서
 $\angle D = \angle E = 90^\circ$,
 $\angle DBA = 90^\circ - \angle BAD = \angle EAC$,
 $\overline{BA} = \overline{AC}$ 이므로
 $\triangle BAD \equiv \triangle ACE$ (RHA 합동)
 이때 $\overline{AE} = \overline{BD} = 6$ cm이므로
 $\overline{DA} = \overline{DE} - \overline{AE} = 10 - 6 = 4$ (cm)
 $\therefore \overline{CE} = \overline{AD} = 4$ cm

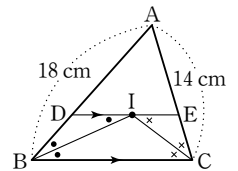
- 08** $\angle BAC = \frac{1}{2} \angle BOC = \frac{1}{2} \times 130^\circ = 65^\circ$ 이므로
 $\angle OAC = \angle BAC - \angle BAO = 65^\circ - 30^\circ = 35^\circ$
 $\triangle OCA$ 에서 $\overline{OA} = \overline{OC}$ 이므로
 $\angle x = \angle OAC = 35^\circ$
- 09** $\overline{AM} = \overline{BM}$ 이므로 점 M은 직각삼각형 ABC의 외심이다.
 $\therefore \angle x = 2\angle B = 2 \times 52^\circ = 104^\circ$

- 10** 점 O가 $\triangle ABC$ 의 외심이므로
 $\overline{BD} = \overline{AD} = 7$ cm, $\overline{CE} = \overline{BE} = 8$ cm,
 $\overline{CF} = \overline{AF} = 6$ cm
 $\therefore (\triangle ABC \text{의 둘레의 길이}) = 7 + 7 + 8 + 8 + 6 + 6 = 42$ (cm)

- 11** 점 I가 $\triangle ABC$ 의 내심이므로
 $90^\circ + \frac{1}{2} \angle BAC = 120^\circ$ 에서 $\angle BAC = 60^\circ$
 이때 $\angle BAI = \angle CAI$ 이므로
 $\angle x = \frac{1}{2} \angle BAC = \frac{1}{2} \times 60^\circ = 30^\circ$

- 12** 점 I가 $\triangle ABC$ 의 내심이므로
 $\angle IBC = \angle IBA = 32^\circ$
 즉 $\triangle IBC$ 에서
 $\angle BIC = 180^\circ - (32^\circ + 26^\circ) = 122^\circ$
 따라서 $90^\circ + \frac{1}{2} \angle x = 122^\circ$ 이므로
 $\frac{1}{2} \angle x = 32^\circ \quad \therefore \angle x = 64^\circ$

- 13** 점 I가 $\triangle ABC$ 의 내심이므로
 $\angle DBI = \angle IBC$
 또 $\overline{DE} \parallel \overline{BC}$ 이므로
 $\angle IBC = \angle DIB$ (엇각)
 $\therefore \angle DBI = \angle IBC = \angle DIB$
 같은 방법으로 $\angle ECI = \angle ICB = \angle EIC$
 즉 $\triangle DBI, \triangle EIC$ 는 각각 이등변삼각형이므로
 $\overline{DI} = \overline{DB}, \overline{EI} = \overline{EC}$



$$\begin{aligned} \therefore (\triangle ADE \text{의 둘레의 길이}) &= \overline{AD} + \overline{DE} + \overline{EA} \\ &= \overline{AD} + (\overline{DI} + \overline{EI}) + \overline{EA} \\ &= (\overline{AD} + \overline{DB}) + (\overline{EC} + \overline{EA}) \\ &= \overline{AB} + \overline{AC} \\ &= 18 + 14 \\ &= 32 \text{ (cm)} \end{aligned}$$

- 14** $\angle x = \frac{1}{2} \angle BOC = \frac{1}{2} \times 96^\circ = 48^\circ$ 이므로
 $\angle y = 90^\circ + \frac{1}{2} \angle x = 90^\circ + \frac{1}{2} \times 48^\circ = 114^\circ$
 $\therefore \angle y - \angle x = 114^\circ - 48^\circ = 66^\circ$

2 회 1. 삼각형의 성질

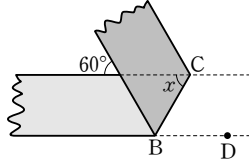
p.26~p.27

01 ③	02 60°	03 ③	04 ⑤	05 ②
06 ②	07 ③	08 ⑤	09 ①	10 120°
11 ④	12 3	13 3 cm	14 7 cm	

01 ③ SAS

02 오른쪽 그림에서

$\angle CBD = \angle x$ (엇각)
 $\angle ABC = \angle CBD$ (접은 각)
 이므로



$\angle ABC = \angle x$
 즉 $\triangle ABC$ 는 $\overline{AB} = \overline{AC}$ 인 이등변삼각형이고
 $\angle CAB = 60^\circ$ (맞꼭지각)이므로
 $\angle x = \frac{1}{2} \times (180^\circ - 60^\circ) = 60^\circ$

03 $\triangle ABC$ 가 $\overline{AB} = \overline{AC}$ 인 이등변삼각형이므로

$\angle B = \angle ACB = \frac{1}{2} \times (180^\circ - 32^\circ) = 74^\circ$

$\therefore \angle DBC = \frac{1}{2} \angle B = \frac{1}{2} \times 74^\circ = 37^\circ$

또 $\angle ACE = 180^\circ - 74^\circ = 106^\circ$ 이므로

$\angle ACD = \frac{1}{2} \angle ACE = \frac{1}{2} \times 106^\circ = 53^\circ$

따라서 $\triangle DBC$ 에서

$\angle BDC = 180^\circ - (37^\circ + 74^\circ + 53^\circ) = 16^\circ$

04 $\triangle COP$ 와 $\triangle DOP$ 에서

$\angle PCO = \angle PDO = 90^\circ$, \overline{OP} 는 공통,
 $\angle COP = \angle DOP$ 이므로

$\triangle COP \equiv \triangle DOP$ (RHA 합동) (④)

$\therefore \angle OPC = \angle OPD$ (①), $\overline{PC} = \overline{PD}$ (③)

또 합동인 두 삼각형의 넓이는 서로 같으므로

$\triangle COP = \triangle DOP$ (②)

따라서 옳지 않은 것은 ⑤이다.

05 오른쪽 그림과 같이 점 D에서 \overline{AC} 에 내린 수선의 발을 E라 하면

$\triangle ABD$ 와 $\triangle AED$ 에서

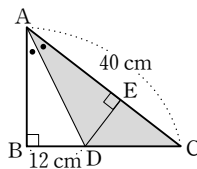
$\angle ABD = \angle AED = 90^\circ$,

\overline{AD} 는 공통, $\angle DAB = \angle DAE$ 이므로

$\triangle ABD \equiv \triangle AED$ (RHA 합동)

따라서 $\overline{ED} = \overline{BD} = 12 \text{ cm}$ 이므로

$\triangle ADC = \frac{1}{2} \times 40 \times 12 = 240 \text{ (cm}^2\text{)}$



06 ② 예각삼각형의 외심은 삼각형의 내부, 직각삼각형의 외심은 삼각형의 빗변의 중점에 있다.

07 $\angle x + 20^\circ + 30^\circ = 90^\circ \quad \therefore \angle x = 40^\circ$

08 점 M은 $\triangle ABC$ 의 빗변의 중점이면서 외심이므로 $\triangle ABC$ 는 직각삼각형이다.

$\therefore \angle BAC = 90^\circ$

09 $\overline{BM} = \overline{CM}$ 이므로 점 M은 $\triangle ABC$ 의 외심이다.

$\therefore \angle x = 2\angle B = 2 \times 34^\circ = 68^\circ$

10 $\angle BIC = 90^\circ + \frac{1}{2} \times 60^\circ = 120^\circ$

11 점 I가 $\triangle ABC$ 의 내심이므로

$\angle IBC = \angle IBA = 25^\circ$, $\angle ICB = \angle ICA = 30^\circ$

즉 $\triangle IBC$ 에서

$\angle BIC = 180^\circ - (25^\circ + 30^\circ) = 125^\circ$

따라서 $90^\circ + \frac{1}{2} \angle A = 125^\circ$ 이므로

$\frac{1}{2} \angle A = 35^\circ \quad \therefore \angle A = 70^\circ$

12 $\overline{BD} = \overline{BE} = x$ 이므로

$\overline{AF} = \overline{AD} = 5 - x$,

$\overline{CF} = \overline{CE} = 8 - x$

즉 $\overline{AC} = \overline{AF} + \overline{CF} = (5 - x) + (8 - x) = 13 - 2x$ 이므로

$13 - 2x = 7 \quad \therefore x = 3$

13 내접원의 반지름의 길이를 $r \text{ cm}$ 라 하면

$\triangle ABC = \frac{1}{2} r (\overline{AB} + \overline{BC} + \overline{CA})$ 이므로

$54 = \frac{1}{2} \times r \times (12 + 15 + 9)$, $54 = 18r \quad \therefore r = 3$

따라서 내접원의 반지름의 길이는 3 cm이다.

14 $\triangle ABC$ 의 외접원과 내접원의 반지름의 길이를 각각 $R \text{ cm}$, $r \text{ cm}$ 라 하면

$R = \frac{1}{2} \times 10 = 5$

$\frac{1}{2} \times r \times (10 + 6 + 8) = \frac{1}{2} \times 6 \times 8$ 에서

$24r = 48 \quad \therefore r = 2$

$\therefore R + r = 5 + 2 = 7 \text{ (cm)}$

1 회 2. 사각형의 성질

p.28~p.29

01 ④	02 ④	03 2 cm	04 ③	05 12 cm ²
06 ④	07 $\angle x = 50^\circ$, $\angle y = 80^\circ$	08 ④	09 ①, ③	
10 6 cm	11 ②	12 90°	13 12 cm	14 72°
15 9 cm ²	16 ③			

01 $\overline{AD} \parallel \overline{BC}$ 이므로

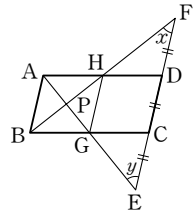
$\angle BCO = \angle x$ (엇각), $\angle OCD = \angle BAC = 55^\circ$ (엇각)

$\triangle BCD$ 에서

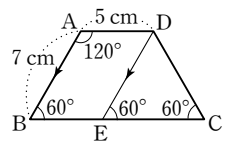
$\angle x + \angle y = 180^\circ - (30^\circ + 55^\circ) = 95^\circ$

- 02** ① □AEIG가 평행사변형이므로 $\angle x = 60^\circ$
 ② □IHCF가 평행사변형이고
 $\angle FIH = \angle GIE = 60^\circ$ (맞꼭지각)이므로
 $\angle y = 180^\circ - 60^\circ = 120^\circ$
 ③ □EBHI가 평행사변형이므로 $a = \overline{BH} = 4$
 ④ □AEFD가 평행사변형이므로 $\overline{AE} = \overline{DF} = 3$
 $\therefore \overline{EB} = \overline{AB} - \overline{AE} = 9 - 3 = 6$
 이때 □EBHI가 평행사변형이므로 $b = \overline{EB} = 6$
 ⑤ □AEFD가 평행사변형이므로
 $\overline{EF} = \overline{AD} = 10$
 $\therefore c = \overline{EF} - \overline{EI} = 10 - 4 = 6$
 따라서 옳은 것은 ④이다.
- 03** $\angle BEC = \angle ABE$ (엇각)이므로 $\triangle EBC$ 는 이등변삼각형이다.
 $\therefore \overline{CE} = \overline{BC} = \overline{AD} = 6$ cm
 또 □ABCD가 평행사변형이므로 $\overline{CD} = \overline{AB} = 4$ cm
 $\therefore \overline{DE} = \overline{CE} - \overline{CD} = 6 - 4 = 2$ (cm)
- 04** $\overline{AD} \parallel \overline{BF}$ 이므로
 $\angle ADE = \angle FCE$ (엇각), $\angle AED = \angle FEC$ (맞꼭지각),
 $\overline{ED} = \overline{EC}$ 이므로
 $\triangle AED \cong \triangle FEC$ (ASA 합동) (⑤)
 $\therefore \overline{AD} = \overline{FC} = \overline{BC}$ (①, ②), $\overline{AE} = \overline{FE}$ (④)
- 05** $\triangle PAD + \triangle PBC = \triangle PAB + \triangle PCD$ 이므로
 $17 + 13 = \triangle PAB + 18 \quad \therefore \triangle PAB = 12$ (cm²)
- 06** ④ 두 대각선이 서로 다른 것을 이등분하지 않으므로 평행사변형이 아니다.
- 07** □ABCD가 직사각형이므로
 $\angle CAB = 90^\circ - 40^\circ = 50^\circ$
 이때 $\overline{OA} = \overline{OB}$ 이므로
 $\angle x = \angle OAB = 50^\circ$
 $\angle y = \angle BOA = 180^\circ - (50^\circ + 50^\circ) = 80^\circ$
- 10** $\triangle AOE \cong \triangle COF$ (ASA 합동) 이므로 $\overline{AE} = \overline{CF}$
 또 $\overline{AE} \parallel \overline{CF}$ 이므로 □AFCE는 평행사변형이다.
 이때 □AFCE의 두 대각선이 수직으로 만나므로 □AFCE는 마름모이다.
 $\therefore \overline{AF} = \overline{AE} = 6$ cm
- 11** $\triangle ABE$ 와 $\triangle BCF$ 에서
 $\angle B = \angle C = 90^\circ$, $\overline{AB} = \overline{BC}$, $\overline{BE} = \overline{CF}$ 이므로
 $\triangle ABE \cong \triangle BCF$ (SAS 합동)
 $\therefore \angle BFC = \angle AEB = 180^\circ - 110^\circ = 70^\circ$
 따라서 $\triangle BCF$ 에서
 $\angle FBC = 180^\circ - (90^\circ + 70^\circ) = 20^\circ$

- 12** $\triangle ABH$ 와 $\triangle DFH$ 에서
 $\overline{AB} = \overline{DF}$, $\angle ABH = \angle DFH$ (엇각),
 $\angle BAH = \angle FDH$ (엇각)이므로
 $\triangle ABH \cong \triangle DFH$ (ASA 합동)
 $\therefore \overline{AH} = \overline{DH}$
 이때 $\overline{AD} = 2\overline{AH}$ 이므로 $\overline{AB} = \overline{AH} = \overline{DH}$
 마찬가지로 방법으로 $\triangle ABG \cong \triangle ECG$ (ASA 합동)이므로
 $\overline{AB} = \overline{BG} = \overline{CG}$
 따라서 오른쪽 그림과 같이 \overline{HG} 를 그
 으면 □ABGH는 $\overline{AH} = \overline{BG}$,
 $\overline{AH} \parallel \overline{BG}$ 이므로 평행사변형이고
 $\overline{AB} = \overline{AH}$ 이므로 마름모가 된다.
 즉 $\angle FPE = 90^\circ$ 이므로 $\triangle PEF$ 에서
 $\angle x + \angle y = 180^\circ - 90^\circ = 90^\circ$



- 13** 오른쪽 그림과 같이 점 D에서 \overline{AB} 에 평행한 직선을 그어 \overline{BC} 와 만나는 점을 E라 하면 □ABED는 평행사변형이므로
 $\overline{BE} = \overline{AD} = 5$ cm, $\angle B = 180^\circ - 120^\circ = 60^\circ$
 또 $\angle DEC = \angle B = 60^\circ$ (동위각), $\angle C = \angle B = 60^\circ$ 이므로
 $\angle EDC = 180^\circ - (60^\circ + 60^\circ) = 60^\circ$
 즉 $\triangle DEC$ 는 정삼각형이므로
 $\overline{EC} = \overline{DC} = \overline{AB} = 7$ cm
 $\therefore \overline{BC} = \overline{BE} + \overline{EC} = 5 + 7 = 12$ (cm)



- 14** $\overline{AD} \parallel \overline{BC}$ 이므로
 $\angle ADB = \angle DBC = 36^\circ$ (엇각)
 $\overline{AB} = \overline{AD}$ 이므로
 $\angle ABD = \angle ADB = 36^\circ$
 $\therefore \angle ABC = 36^\circ + 36^\circ = 72^\circ$
 이때 □ABCD가 등변사다리꼴이므로
 $\angle DCB = \angle ABC = 72^\circ$
 따라서 $\triangle DBC$ 에서
 $\angle x = 180^\circ - (36^\circ + 72^\circ) = 72^\circ$
- 15** □ABCD = $\triangle ABC + \triangle ACD$
 $= \triangle ABC + \triangle ACE$
 이므로 $32 = 23 + \triangle ACE \quad \therefore \triangle ACE = 9$ (cm²)
- 16** $\overline{AO} : \overline{OC} = 2 : 3$ 이므로
 $\triangle ABO : \triangle OBC = 2 : 3$
 즉 $\triangle ABO : 24 = 2 : 3$ 이므로 $\triangle ABO = 16$ (cm²)
 이때 $\overline{AD} \parallel \overline{BC}$ 이므로
 $\triangle DBC = \triangle ABC = \triangle ABO + \triangle OBC$
 $= 16 + 24 = 40$ (cm²)

2 회 2. 사각형의 성질

p.30~p.31

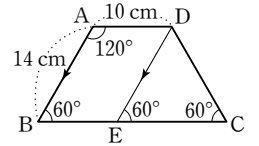
01 6 cm	02 ④	03 130°	04 ⑤
05 평행사변형	06 60°	07 ⑤	08 ④
09 ③	10 24 cm	11 36 cm ²	12 ③
14 2	15 ⑤	16 ③	13 20 cm ²

- 01 □ABCD는 평행사변형이므로
 $\angle DAE = \angle AEB$ (엇각), $\overline{BC} = \overline{AD} = 16$ cm
 이때 $\triangle BEA$ 는 이등변삼각형이므로 $\overline{BE} = \overline{AB} = 10$ cm
 $\therefore \overline{CE} = \overline{BC} - \overline{BE} = 16 - 10 = 6$ (cm)
- 02 $\angle C = \angle A = 180^\circ \times \frac{2}{2+3} = 72^\circ$
- 03 $\angle BFA = 180^\circ - 140^\circ = 40^\circ$
 $\overline{AD} \parallel \overline{BC}$ 이므로 $\angle FBE = \angle BFA = 40^\circ$ (엇각)
 $\therefore \angle B = 2\angle FBE = 2 \times 40^\circ = 80^\circ$
 $\angle A = 180^\circ - \angle B = 180^\circ - 80^\circ = 100^\circ$ 이므로
 $\angle EAB = \frac{1}{2}\angle A = \frac{1}{2} \times 100^\circ = 50^\circ$
 따라서 $\triangle ABE$ 에서
 $\angle AEC = 50^\circ + 80^\circ = 130^\circ$
- 04 ⑤ 대변의 길이가 각각 같지 않으므로 평행사변형이 아니다.
- 05 $\triangle AEH$ 와 $\triangle CGF$ 에서
 $\overline{AE} = \overline{CG}$, $\overline{AH} = \overline{AD} - \overline{DH} = \overline{BC} - \overline{BF} = \overline{CF}$
 $\angle A = \angle C$ 이므로
 $\triangle AEH \equiv \triangle CGF$ (SAS 합동)
 $\therefore \overline{EH} = \overline{GF}$ ㉠
 같은 방법으로 하면 $\triangle BFE \equiv \triangle DHG$ (SAS 합동)이므로
 $\overline{EF} = \overline{GH}$ ㉡
 ㉠, ㉡에서 □EFGH는 평행사변형이다.
- 06 $\overline{AD} \parallel \overline{BC}$ 이므로 $\angle BDC = \angle ABD = 30^\circ$
 $\triangle DOC$ 에서 $\angle DOC = 180^\circ - (30^\circ + 60^\circ) = 90^\circ$
 즉 $\overline{AC} \perp \overline{BD}$ 이므로 □ABCD는 마름모이다.
 따라서 $\triangle DBC$ 는 $\overline{CB} = \overline{CD}$ 인 이등변삼각형이므로
 $\angle DBC = \angle BDC = 30^\circ$
 $\therefore \angle x = 180^\circ - (30^\circ + 30^\circ + 60^\circ) = 60^\circ$
- 07 $\triangle ABH$ 와 $\triangle DFH$ 에서
 $\overline{AB} = \overline{DF}$, $\angle ABH = \angle DFH$ (엇각),
 $\angle BAH = \angle FDH$ (엇각)이므로
 $\triangle ABH \equiv \triangle DFH$ (ASA 합동) (③)
 즉 $\overline{AH} = \overline{DH}$ 이므로 $\overline{AH} = \frac{1}{2}\overline{AD}$ (②)
 같은 방법으로 하면 $\triangle ABG \equiv \triangle ECG$ (ASA 합동)이므로
 $\overline{BG} = \overline{CG}$

이때 $\overline{AD} = 2\overline{AB}$ 이므로 $\overline{AH} = \overline{AB} = \overline{BG} = \overline{GH}$
 즉 □ABGH는 마름모이므로
 $\angle BPG = 90^\circ$ (①), $\overline{AP} = \overline{PG}$, $\overline{BP} = \overline{PH}$ (④)
 따라서 옳지 않은 것은 ⑤이다.

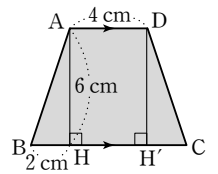
- 09 □ABCD는 두 대각선의 길이가 같고, 서로 다른 것을 수직 이등분하므로 정사각형이다.
 $\therefore \square ABCD = \frac{1}{2} \times 8 \times 8 = 32$ (cm²)

- 10 오른쪽 그림과 같이 점 D에서 \overline{AB} 에 평행한 직선을 그어 \overline{BC} 와 만나는 점을 E라 하면
 □ABED는 평행사변형이므로



$\overline{BE} = \overline{AD} = 10$ cm
 $\angle B = 180^\circ - 120^\circ = 60^\circ$
 또 $\angle DEC = \angle B = 60^\circ$ (동위각), $\angle C = \angle B = 60^\circ$ 이므로
 $\angle EDC = 180^\circ - (60^\circ + 60^\circ) = 60^\circ$
 따라서 $\triangle DEC$ 는 정삼각형이므로
 $\overline{EC} = \overline{DC} = \overline{AB} = 14$ cm
 $\therefore \overline{BC} = \overline{BE} + \overline{EC} = 10 + 14 = 24$ (cm)

- 11 오른쪽 그림과 같이 점 D에서 \overline{BC} 에 내린 수선의 발을 H'이라 하면
 $\triangle ABH \equiv \triangle DCH'$ (RHS 합동)이므로
 $\overline{CH'} = \overline{BH} = 2$ cm, $\overline{HH'} = 4$ cm



$\therefore \square ABCD = \frac{1}{2} \times (4 + 8) \times 6 = 36$ (cm²)

- 12 ③ 한 내각의 크기가 90°인 평행사변형은 직사각형이다.

- 13 $\triangle BOE \equiv \triangle DOF$ (ASA 합동)이므로
 (어두운 부분의 넓이) = $\triangle AEO + \triangle DOF$
 $= \triangle AEO + \triangle BOE$
 $= \triangle ABO = \frac{1}{4}\square ABCD$
 $= \frac{1}{4} \times 80 = 20$ (cm²)

- 14 $\triangle PMC = \frac{1}{5}\triangle AMC$
 $= \frac{1}{5} \times \frac{1}{2}\triangle ABC$
 $= \frac{1}{5} \times \frac{1}{2} \times 20 = 2$

- 15 $\triangle ABE = \triangle DBE = \triangle BFD = \triangle AFD$ 이므로
 넓이가 나머지 넷과 다른 하나는 ⑤이다.

- 16 $\triangle ABO = \triangle DOC = 15$ cm²이므로
 $\triangle OBC = \triangle ABC - \triangle ABO$
 $= 40 - 15 = 25$ (cm²)

1 회 3. 도형의 답음

p.32

01 ④	02 (1) $\frac{21}{4}$ (2) 55°	03 6	04 ③
05 ⑤	06 6	07 7	

- 01 ④ 두 이등변삼각형은 항상 닮음인 평면도형이 아니다.
- 02 (1) $7 : \overline{DE} = 8 : 6$ 에서 $\overline{DE} = \frac{21}{4}$
- 03 $\triangle ACD$ 와 $\triangle ABC$ 에서
 $\angle A$ 는 공통, $\angle ACD = \angle ABC$ 이므로
 $\triangle ACD \sim \triangle ABC$ (AA 닮음)
 즉 $4 : (2+x) = 2 : 4$ 에서
 $4+2x=16, 2x=12 \quad \therefore x=6$
- 04 $\triangle AOB$ 와 $\triangle COD$ 에서
 $\overline{AO} : \overline{CO} = \overline{BO} : \overline{DO} = 1 : 2$ 이고
 $\angle AOB = \angle COD$ (맞꼭지각)이므로
 $\triangle AOB \sim \triangle COD$ (SAS 닮음)
 즉 $5.5 : \overline{CD} = 1 : 2$ 에서 $\overline{CD} = 11$ (cm)
- 05 $\triangle ADE$ 와 $\triangle ACB$ 에서
 $\angle A$ 는 공통, $\angle ADE = \angle ACB = 90^\circ$ 이므로
 $\triangle ADE \sim \triangle ACB$ (AA 닮음)
 $\triangle ACB$ 와 $\triangle FDB$ 에서
 $\angle B$ 는 공통, $\angle ACB = \angle FDB = 90^\circ$ 이므로
 $\triangle ACB \sim \triangle FDB$ (AA 닮음)
 $\triangle FDB$ 와 $\triangle FCE$ 에서
 $\angle F$ 는 공통, $\angle FDB = \angle FCE = 90^\circ$ 이므로
 $\triangle FDB \sim \triangle FCE$ (AA 닮음)
 따라서 나머지 네 삼각형과 닮은 삼각형이 아닌 것은 ⑤이다.
- 06 $x^2 = 3 \times (3+9) = 36 = 6^2 \quad \therefore x=6$ ($\because x > 0$)
- 07 $\triangle DBE$ 와 $\triangle ECF$ 에서
 $\angle DBE = \angle ECF = 60^\circ$,
 $\angle EDB + \angle BED = \angle BED + \angle FEC = 120^\circ$
 이므로 $\angle EDB = \angle FEC$
 $\therefore \triangle DBE \sim \triangle ECF$ (AA 닮음)
 즉 $\overline{DB} : 12 = 3 : 4.5$ 에서 $\overline{DB} = 8$
 $\therefore x = 15 - 8 = 7$

2 회 3. 도형의 답음

p.33

01 ③	02 ⑤	03 ④	04 $\frac{9}{2}$	05 ④
06 $\frac{216}{25} \text{ cm}^2$	07 5	08 ②		

02 두 직육면체의 닮음비는 $\overline{FG} : \overline{F'G'} = 6 : 4 = 3 : 2$

$$4 : x = 3 : 2 \text{에서 } 3x = 8 \quad \therefore x = \frac{8}{3}$$

$$8 : y = 3 : 2 \text{에서 } 3y = 16 \quad \therefore y = \frac{16}{3}$$

$$\therefore x + y = \frac{8}{3} + \frac{16}{3} = 8$$

03 $\triangle ADC$ 와 $\triangle BEC$ 에서
 $\angle C$ 는 공통, $\angle ADC = \angle BEC = 90^\circ$ 이므로
 $\triangle ADC \sim \triangle BEC$ (AA 닮음)
 $\therefore \overline{AD} : \overline{BE} = \overline{AC} : \overline{BC} = 16 : 20 = 4 : 5$

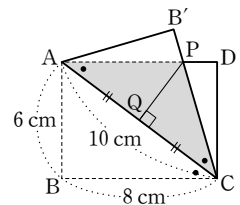
04 $\triangle BDA$ 와 $\triangle BAC$ 에서
 $\angle B$ 는 공통, $\overline{BD} : \overline{BA} = \overline{BA} : \overline{BC} = 2 : 3$ 이므로
 $\triangle BDA \sim \triangle BAC$ (SAS 닮음)
 즉 $3 : x = 2 : 3$ 에서
 $2x = 9 \quad \therefore x = \frac{9}{2}$

05 $\triangle DAE$ 와 $\triangle BCA$ 에서
 $\angle DAE = \angle BCA$ (엇각), $\angle DEA = \angle BAC$ (엇각)이므로
 $\triangle DAE \sim \triangle BCA$ (AA 닮음)
 즉 $x : (x+3) = 6 : 8$ 에서
 $6(x+3) = 8x, 2x = 18 \quad \therefore x = 9$

06 $6 \times 8 = 10 \times \overline{AH}$ 에서 $\overline{AH} = \frac{24}{5}$ (cm)
 또, $6^2 = \overline{BH} \times 10$ 에서 $\overline{BH} = \frac{18}{5}$ (cm)
 $\therefore \triangle ABH = \frac{1}{2} \times \frac{24}{5} \times \frac{18}{5} = \frac{216}{25}$ (cm²)

07 $\triangle BEF$ 와 $\triangle DAF$ 에서
 $\angle BEF = \angle DAF$ (엇각), $\angle FBE = \angle FDA$ (엇각)이므로
 $\triangle BEF \sim \triangle DAF$ (AA 닮음)
 즉 $x : (15-x) = 6 : 12$ 에서
 $6(15-x) = 12x, 18x = 90 \quad \therefore x = 5$

08 오른쪽 그림에서
 $\angle ACB = \angle PAC$ (엇각)이고
 $\angle PCA = \angle ACB$ (접은 각)이므로
 $\angle PAC = \angle PCA$
 즉 $\triangle PAC$ 는 $\overline{PA} = \overline{PC}$ 인 이등변 삼각형이다.



이때 점 P에서 \overline{AC} 에 내린 수선의 발을 Q라 하면

$$\overline{AQ} = \overline{CQ} = \frac{1}{2} \overline{AC} = \frac{1}{2} \times 10 = 5 \text{ (cm)}$$

한편 $\triangle PQC \sim \triangle ABC$ (AA 닮음)이므로

$$\overline{PQ} : 6 = 5 : 8 \text{에서 } \overline{PQ} = \frac{15}{4} \text{ (cm)}$$

$$\therefore \triangle ACP = \frac{1}{2} \times 10 \times \frac{15}{4} = \frac{75}{4} \text{ (cm}^2\text{)}$$

1 회 4. 답음의 응용

p.34~p.35

01 4	02 ③	03 6 cm	04 24 cm	05 9
06 $x=16, y=8$	07 15 cm	08 ⑤	09 ⑤	
10 $\frac{48}{5} \text{ cm}^2$	11 ③	12 4 cm	13 4 cm	14 4 cm^2
15 18 cm^2	16 ①			

01 $(3+3) : 3 = 8 : x$ 에서 $6x=24 \quad \therefore x=4$

02 $10 : 5 = 8 : \overline{AD}$ 에서 $\overline{AD}=4$
 $\therefore \overline{BD}=8+4=12$

03 $\triangle CEB$ 에서 $\overline{CF}=\overline{FE}, \overline{CD}=\overline{DB}$ 이므로
 $\overline{BE}=2\overline{DF}, \overline{BE} \parallel \overline{DF}$
 $\triangle ADF$ 에서 $\overline{AE}=\overline{EF}, \overline{PE} \parallel \overline{DF}$ 이므로
 $\overline{DF}=2\overline{PE}=2 \times 2=4 \text{ (cm)}$
 $\overline{BE}=2\overline{DF}=2 \times 4=8 \text{ (cm)}$ 이므로
 $\overline{BP}=\overline{BE}-\overline{PE}=8-2=6 \text{ (cm)}$

04 $\overline{PS}=\overline{QR}=\frac{1}{2}\overline{BD}=\frac{1}{2} \times 10=5 \text{ (cm)}$
 $\overline{SR}=\overline{PQ}=\frac{1}{2}\overline{AC}=\frac{1}{2} \times 14=7 \text{ (cm)}$
 $\therefore (\square PQRS \text{의 둘레의 길이})=\overline{PQ}+\overline{QR}+\overline{RS}+\overline{SP}$
 $=7+5+7+5$
 $=24 \text{ (cm)}$

05 $\overline{AB} : \overline{AC} = \overline{BD} : \overline{CD}$ 에서
 $16 : 12 = (21-x) : x, 16x=12(21-x)$
 $16x=252-12x, 28x=252$
 $\therefore x=9$

06 $x : 24 = 20 : 30 \quad \therefore x=16$
 $30 : 10 = 24 : y \quad \therefore y=8$

07 $\overline{MN}=\frac{1}{2} \times (12+18)=15 \text{ (cm)}$

08 $\triangle ABD$ 에서
 $\overline{MP}=\frac{1}{2}\overline{AD}=\frac{1}{2} \times 8=4 \text{ (cm)}$
 $\overline{PQ}=\overline{MP}=4 \text{ cm}$ 이므로
 $\overline{MQ}=\overline{MP}+\overline{PQ}=4+4=8 \text{ (cm)}$
 $\triangle ABC$ 에서
 $\overline{BC}=2\overline{MQ}=2 \times 8=16 \text{ (cm)}$

09 $\overline{QC} : \overline{BC} = \overline{PQ} : \overline{AB} = 3 : 5$ 이므로
 $\overline{PQ} : \overline{DC} = \overline{BQ} : \overline{BC} = 2 : 5$
 즉 $3 : \overline{DC} = 2 : 5$ 이므로
 $\overline{DC}=\frac{15}{2}=7.5 \text{ (cm)}$

10 $\overline{PB} : \overline{PD} = \overline{AB} : \overline{CD} = 4 : 6 = 2 : 3$ 이므로
 $\overline{PH} : \overline{DC} = \overline{BP} : \overline{BD} = 2 : 5$

즉 $\overline{PH} : 6 = 2 : 5$ 이므로 $\overline{PH}=\frac{12}{5} \text{ (cm)}$

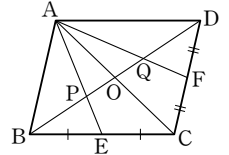
$\therefore \triangle PBC = \frac{1}{2} \times \overline{BC} \times \overline{PH}$
 $= \frac{1}{2} \times 8 \times \frac{12}{5} = \frac{48}{5} \text{ (cm}^2\text{)}$

11 $6 : x = 2 : 3$ 에서
 $2x=18 \quad \therefore x=9$

12 오른쪽 그림과 같이 \overline{AC} 를 그으면
 점 P는 $\triangle ABC$ 의 무게중심이므로

$\overline{PO}=\frac{1}{3}\overline{BO}=\frac{1}{3} \times \frac{1}{2}\overline{BD}$
 $=\frac{1}{6}\overline{BD}=\frac{1}{6} \times 12=2 \text{ (cm)}$

또, 점 Q는 $\triangle ACD$ 의 무게중심이므로
 $\overline{OQ}=\frac{1}{3}\overline{DO}=\frac{1}{3} \times \frac{1}{2}\overline{BD}=\frac{1}{6}\overline{BD}=\frac{1}{6} \times 12=2 \text{ (cm)}$
 $\therefore \overline{PQ}=\overline{PO}+\overline{OQ}=2+2=4 \text{ (cm)}$



13 점 G는 $\triangle ABC$ 의 무게중심이므로
 $\overline{GD}=\frac{1}{3}\overline{AD}=\frac{1}{3} \times 18=6 \text{ (cm)}$
 점 G'은 $\triangle GBC$ 의 무게중심이므로
 $\overline{GG'}=\frac{2}{3}\overline{GD}=\frac{2}{3} \times 6=4 \text{ (cm)}$

14 $\triangle GDE = \frac{1}{2} \triangle GDC$
 $= \frac{1}{2} \times \left(\frac{1}{6} \triangle ABC \right)$
 $= \frac{1}{12} \triangle ABC$
 $= \frac{1}{12} \times 48 = 4 \text{ (cm}^2\text{)}$

15 $\triangle ADE \sim \triangle ABC$ (AA 답음)이고 답음비가 3 : 4이므로
 넓이의 비는 $3^2 : 4^2 = 9 : 16$
 즉 $\triangle ADE : 32 = 9 : 16$ 에서
 $\triangle ADE = 18 \text{ (cm}^2\text{)}$

16 (입체도형 P의 부피) : (입체도형 Q의 부피) = $1^3 : 2^3 = 1 : 8$
 이므로
 (입체도형 P의 부피) : 32 = 1 : 8
 \therefore (입체도형 P의 부피) = 4 (cm³)

정답과 해설

2 회 4. 답음의 응용

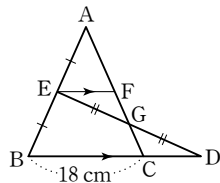
p.36~p.37

01 13	02 $\frac{54}{5} \text{ cm}$	03 12 cm	04 9 cm	05 4
06 24	07 13 cm	08 ①	09 ②	10 ②
11 $\frac{8}{3} \text{ cm}$	12 8 cm	13 ③	14 12 cm^2	15 ④
16 3.6 km^2				

- 01** $8 : 4 = 6 : x$ 에서 $x = 3$
 $8 : (8 + 4) = y : 15$ 에서 $y = 10$
 $\therefore x + y = 3 + 10 = 13$
- 02** $\overline{AE} : \overline{EC} = \overline{AD} : \overline{DB} = 18 : 12 = 3 : 2$ 이므로
 $\overline{AF} = x$ cm라 하면
 $\overline{AF} : \overline{FD} = \overline{AE} : \overline{EC}$ 에서
 $x : (18 - x) = 3 : 2, 2x = 54 - 3x$
 $5x = 54 \quad \therefore x = \frac{54}{5}$
따라서 \overline{AF} 의 길이는 $\frac{54}{5}$ cm이다.

- 03** ($\triangle DEF$ 의 둘레의 길이) $= \overline{DE} + \overline{EF} + \overline{FD}$
 $= \frac{1}{2}(\overline{AC} + \overline{BA} + \overline{CB})$
 $= \frac{1}{2} \times (6 + 8 + 10)$
 $= 12$ (cm)

- 04** 오른쪽 그림과 같이 점 E를 지나고 \overline{BD} 에 평행한 직선을 그어 \overline{AC} 와 만나는 점을 F라 하면
 $\triangle EGF \cong \triangle DGC$ (ASA 합동)
이므로

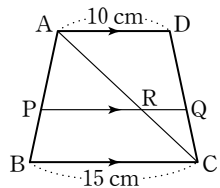


$$\overline{CD} = \overline{FE} = \frac{1}{2} \overline{BC} = \frac{1}{2} \times 18 = 9 \text{ (cm)}$$

- 05** $\overline{AB} : \overline{AC} = \overline{BD} : \overline{CD}$ 에서
 $6 : 3 = (4 + x) : x$
 $6x = 3(4 + x), 6x = 12 + 3x$
 $3x = 12 \quad \therefore x = 4$

- 06** $12 : x = 14 : 28$ 에서 $x = 24$

- 07** 오른쪽 그림과 같이 사다리꼴 ABCD의 대각선 AC와 PQ가 만나는 점을 R라 하면
 $\triangle ABC$ 에서
 $\overline{AP} : \overline{AB} = \overline{PR} : \overline{BC}$
즉 $3 : 5 = \overline{PR} : 15$ 에서 $\overline{PR} = 9$ (cm)
 $\triangle CDA$ 에서 $\overline{CQ} : \overline{CD} = \overline{RQ} : \overline{AD}$
즉 $2 : 5 = \overline{RQ} : 10$ 에서 $\overline{RQ} = 4$ (cm)
 $\therefore \overline{PQ} = \overline{PR} + \overline{RQ} = 9 + 4 = 13$ (cm)



- 08** $\triangle ABC$ 에서
 $\overline{MQ} = \frac{1}{2} \overline{BC} = \frac{1}{2} \times 12 = 6$ (cm)
 $\triangle BDA$ 에서
 $\overline{MP} = \frac{1}{2} \overline{AD} = \frac{1}{2} \times 7 = 3.5$ (cm)
 $\therefore \overline{PQ} = \overline{MQ} - \overline{MP} = 6 - 3.5 = 2.5$ (cm)

- 09** $\overline{BP} : \overline{DP} = \overline{AB} : \overline{CD} = 9 : 6 = 3 : 2$ 이므로
 $\overline{PQ} : \overline{DC} = \overline{BP} : \overline{BD} = 3 : 5$
즉 $\overline{PQ} : 6 = 3 : 5$ 이므로

$$\overline{PQ} = \frac{18}{5} = 3.6 \text{ (cm)}$$

- 10** $\overline{AD} = 3\overline{GD} = 3 \times 6 = 18$ (cm)

- 11** $\overline{GD} = \frac{1}{2} \overline{BG} = \frac{1}{2} \times 8 = 4$ (cm)이므로

$$\overline{GG'} = \frac{2}{3} \overline{GD} = \frac{2}{3} \times 4 = \frac{8}{3} \text{ (cm)}$$

- 12** $\overline{EF} = \overline{ED} + \overline{DF} = \frac{1}{2} \overline{BD} + \frac{1}{2} \overline{CD} = \frac{1}{2} \overline{BC}$
 $= \frac{1}{2} \times 24 = 12$ (cm)

$$\overline{GG'} : \overline{EF} = \overline{AG} : \overline{AE} = 2 : 3 \text{ 이므로}$$

$$\overline{GG'} : 12 = 2 : 3 \quad \therefore \overline{GG'} = 8 \text{ (cm)}$$

- 13** $\triangle ABE = \frac{2}{3} \triangle ABC = \frac{2}{3} \times 72 = 48$ (cm²)

이때 점 G는 $\triangle ABE$ 의 무게중심이므로

$$\triangle AGE = \frac{1}{3} \triangle ABE = \frac{1}{3} \times 48 = 16 \text{ (cm}^2\text{)}$$

- 14** $\triangle ADE \sim \triangle ABC$ (AA 닮음)이고, 닮음비가 $6 : 15 = 2 : 5$ 이므로 넓이의 비는 $2^2 : 5^2 = 4 : 25$

즉 $\triangle ADE : \triangle ABC = 4 : 25$ 에서

$$\triangle ADE : (\triangle ADE + 63) = 4 : 25$$

$$\therefore \triangle ADE = 12 \text{ (cm}^2\text{)}$$

- 15** 물이 담겨진 부분과 전체 그릇의 닮음비는 $2 : 3$ 이므로 부피의 비는 $2^3 : 3^3 = 8 : 27$

물을 가득 채우는 데 x 분이 걸린다고 하면

$$8 : 27 = 8 : x \quad \therefore x = 27$$

따라서 앞으로 $27 - 8 = 19$ (분)이 더 걸린다.

- 16** $8 \text{ (cm)} \div \frac{1}{30000} = 8 \text{ (cm)} \times 30000$
 $= 240000 \text{ (cm)} = 2.4 \text{ (km)}$

$$5 \text{ (cm)} \div \frac{1}{30000} = 5 \text{ (cm)} \times 30000$$

$$= 150000 \text{ (cm)} = 1.5 \text{ (km)}$$

따라서 공원의 실제 넓이는

$$2.4 \times 1.5 = 3.6 \text{ (km}^2\text{)}$$

1 회 5. 피타고라스 정리

p.38~p.39

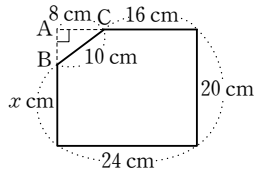
01 $x=8, y=17$	02 $\frac{13}{6}$	03 20	04 14
05 ②	06 60 cm ²	07 60 cm ²	08 ⑤
10 49 cm ²	11 ③, ⑤	12 5개	13 101
15 20 cm			14 54 cm ²

01 $\triangle ABC$ 에서
 $x^2 = 10^2 - 6^2 = 64 = 8^2 \quad \therefore x = 8 (\because x > 0)$
 $\triangle ABD$ 에서
 $y^2 = 8^2 + 15^2 = 289 = 17^2 \quad \therefore y = 17 (\because y > 0)$

02 $\triangle ABC$ 에서
 $\overline{AB}^2 = 5^2 + 12^2 = 169 = 13^2 \quad \therefore \overline{AB} = 13 (\because \overline{AB} > 0)$
 이때 점 D는 $\triangle ABC$ 의 외심이므로
 $\overline{CD} = \overline{AD} = \overline{BD} = \frac{1}{2} \overline{AB} = \frac{13}{2}$
 $\therefore \overline{DG} = \frac{1}{3} \overline{CD} = \frac{1}{3} \times \frac{13}{2} = \frac{13}{6}$

03 $\triangle ABD$ 에서
 $\overline{AD}^2 = 13^2 - 5^2 = 144 = 12^2 \quad \therefore \overline{AD} = 12 (\because \overline{AD} > 0)$
 $\triangle ADC$ 에서
 $\overline{AC}^2 = 12^2 + 16^2 = 400 = 20^2 \quad \therefore \overline{AC} = 20 (\because \overline{AC} > 0)$

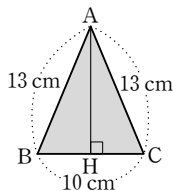
04 오른쪽 그림의 $\triangle ABC$ 에서
 $\overline{AB}^2 = 10^2 - 8^2 = 36 = 6^2$
 $\therefore \overline{AB} = 6 \text{ (cm)} (\because \overline{AB} > 0)$
 $\therefore x = 20 - 6 = 14$



05 $\triangle ABD$ 에서
 $\overline{BD}^2 = 3^2 + 4^2 = 25 = 5^2 \quad \therefore \overline{BD} = 5 (\because \overline{BD} > 0)$
 $\overline{AB} \times \overline{AD} = \overline{BD} \times \overline{AH}$ 이므로
 $3 \times 4 = 5 \times \overline{AH} \quad \therefore \overline{AH} = \frac{12}{5} \text{ (cm)}$

06 $\triangle AOD$ 에서
 $\overline{OD}^2 = 10^2 - 6^2 = 64 = 8^2$
 $\therefore \overline{OD} = 8 \text{ (cm)} (\because \overline{OD} > 0)$
 $\triangle DOC$ 에서
 $\overline{OC}^2 = 17^2 - 8^2 = 225 = 15^2$
 $\therefore \overline{OC} = 15 \text{ (cm)} (\because \overline{OC} > 0)$
 $\therefore \triangle OCD = \frac{1}{2} \times \overline{OD} \times \overline{OC}$
 $= \frac{1}{2} \times 8 \times 15 = 60 \text{ (cm}^2\text{)}$

07 오른쪽 그림과 같이 점 A에서 \overline{BC} 에 내린 수선의 발을 H라 하면
 $\overline{BH} = \overline{CH} = \frac{1}{2} \overline{BC} = \frac{1}{2} \times 10 = 5 \text{ (cm)}$
 $\triangle ABH$ 에서
 $\overline{AH}^2 = 13^2 - 5^2 = 144 = 12^2$
 $\therefore \overline{AH} = 12 \text{ (cm)} (\because \overline{AH} > 0)$
 $\therefore \triangle ABC = \frac{1}{2} \times \overline{BC} \times \overline{AH}$
 $= \frac{1}{2} \times 10 \times 12 = 60 \text{ (cm}^2\text{)}$



08 $\triangle EBC$ 와 $\triangle ABF$ 에서
 $\overline{EB} = \overline{AB}, \overline{BC} = \overline{BF}, \angle EBC = \angle ABF$

이므로 $\triangle EBC \cong \triangle ABF$ (SAS 합동) (①)
 $\therefore \triangle AEB = \triangle EBC = \triangle ABF = \triangle JBF$ (②, ③)
 $\triangle AEB = \frac{1}{2} \square ADEB$ 이고, $\triangle JBF = \frac{1}{2} \square BFKJ$ 이므로
 $\square ADEB = \square BFKJ$
 같은 방법으로 하면 $\square ACHI = \square JKGC$ (④)
 따라서 옳지 않은 것은 ⑤이다.

09 $\square BFGC = \square ADEB + \square ACHI$ 이므로
 $\square ADEB = \square BFGC - \square ACHI$
 $= 25 - 9 = 16 \text{ (cm}^2\text{)}$

10 $\triangle AED \cong \triangle BFA \cong \triangle CGB \cong \triangle DHC$ (RHS 합동)이고,
 $\overline{AE} = \overline{BF} = \overline{CG} = \overline{DH}$ 이므로 $\square EFGH$ 는 정사각형이다.
 이때 정사각형 ABCD의 넓이가 169 cm^2 이므로
 $\overline{AD}^2 = 169 = 13^2 \quad \therefore \overline{AD} = 13 \text{ (cm)} (\because \overline{AD} > 0)$
 $\triangle AED$ 에서
 $\overline{ED}^2 = 13^2 - 5^2 = 144 = 12^2$
 $\therefore \overline{ED} = 12 \text{ (cm)} (\because \overline{ED} > 0)$
 따라서 $\overline{EH} = \overline{ED} - \overline{DH} = 12 - 5 = 7 \text{ (cm)}$ 이므로
 $\square EFGH = \overline{EH}^2 = 7^2 = 49 \text{ (cm}^2\text{)}$

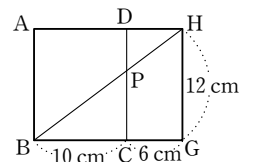
11 ① $8^2 \neq 5^2 + 6^2$ ② $13^2 \neq 8^2 + 10^2$
 ③ $15^2 = 9^2 + 12^2$ ④ $18^2 \neq 9^2 + 15^2$
 ⑤ $25^2 = 15^2 + 20^2$
 따라서 직각삼각형의 세 변의 길이가 될 수 있는 것은 ③, ⑤이다.

12 x 가 가장 긴 변의 길이이므로 삼각형의 세 변의 길이 사이의 관계에 의하여 $8 - 6 < x < 8 + 6 \quad \therefore 2 < x < 14$
 이때 $x > 8$ 이므로 $8 < x < 14 \quad \dots \textcircled{1}$
 $\angle C < 90^\circ$ 가 되려면
 $8^2 < 6^2 + x^2 \quad \therefore x^2 > 28 \quad \dots \textcircled{2}$
 $\textcircled{1}, \textcircled{2}$ 에서 자연수 x 는 9, 10, 11, 12, 13의 5개이다.

13 $\triangle DBE$ 에서
 $\overline{DE}^2 = 4^2 + 2^2 = 20$
 $\therefore \overline{AE}^2 + \overline{CD}^2 = \overline{DE}^2 + \overline{AC}^2$
 $= 20 + 9^2 = 101$

14 $\triangle ABC$ 에서
 $\overline{AC}^2 = 15^2 - 12^2 = 81 = 9^2 \quad \therefore \overline{AC} = 9 \text{ (cm)} (\because \overline{AC} > 0)$
 \therefore (어두운 부분의 넓이) = $\triangle ABC = \frac{1}{2} \times \overline{AB} \times \overline{AC}$
 $= \frac{1}{2} \times 12 \times 9 = 54 \text{ (cm}^2\text{)}$

15 최단 거리는 오른쪽 그림과 같으
 므로 $\triangle HBG$ 에서
 $\overline{HB}^2 = 16^2 + 12^2 = 400 = 20^2$
 $\therefore \overline{HB} = 20 \text{ (cm)} (\because \overline{HB} > 0)$



2회 5. 피타고라스 정리

p.40~p.41

01 ②	02 5	03 ③	04 10 cm	05 $\frac{30}{7}$
06 156 cm ²	07 5	08 12 cm	09 32 cm ²	10 20
11 50 cm ²	12 ③, ④	13 13	14 33	
15 64π cm ²	16 40 cm ²			

01 △ABC에서

$$\overline{BC}^2 = 13^2 - 5^2 = 144 = 12^2$$

$$\therefore \overline{BC} = 12 \text{ (cm)} (\because \overline{BC} > 0)$$

△CBD에서

$$\overline{CD}^2 = 15^2 - 12^2 = 81 = 9^2$$

$$\therefore \overline{CD} = 9 \text{ (cm)} (\because \overline{CD} > 0)$$

02 △OAB에서 $\overline{OB}^2 = 1^2 + 1^2 = 2$,

$$\triangle OBC \text{에서 } \overline{OC}^2 = 2 + 1^2 = 3,$$

$$\triangle OCD \text{에서 } \overline{OD}^2 = 3 + 1^2 = 4 \text{ 이므로}$$

$$\triangle ODE \text{에서 } \overline{OE}^2 = 4 + 1^2 = 5$$

03 △ABD에서

$$x^2 = 17^2 - 15^2 = 64 = 8^2 \quad \therefore x = 8 (\because x > 0)$$

△ADC에서

$$y^2 = 8^2 + 6^2 = 100 = 10^2 \quad \therefore y = 10 (\because y > 0)$$

$$\therefore x + y = 8 + 10 = 18$$

04 □ABCD가 정사각형이므로

$$\overline{AB}^2 = 36 = 6^2 \quad \therefore \overline{AB} = 6 \text{ (cm)} (\because \overline{AB} > 0)$$

$$\therefore \overline{BC} = \overline{AB} = 6 \text{ cm}$$

□GCEF가 정사각형이므로

$$\overline{CE}^2 = 4 = 2^2 \quad \therefore \overline{CE} = 2 \text{ (cm)} (\because \overline{CE} > 0)$$

따라서 △ABE에서

$$\overline{AE}^2 = 6^2 + (6+2)^2 = 100 = 10^2$$

$$\therefore \overline{AE} = 10 \text{ (cm)} (\because \overline{AE} > 0)$$

05 △ABC는 ∠A=90°인 직각삼각형이므로

$$\overline{AB}^2 = 10^2 - 6^2 = 64 = 8^2$$

$$\therefore \overline{AB} = 8 \text{ (cm)} (\because \overline{AB} > 0)$$

이때 \overline{AD} 가 ∠A의 이등분선이므로

$$\overline{AB} : \overline{AC} = \overline{BD} : \overline{CD} \text{에서}$$

$$8 : 6 = (10 - x) : x$$

$$8x = 6(10 - x), 14x = 60 \quad \therefore x = \frac{30}{7}$$

06 오른쪽 그림과 같이 두 꼭짓점 A,

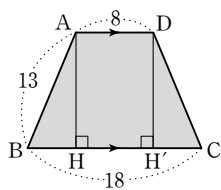
D에서 \overline{BC} 에 내린 수선을 받을 각

각 H, H'이라 하면 □ABCD가 등

변사다리꼴이므로

$$\overline{HH'} = \overline{AD} = 8$$

$$\therefore \overline{BH} = \overline{CH'} = \frac{1}{2} \times (18 - 8) = 5$$



△ABH에서

$$\overline{AH}^2 = 13^2 - 5^2 = 144 = 12^2 \quad \therefore \overline{AH} = 12 (\because \overline{AH} > 0)$$

$$\therefore \square ABCD = \frac{1}{2} \times (8 + 18) \times 12 = 156$$

07 $\overline{AF} = \overline{AD} = 15$ 이므로

△ABF에서

$$\overline{BF}^2 = 15^2 - 9^2 = 144 = 12^2 \quad \therefore \overline{BF} = 12 (\because \overline{BF} > 0)$$

$$\therefore \overline{CF} = 15 - 12 = 3$$

△ABF ∽ △FCE (AA 답음)이므로

$$9 : 3 = 15 : \overline{EF}, 9\overline{EF} = 45 \quad \therefore \overline{EF} = 5$$

08 P=Q+R이므로

$$R = \overline{BC}^2 = 169 - 25 = 144 = 12^2 \text{ (cm}^2\text{)}$$

$$\therefore \overline{BC} = 12 \text{ (cm)} (\because \overline{BC} > 0)$$

09 △ABC에서

$$\overline{AB}^2 = 10^2 - 6^2 = 64 = 8^2$$

$$\therefore \overline{AB} = 8 \text{ (cm)} (\because \overline{AB} > 0)$$

오른쪽 그림과 같이 \overline{AB} 를 한 변으로 하는 정사각형 AFGB를 그리면

$$\triangle BDH = \triangle ABD$$

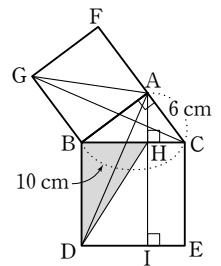
$$= \triangle GBC$$

$$= \triangle GBA$$

$$= \frac{1}{2} \square AFGB$$

$$= \frac{1}{2} \overline{AB}^2$$

$$= \frac{1}{2} \times 8^2 = 32 \text{ (cm}^2\text{)}$$



10 △AEH ≅ △BFE ≅ △CGF ≅ △DHG이므로

□EFGH는 정사각형이다.

△AEH에서

$$\overline{EH}^2 = 3^2 + 4^2 = 25 = 5^2 \quad \therefore \overline{EH} = 5 (\because \overline{EH} > 0)$$

$$\therefore (\square EFGH \text{의 둘레의 길이}) = 4 \times 5 = 20$$

11 △ABP ≅ △PCD이므로

$$\overline{AB} = \overline{PC} = 8 \text{ cm}$$

△ABP에서

$$\overline{AP}^2 = 8^2 + 6^2 = 100 = 10^2$$

$$\therefore \overline{AP} = 10 \text{ (cm)} (\because \overline{AP} > 0)$$

즉 △APD는 ∠APD=90°인 직각이등변삼각형이므로

$$\triangle APD = \frac{1}{2} \times \overline{AP}^2 = \frac{1}{2} \times 10^2 = 50 \text{ (cm}^2\text{)}$$

12 ① $4^2 \neq 2^2 + 3^2$

$$\text{② } 12^2 \neq 6^2 + 9^2$$

$$\text{③ } 17^2 = 8^2 + 15^2$$

$$\text{④ } 41^2 = 9^2 + 40^2$$

$$\text{⑤ } 15^2 \neq 10^2 + 13^2$$

따라서 직각삼각형인 것은 ③, ④이다.

- 13** a 가 가장 긴 변의 길이이므로 삼각형의 세 변의 길이 사이에 관계에 의하여 $5-3 < a < 5+3 \quad \therefore 2 < a < 8$
 이때 $a > 5$ 이므로 $5 < a < 8 \quad \dots\dots \textcircled{7}$
 둔각삼각형이 되려면
 $a^2 > 3^2 + 5^2 \quad \therefore a^2 > 34 \quad \dots\dots \textcircled{8}$
 $\textcircled{7}, \textcircled{8}$ 에서 자연수 a 의 값은 6, 7이므로 그 합은
 $6+7=13$
- 14** $\overline{AB}^2 + \overline{CD}^2 = \overline{BC}^2 + \overline{AD}^2$ 이므로
 $7^2 + 3^2 = \overline{BC}^2 + 5^2 \quad \therefore \overline{BC}^2 = 33$
- 15** $R = P + Q$ 이므로
 $P + Q + R = R + R = 2R$
 $= 2 \times \left(\frac{1}{2} \times \pi \times 8^2 \right)$
 $= 64\pi \text{ (cm}^2\text{)}$
- 16** (어두운 부분의 넓이) = $\triangle ABC$
 $= \frac{1}{2} \times 10 \times 8 = 40 \text{ (cm}^2\text{)}$

1 회 6. 경우의 수 p.42~p.43

01 3	02 ③	03 ③	04 30	05 ④
06 6	07 ③	08 ⑤	09 ①	10 ③
11 ④	12 ④	13 60	14 45번	15 ②
16 12				

- 01** 지불하는 지폐의 장수를 순서쌍 (5000원짜리 지폐의 장수, 10000원짜리 지폐의 장수)로 나타내면 (4, 0), (2, 1), (0, 2)의 3가지
- 02** 3의 배수가 적힌 카드가 나오는 경우는 3, 6, 9, 12, 15, 18의 6가지
- 03** 두 눈의 수의 합이 4인 경우는 (1, 3), (2, 2), (3, 1)의 3가지
 두 눈의 수의 합이 5인 경우는 (1, 4), (2, 3), (3, 2), (4, 1)의 4가지
 따라서 구하는 경우의 수는
 $3+4=7$
- 04** (서로 다른 두 눈이 나오는 경우의 수)
 $= (\text{모든 경우의 수}) - (\text{서로 같은 두 눈이 나오는 경우의 수})$
 이다. 이때 서로 같은 두 눈이 나오는 경우는 (1, 1), (2, 2), (3, 3), (4, 4), (5, 5), (6, 6)의 6가지이므로 구하는 경우의 수는
 $36-6=30$
- 05** 수학 문제집을 고르는 경우의 수는 5이고, 그 각각의 경우에 대하여 영어 문제집을 고르는 경우의 수는 4이다.
 따라서 구하는 경우의 수는
 $5 \times 4 = 20$

- 06** (광주에서 대전으로 가는 방법의 수) \times (대전에서 서울로 가는 방법의 수)
 $= 2 \times 3 = 6$
- 07** P를 맨 앞에 놓고, 그 뒤에 Q, R, S를 일렬로 나열하면 된다.
 즉 3명을 한 줄로 세우는 경우의 수와 같으므로 구하는 경우의 수는 $3 \times 2 \times 1 = 6$
- 08** 여학생 2명을 하나로 묶어서 생각하고 4명을 한 줄로 세우는 경우의 수는 $4 \times 3 \times 2 \times 1 = 24$
 이때 묶음 안에서 여학생 2명이 자리를 바꾸는 경우의 수는 $2 \times 1 = 2$
 따라서 구하는 경우의 수는 $24 \times 2 = 48$
- 09** 백의 자리에 올 수 있는 숫자는 1, 2, 3, 4, 5의 5가지,
 십의 자리에 올 수 있는 숫자는 백의 자리에 놓인 숫자를 제외한 4가지,
 일의 자리에 올 수 있는 숫자는 백의 자리와 십의 자리를 놓인 숫자를 제외한 3가지이다.
 따라서 구하는 자연수의 개수는
 $5 \times 4 \times 3 = 60$
- 10** 일의 자리에 올 수 있는 숫자는 2, 4의 2가지이다.
 (i) $\square 2$ 인 경우 : 12, 32, 42의 3개
 (ii) $\square 4$ 인 경우 : 14, 24, 34의 3개
 따라서 구하는 짝수의 개수는 $3+3=6$
- 11** 백의 자리에 올 수 있는 숫자는 0을 제외한 4가지,
 십의 자리에 올 수 있는 숫자는 백의 자리에 놓인 숫자를 제외한 4가지,
 일의 자리에 올 수 있는 숫자는 백의 자리와 십의 자리에 놓인 숫자를 제외한 3가지이다.
 따라서 구하는 자연수의 개수는 $4 \times 4 \times 3 = 48$
- 12** 남학생 3명 중에서 대표 1명을 뽑는 경우의 수는 3
 여학생 4명 중에서 대표 1명을 뽑는 경우의 수는 4
 따라서 구하는 경우의 수는 $3 \times 4 = 12$
- 13** 6명 중에서 회장 1명을 뽑는 경우의 수는 6이고
 회장으로 뽑힌 1명을 제외한 나머지 5명 중에서 부회장 2명을 뽑는 경우의 수는 $\frac{5 \times 4}{2 \times 1} = 10$
 따라서 구하는 경우의 수는 $6 \times 10 = 60$
- 14** 10명 중에서 자격이 같은 대표 2명을 뽑는 경우의 수와 같다.
 따라서 구하는 경우의 수는
 $\frac{10 \times 9}{2 \times 1} = 45$
- 15** 6명 중 대표 3명을 뽑는 경우의 수와 같다.
 따라서 구하는 삼각형의 개수는
 $\frac{6 \times 5 \times 4}{3 \times 2 \times 1} = 20$

- 16** A → B → C의 순서로 색을 칠하면
 A 부분에는 3가지
 B 부분에는 A 부분에 칠한 색을 제외한 2가지
 C 부분에는 B 부분에 칠한 색을 제외한 2가지
 따라서 구하는 경우의 수는
 $3 \times 2 \times 2 = 12$

2회 6. 경우의 수

p.44~p.45

01 ④	02 ③	03 9	04 ①	05 ⑤
06 ④	07 6	08 6	09 6	10 ①
11 ③	12 ①	13 12	14 ②	15 15개
16 48				

- 01** 6의 약수의 눈이 나오는 경우의 수는 1, 2, 3, 6의 4
- 02** 지불하는 동전의 개수를 순서쌍 (500원짜리 동전의 개수, 100원짜리 동전의 개수, 50원짜리의 동전의 개수)로 나타내면 (3, 2, 1), (3, 1, 3), (3, 0, 5), (2, 5, 5)의 4가지
- 03** $4 + 5 = 9$
- 04** (i) 3의 배수가 적힌 공이 나오는 경우는 3, 6, 9, 12, 15의 5가지
 (ii) 4의 배수가 적힌 공이 나오는 경우는 4, 8, 12의 3가지
 (iii) 3의 배수이면서 4의 배수, 즉 12의 배수가 적힌 공이 나오는 경우는 12의 1가지
 따라서 구하는 경우의 수는
 $5 + 3 - 1 = 7$
- 05** (i) 두 눈의 수의 차가 1인 경우는 (1, 2), (2, 1), (2, 3), (3, 2), (3, 4), (4, 3), (4, 5), (5, 4), (5, 6), (6, 5)의 10가지
 (ii) 두 눈의 수의 차가 2인 경우는 (1, 3), (2, 4), (3, 1), (3, 5), (4, 2), (4, 6), (5, 3), (6, 4)의 8가지
 따라서 구하는 경우의 수는
 $10 + 8 = 18$
- 06** $4 \times 3 = 12$
- 07** 동전이 서로 같은 면이 나오는 경우는 (앞, 앞), (뒤, 뒤)의 2가지
 주사위에서 소수의 눈이 나오는 경우는 2, 3, 5의 3가지
 따라서 구하는 경우의 수는
 $2 \times 3 = 6$
- 08** 한 번에 승부가 나려면 비기지 않아야 한다.
 모든 경우의 수는 $3 \times 3 = 9$

A, B 두 사람이 비기는 경우를 순서쌍 (A, B)로 나타내면 (가위, 가위), (바위, 바위), (보, 보)의 3가지
 따라서 구하는 경우의 수는
 (모든 경우의 수) - (비기는 경우의 수) = $9 - 3 = 6$

- 09** A 지점에서 P 지점으로 가는 경우 : 2가지
 P 지점에서 B 지점으로 가는 경우 : 3가지
 따라서 구하는 방법의 수는
 $2 \times 3 = 6$
- 10** 엄마, 아빠를 하나로 묶어서 생각하고 3명을 한 줄로 세우는 경우의 수는 $3 \times 2 \times 1 = 6$
 이때 묶음 안에서 엄마, 아빠를 한 줄로 세우는 경우의 수는
 $2 \times 1 = 2$
 따라서 구하는 경우의 수는
 $6 \times 2 = 12$
- 11** 십의 자리에 올 수 있는 숫자는 0을 제외한 3가지
 일의 자리에 올 수 있는 숫자는 십의 자리에 놓인 숫자를 제외한 3가지
 따라서 구하는 경우의 수는
 $3 \times 3 = 9$
- 12** 십의 자리에 올 수 있는 숫자는 2, 3, 4, 5의 4가지
 일의 자리에 올 수 있는 숫자는 십의 자리에 놓인 숫자를 제외한 5가지
 따라서 구하는 경우의 수는
 $4 \times 5 = 20$
- 13** 시장 1명을 뽑는 경우의 수는 2가지, 시의원 2명을 뽑는 경우의 수는 $\frac{4 \times 3}{2 \times 1} = 6$
 따라서 구하는 경우의 수는
 $2 \times 6 = 12$
- 14** 5명 중에서 자격이 같은 대표 2명을 뽑는 경우의 수와 같다.
 따라서 구하는 경기의 수는
 $\frac{5 \times 4}{2 \times 1} = 10(\text{번})$
- 15** 서로 다른 두 마을을 이어 만들 수 있는 길의 개수는 6명 중에서 자격이 같은 대표 2명을 뽑는 경우의 수와 같다.
 따라서 구하는 길의 개수는
 $\frac{6 \times 5}{2 \times 1} = 15$
- 16** A → B → C → D의 순서로 색을 칠하면
 A 부분에는 4가지
 B 부분에는 A 부분에 칠한 색을 제외한 3가지
 C 부분에는 A와 B 부분에 칠한 색을 제외한 2가지
 D 부분에는 A와 C 부분에 칠한 색을 제외한 2가지
 따라서 구하는 경우의 수는 $4 \times 3 \times 2 \times 2 = 48$

1 회 7. 확률

p.46~p.47

01 ④	02 ①	03 ②	04 ①	05 ⑤
06 $\frac{1}{18}$	07 $\frac{7}{8}$	08 $\frac{3}{5}$	09 ③	10 $\frac{1}{4}$
11 ⑤	12 ①	13 ③	14 $\frac{9}{25}$	15 ①
16 $\frac{1}{3}$				

- 02** 모든 경우의 수는 $6 \times 6 = 36$
 두 눈의 수의 합이 9가 되는 경우는 (3, 6), (4, 5), (5, 4), (6, 3)의 4가지
 \therefore (구하는 확률) $= \frac{4}{36} = \frac{1}{9}$
- 03** 모든 경우의 수는 $3 \times 3 = 9$
 갑이 이기는 경우를 순서쌍 (갑, 을)로 나타내면 (가위, 보), (바위, 가위), (보, 바위)의 3가지
 \therefore (구하는 확률) $= \frac{3}{9} = \frac{1}{3}$
- 04** 10 이상의 자연수는 나올 수 없으므로 구하는 확률은 0이다.
- 05** 두 자리의 자연수의 개수는 $3 \times 3 = 9$
 이때 20 이상인 두 자리의 자연수는 20, 21, 23, 30, 31, 32의 6개
 \therefore (구하는 확률) $= \frac{6}{9} = \frac{2}{3}$
- 06** 모든 경우의 수는 $6 \times 6 = 36$
 이때 $3x + y = 10$ 을 만족하는 순서쌍 (x, y) 는 (2, 4), (3, 1)의 2가지
 \therefore (구하는 확률) $= \frac{2}{36} = \frac{1}{18}$
- 07** 모든 경우의 수는 $2 \times 2 \times 2 = 8$
 모두 뒷면이 나오는 경우는 (뒤, 뒤, 뒤)의 1가지
 \therefore (적어도 하나는 앞면이 나올 확률)
 $= 1 - (\text{모두 뒷면이 나올 확률})$
 $= 1 - \frac{1}{8} = \frac{7}{8}$
- 08** 모든 경우의 수는 10
 소수가 나오는 경우는 2, 3, 5, 7의 4가지이므로 그 확률은 $\frac{4}{10}$
 4의 배수가 나오는 경우는 4, 8의 2가지이므로 그 확률은 $\frac{2}{10}$
 \therefore (구하는 확률) $= \frac{4}{10} + \frac{2}{10} = \frac{6}{10} = \frac{3}{5}$
- 09** 모든 경우의 수는 20
 4의 배수가 나오는 경우는 4, 8, 12, 16, 20의 5가지이므로 그 확률은 $\frac{5}{20}$

- 5의 배수가 나오는 경우는 5, 10, 15, 20의 4가지이므로 그 확률은 $\frac{4}{20}$
 이때 4의 배수이면서 5의 배수인 경우는 20의 1가지이므로 그 확률은 $\frac{1}{20}$
 \therefore (구하는 확률) $= \frac{5}{20} + \frac{4}{20} - \frac{1}{20} = \frac{8}{20} = \frac{2}{5}$
- 10** 동전이 앞면이 나올 확률은 $\frac{1}{2}$
 주사위가 소수의 눈이 나오는 경우는 2, 3, 5의 3가지이므로 그 확률은 $\frac{3}{6} = \frac{1}{2}$
 \therefore (구하는 확률) $= \frac{1}{2} \times \frac{1}{2} = \frac{1}{4}$
- 11** 내일 비가 오지 않을 확률은 $1 - \frac{20}{100} = \frac{8}{10}$
 내일 황사가 올 확률은 $\frac{30}{100} = \frac{3}{10}$
 \therefore (구하는 확률) $= \frac{8}{10} \times \frac{3}{10} = \frac{24}{100} = 24(\%)$
- 12** (두 사람이 약속 장소에서 만나지 못할 확률)
 $= 1 - (\text{두 사람이 약속 장소에서 만날 확률})$
 $= 1 - \frac{1}{5} \times \frac{1}{4}$
 $= 1 - \frac{1}{20} = \frac{19}{20}$
- 13** (적어도 한 문제를 맞힐 확률)
 $= 1 - (\text{두 문제 모두 틀릴 확률})$
 $= 1 - \frac{4}{5} \times \frac{4}{5}$
 $= 1 - \frac{16}{25} = \frac{9}{25}$
- 14** 처음에 흰 공을 꺼낼 확률은 $\frac{3}{5}$ 이고, 꺼낸 공을 다시 넣으므로 두 번째에 흰 공을 꺼낼 확률은 $\frac{3}{5}$
 \therefore (구하는 확률) $= \frac{3}{5} \times \frac{3}{5} = \frac{9}{25}$
- 15** 갑이 당첨 제비를 뽑을 확률은 $\frac{2}{8}$ 이고, 뽑은 제비는 다시 넣지 않으므로 을이 당첨 제비를 뽑을 확률은 갑이 당첨 제비 하나를 뽑았으므로 $\frac{1}{7}$
 \therefore (구하는 확률) $= \frac{2}{8} \times \frac{1}{7} = \frac{1}{28}$
- 16** (구하는 확률) $= \frac{(\text{B 부분의 넓이})}{(\text{전체 넓이})}$
 $= \frac{\pi \times 2^2 - \pi \times 1^2}{\pi \times 3^2}$
 $= \frac{3\pi}{9\pi} = \frac{1}{3}$

2회 7. 확률

p.48~p.49

01 ③	02 ⑤	03 ④	04 $\frac{1}{4}$	05 ②
06 ③	07 ①	08 ⑤	09 ③	10 $\frac{1}{2}$
11 ④	12 ②	13 ⑤	14 ③	15 ②
16 ①				

02 $\frac{1}{a}$ 이 유한소수가 되는 경우는 $\frac{1}{2}, \frac{1}{4}, \frac{1}{5}, \frac{1}{8}, \frac{1}{10}$ 의 5가지이므로 구하는 확률은 $\frac{5}{9}$

03 모든 경우의 수는 $6 \times 6 = 36$
두 눈의 수의 차가 4가 되는 경우는 (1, 5), (2, 6), (5, 1), (6, 2)의 4가지

$$\therefore (\text{구하는 확률}) = \frac{4}{36} = \frac{1}{9}$$

04 두 자리의 자연수의 개수는 $4 \times 3 = 12$
두 자리의 자연수가 40보다 큰 경우는 41, 42, 43의 3가지

$$\therefore (\text{구하는 확률}) = \frac{3}{12} = \frac{1}{4}$$

05 모든 경우의 수는 $4 \times 3 \times 2 = 24$
A가 맨 앞에 서는 경우는 A를 맨 앞에 고정시킨 후 3명 중 2명을 뽑아 한 줄로 세우는 경우이므로 $3 \times 2 = 6$ (가지)

$$\therefore (\text{구하는 확률}) = \frac{6}{24} = \frac{1}{4}$$

06 모든 경우의 수는 $\frac{5 \times 4}{2 \times 1} = 10$

이때 2명 모두 남학생이 뽑히는 경우의 수는 $\frac{3 \times 2}{2 \times 1} = 3$

$$\begin{aligned} \therefore (\text{적어도 여학생이 한 명 뽑힐 확률}) \\ &= 1 - (\text{2명 모두 남학생이 뽑힐 확률}) \\ &= 1 - \frac{3}{10} = \frac{7}{10} \end{aligned}$$

07 모든 경우의 수는 $6 \times 6 = 36$

(i) 해가 2인 경우
 $ax - b = 0$ 에 $x = 2$ 를 대입하면
 $2a - b = 0$ 에서 $2a = b$
이를 순서쌍 (a, b) 로 나타내면 (1, 2), (2, 4), (3, 6)의 3가지

(ii) 해가 6인 경우
 $ax - b = 0$ 에 $x = 6$ 을 대입하면
 $6a - b = 0$ 에서 $6a = b$
이를 순서쌍 (a, b) 로 나타내면 (1, 6)의 1가지

(i), (ii)에서 구하는 경우의 수는 $3 + 1 = 4$

$$\therefore (\text{구하는 확률}) = \frac{4}{36} = \frac{1}{9}$$

09 3의 배수가 나오는 경우는 3, 6, 9, 12, 15의 5가지이므로 그 확률은 $\frac{5}{15}$

7의 배수가 나오는 경우는 7, 14의 2가지이므로 그 확률은 $\frac{2}{15}$

$$\therefore (\text{구하는 확률}) = \frac{5}{15} + \frac{2}{15} = \frac{7}{15}$$

10 모든 경우의 수는 $6 \times 6 = 36$

(i) 두 눈의 수의 합이 3이 되는 경우는

(1, 2), (2, 1)의 2가지

(ii) 두 눈의 수의 합이 5가 되는 경우는

(1, 4), (2, 3), (3, 2), (4, 1)의 4가지

(iii) 두 눈의 수의 합이 7이 되는 경우는

(1, 6), (2, 5), (3, 4), (4, 3), (5, 2), (6, 1)의 6가지

(iv) 두 눈의 수의 합이 9가 되는 경우는

(3, 6), (4, 5), (5, 4), (6, 3)의 4가지

(v) 두 눈의 수의 합이 11이 되는 경우는

(5, 6), (6, 5)의 2가지

(i)~(v)에서 구하는 경우의 수는 $2 + 4 + 6 + 4 + 2 = 18$

$$\therefore (\text{구하는 확률}) = \frac{18}{36} = \frac{1}{2}$$

$$11 \quad \frac{2}{5} \times \frac{2}{3} = \frac{4}{15}$$

12 두 사람이 약속 장소에서 만나려면 두 사람 모두 약속 장소에 나와야 한다.

$$\begin{aligned} \therefore (\text{구하는 확률}) &= \left(1 - \frac{3}{5}\right) \times \left(1 - \frac{2}{3}\right) \\ &= \frac{2}{5} \times \frac{1}{3} = \frac{2}{15} \end{aligned}$$

13 (적어도 한 사람이 문제를 풀 확률)

$= 1 - (\text{두 사람 모두 문제를 풀지 못할 확률})$

$$= 1 - \left(1 - \frac{3}{4}\right) \times \left(1 - \frac{4}{5}\right)$$

$$= 1 - \frac{1}{4} \times \frac{1}{5} = 1 - \frac{1}{20} = \frac{19}{20}$$

14 월요일에 비가 올 확률은 $\frac{40}{100} = \frac{4}{10}$

화요일에 비가 오지 않을 확률은 $1 - \frac{30}{100} = \frac{70}{100} = \frac{7}{10}$

$$\therefore (\text{구하는 확률}) = \frac{4}{10} \times \frac{7}{10} = \frac{28}{100} = 28 (\%)$$

15 처음에 흰 구슬을 꺼낼 확률은 $\frac{4}{10}$ 이고, 꺼낸 구슬은 다시 넣

지 않으므로 두 번째에 빨간 구슬을 꺼낼 확률은 $\frac{6}{9}$

$$\therefore (\text{구하는 확률}) = \frac{4}{10} \times \frac{6}{9} = \frac{4}{15}$$

16 (두 공의 색깔이 같을 확률)

$= (\text{두 주머니 A, B에서 모두 흰 공을 꺼낼 확률})$

$+ (\text{두 주머니 A, B에서 모두 검은 공을 꺼낼 확률})$

$$= \frac{2}{5} \times \frac{5}{10} + \frac{3}{5} \times \frac{5}{10} = \frac{1}{5} + \frac{3}{10} = \frac{5}{10} = \frac{1}{2}$$

핵심 테스트

1. 이등변삼각형의 성질 p.53

- 1 ③ 2 ④ 3 50° 4 72° 5 24°
6 25° 7 68° 8 75°

2. 직각삼각형의 합동 조건 p.55

- 1 (1) \overline{DF} , RHS (2) $\angle D$, RHA 2 ② 3 12 cm
4 5 cm 5 12 cm 6 ④ 7 ⑤ 8 28 cm²

3. 삼각형의 외심과 내심 p.57

- 1 ③ 2 (1) 20° (2) 66° 3 $\frac{5}{2}$ 4 ③
5 (1) 35° (2) 70° 6 20 cm 7 9 8 1 cm

4. 평행사변형의 성질 p.59

- 1 (1) $x=3, y=5$ (2) $x=65, y=25$ 2 80° 3 5 cm
4 ④ 5 ② 6 12 7 6쌍 8 30 cm²

5. 평행사변형이 되는 조건 p.61

- 1 ⑤ 2 ①, ④
3 (1) $\overline{DC}, \overline{BC}$ (2) $\overline{DC}, \overline{BC}$ (3) $\angle BCD, \angle ADC$ (4) $\overline{OC}, \overline{OD}$
4 2 cm 5 ④ 6 ㉞ 7 ㉞ 8 ㉟

6. 여러 가지 사각형 p.63

- 1 (1) $x=30, y=60$ (2) $x=3, y=3$
2 (1) $x=5, y=55$ (2) $x=110, y=35$
3 (1) $x=5, y=70$ (2) $x=80, y=100$
4 ⑤ 5 ① 6 ①, ④ 7 ③, ⑤ 8 ②

7. 여러 가지 사각형의 활용 p.65

- 1 마름모 2 ⑤ 3 평행사변형 4 6 cm 5 직사각형
6 정사각형 7 직사각형 8 마름모

8. 여러 가지 사각형 사이의 관계 p.67

- 1 (1) x, ○, ○, ○, ○ (2) x, ○, ○, ○, ○ (3) x, ○, ○, ○, ○
(4) x, ○, ○, ○, ○ (5) x, x, ○, x, ○ (6) x, x, x, ○, ○
2 ② 3 ㉠, ㉡, ㉢ 4 ⑤ 5 36 cm² 6 10 cm²
7 ⑤

9. 닮음의 뜻과 성질 p.69

- 1 ④ 2 ④ 3 ㉠, ㉡, ㉢ 4 ④ 5 ②, ④
6 ⑤ 7 28

10. 삼각형의 닮음 조건 p.71

- 1 ① 2 (1) 6 (2) 6 3 ④ 4 ③
5 (1) 20 (2) 3 6 6 7 $\frac{5}{3}$ 8 $\frac{35}{4}$ cm

11. 삼각형과 평행선 p.73

- 1 (1) 2 (2) 3 2 ① 3 $\frac{21}{5}$ 4 $\frac{18}{5}$ 5 8
6 2 7 10

12. 평행선과 선분의 길이의 비 p.75

- 1 (1) 15 (2) $\frac{15}{2}$ 2 (1) 4.5 (2) 20 3 8
4 8 5 (1) 8 (2) 4 6 8 cm 7 $\frac{24}{5}$ 8 $\frac{16}{3}$ cm

13. 삼각형의 무게중심과 닮음의 활용 p.77

- 1 (1) $x=3, y=5$ (2) $x=4, y=\frac{8}{3}$ 2 20 cm² 3 ⑤
4 12 cm 5 12 cm 6 9 cm² 7 512 cm³ 8 40 cm

14. 피타고라스 정리 p.79

- 1 (1) 12 (2) 10 2 (1) 21 (2) 23 3 4 4 $\frac{24}{5}$ 5 ⑤
6 60 7 49 cm² 8 6

15. 피타고라스 정리의 성질 p.81

- 1 ④, ⑤ 2 6 3 32 4 18 5 130
6 5π cm² 7 6 cm² 8 13

16. 경우의 수 (1) p.83

- 1 6 2 5 3 15 4 6 5 8
6 6 7 3 8 9 9 18

17. 경우의 수 (2) p.85

- 1 24 2 360 3 12 4 24 5 16
6 10 7 60 8 6 9 15 10 6

18. 확률 p.87

- 1 $\frac{3}{8}$ 2 $\frac{4}{9}$ 3 ⑤ 4 $\frac{7}{10}$ 5 $\frac{3}{4}$
6 $\frac{1}{2}$ 7 $\frac{2}{7}$ 8 $\frac{7}{15}$ 9 $\frac{15}{16}$ 10 $\frac{11}{12}$

